

# МКОУ «Малобичинская СОШ»



## Решение задач на движение

Подготовила учитель начальных классов  
Алимбаева Ляля Тухтаровна






**М, КМ, КМ/С, ДМ, КМ/Ч, СМ, ММ,**

**ММ, СМ, М, ДМ, М, КМ**

**КМ/С, КМ/Ч**

**Ч, 60МИН, 60С**

<b>1 уровень</b> <b>задача</b>	<b>рассто</b> <b>яние</b>	<b>скорос</b> <b>ть</b>	<b>время</b>				
Избушка на курьих ножках за 8 часов пробежала 72 км. С какой скоростью бежала избушка?	72км	9км/ч	8ч				
Иван- царевич шёл нехоженными тропинками 6 часов со скоростью 6 км ч. Какова длина пройденных тропинок?	<b>36 км</b>	6км/ч	6ч				
<b>2 уровень</b>				<b>рассто</b> <b>яние</b>	<b>скорос</b> <b>ть</b>	<b>время</b>	
<b>3 уровень</b>	<b>1. Ковер-самолёт летит со скоростью 200 км ч.</b>	<b>рассто</b> <b>яние</b>	<b>скорос</b> <b>ть</b>	<b>время</b>	<b>рассто</b> <b>яние</b>	<b>скорос</b> <b>ть</b>	<b>время</b>
Баба- Яга на метле пролетела за 2 часа со скоростью 10 км/ч. Сколько километров она пролетела?	20км + 12км= 32км	10км/ч	2ч				
Случайно Баба-Яги осталось пролететь до избушки 12 км. Какова скорость пути Бабы-Яги?	320км за 4 часа.	320км	80км/ч	4ч			
Водяному нужно проплыть 500 м. Он плывёт уже 10 минут со скоростью 20 м/ мин. Сколько метров ему осталось проплыть?	500-(10 *20)=3 00 км	20 м/мин	10 мин				







Смотрим справа-налево –

....

Смотрим слева-направо –

Проверь

себя.

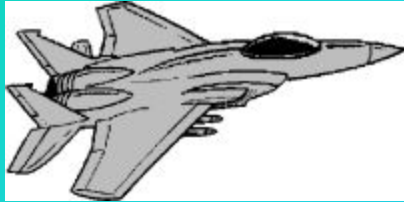
$$1) 6 * 90 = 540 \text{ (км)}$$

$$2) 4 * 80 = 320 \text{ (км)}$$

$$3) 540 + 320 = 860 \text{ (км)}$$

Ответ: 860 км.

Проверь  
себя.



1-

В

2-

А

3-


Б








Задания на уроке оказались трудными.  
Мне нужна помощь!



Сегодня на уроке не все задания  
оказались легкими. Мне было трудно, но  
я справился. Я доволен собой!



Урок прошел удачно: я участвовал в  
работе класса, с заданиями справился  
успешно. Я очень доволен собой.

Спасибо за урок!

