

# ИСКЛЮЧИ ЛИШНЕЕ СЛОВО В КАЖДОМ РЯДУ

задача   делимое   делитель   значение  
частного

сложение   таблица   умножение   деление

треугольник   прямоугольник   чертёж   квадрат

# УСТАНОВИ ВЗАИМОСВЯЗЬ МЕЖДУ ЭТИМИ СЛОВАМИ

**задача**

**таблица**

**чертёж**

**Тема урока.** Решение задач с помощью таблиц и чертежей.

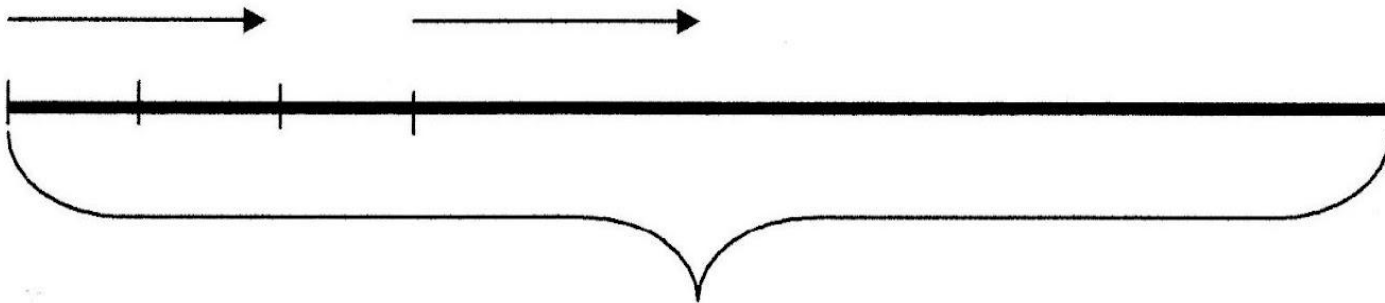
**Цель урока:** научиться с помощью таблиц и чертежей решать задачи.

**Учебная задача:** решать задачи с помощью с таблиц и чертежей.

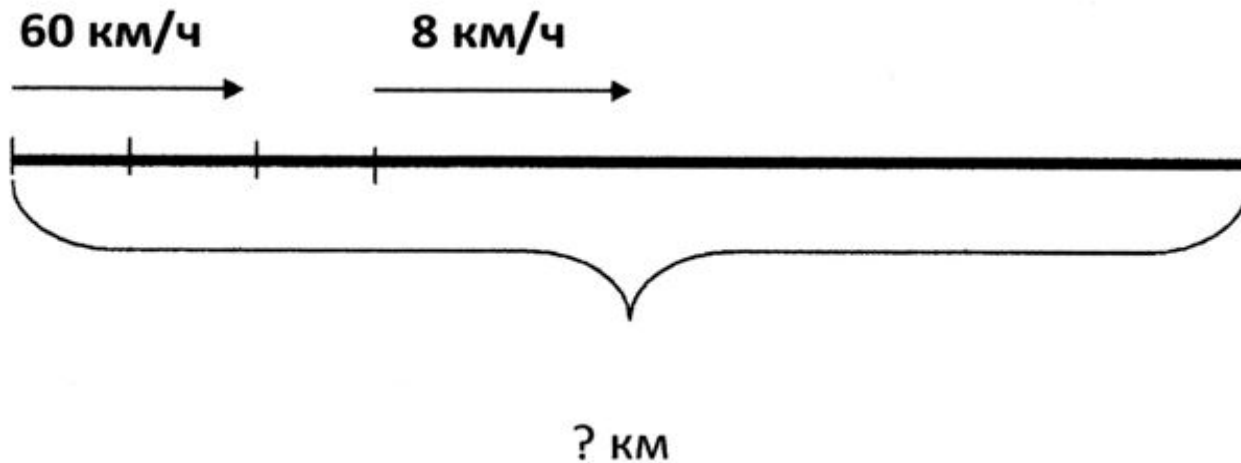
# таблица

	Скорость	Время	Расстояние
Машина			
Лошадь			

# чертёж



	Скорость	Время	Расстояние
Машина	60 км/ч	3 ч	? } 420 км
Лошадь	8 км/ч	?	? }



- 1)  $60 \times 3 = 180$  (км) - проехали на машине
- 2)  $420 - 180 = 240$  (км) - проехали на лошадях
- 3)  $240 : 8 = 30$  (ч) - ехали на лошадях

Ответ: 30 часов геологи ехали на лошадях.

# ЛЕСЕНКА УСПЕХА

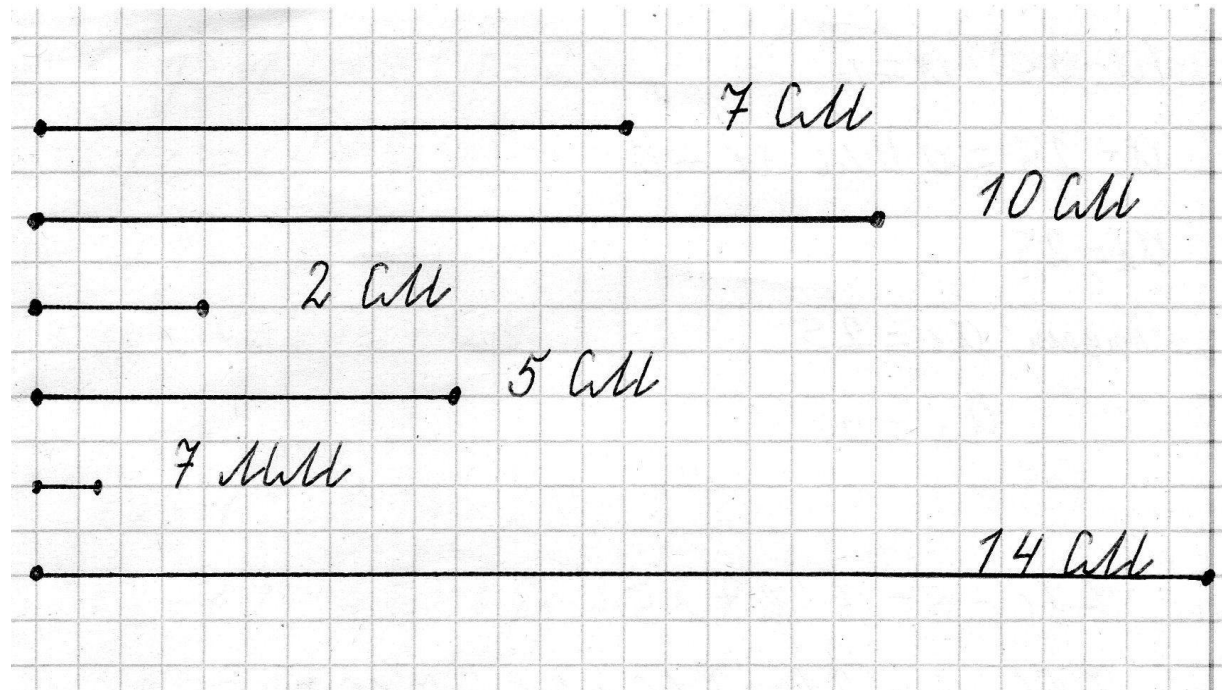
**Я успешно справился с заданием**

**Задание вызвало небольшие затруднения**

**Мне было очень трудно**



Улитка проползла за час 70 сантиметров. Как в тетради изобразить её путь?



### 1 группа «Рынок»

	Цена	Количество	Стоимость
Яблоки	70 руб.	?	280 руб.

### 2 группа магазин «Игрушки»

	Цена	Количество	Стоимость
Машинки	? руб.	5 шт.	450 руб.

	Цена	Количество	Стоимость
Машинки	450 руб.	5 шт.	? руб.

### 3 группа «Одежда»

	Цена	Количество	Стоимость
Шапки	210 руб.	4 шт.	? руб.



### 1 ряд

$$280 : 70 = 4 \text{ (кг)}$$

Ответ: купили 4 килограмма яблок.

### 2 ряд

$$450 : 5 = 90 \text{ (руб.)}$$

Ответ: цена одной машинки 90 рублей.

$$450 \times 5 = 2250 \text{ (руб.)}$$

Ответ: стоимость пяти машинок 2250 рублей.

### 3 ряд

$$210 \times 4 = 840 \text{ (руб.)}$$

Ответ: за четыре шапки заплатили 840 рублей.

# Оцени свою работу на уроке



<b>Я очень доволен своей работой.</b>	<b>Мне надо разобраться в некоторых вопросах.</b>	<b>У меня много ошибок.</b>

# Подведём вместе итоги

Что на уроке для Вас было особенно ценным, важным?

Кого и за что Вы похвалили бы на уроке?

Какое задание больше всего вызвало у Вас интерес?