

Цирк









Устный счёт



Помогите льву сравнить числа!





ЗАДАЧА



У клоуна Васи пять мячей, а у клоуна Гены на два мяча больше. Сколько мячей у Гены?



$$5+2=7$$



Составьте задачу



**Из каких частей состоит
задача?**

**Условие
Вопрос
Решение
Ответ**



**На прошлой неделе слон
выходил на арену цирка 8 раз,
а на этой – на три раза меньше.**

**Сколько раз слон
выступал на этой
неделе?**

$$8-3=5$$

Ответ: 5 раз.








Тема урока «Решение задач»



Цель урока: ?

- научиться писать букву У
- научиться пересказывать текст
- научиться решать задачи на сравнение чисел

Фокусник



Тема урока «Решение задач»

Цель урока:

-научиться решать задачи на
сравнение чисел



Молодцы!

