

Муниципальное образовательное учреждение лицей
ст. Азовская

Разработка урока математики с
элементами
кубановедения
(4 класс)



Юрченко Ирина Валерьевна
учитель начальных классов
МОУ лицей ст. Азовская
Северский район,
Краснодарский край
тел. 8-918-2665828

- **Тема урока:** Доли
- **Цель урока:** познакомить с понятием «доли», как с обозначением деления предмета, геометрической фигуры на равные части; закреплять умение называть доли, записывать, самостоятельно анализировать и решать задачи, уравнения, устанавливать порядок действий в выражениях; развивать логическое мышление, память, внимание, интерес к предмету, воспитывать любовь к родине, уважение к казачьим традициям.
- **Оборудование:** мультимедийный проектор, таблицы, схемы,

Кто в семье главный?

$(54 + 72) + 28$	Е
$39 + (1 + 26)$	Ж
$196 + 207 + 4$	Д

407	154	407



Сколько человек могло жить в одной семье?

42172 – 5 x X = 42022



Как обращались дети к своим родителям?

1028 : 257

- 8 - Говорили «ТЫ»
- 12 - Говорили «предки»
- 4 - Говорили «ВЫ»

По сколько орехов получит каждый ребенок, если всего орехов 78, а детей в семье 6 ?



Сколько надо купить ткани, если надо сшить четверем девочкам по 3 платья, а на одно уходит 2 метра?



Что получит каждый из шестерых детей, если на гостинец родители привезли 1 арбуз?




Арбузик

Равные части арбуза – называют ДОЛЯМИ.
Так как арбуз разделили на 6 долей,
то одна доля «одна шестая арбуза»

$$\frac{1}{6}$$

$$\frac{5}{6}$$



Записи вида $\frac{5}{6}$ называют

обыкновенными дробями.

Числитель дроби $\frac{5}{6}$

Знаменатель дроби $\frac{5}{6}$


Знаменатель дроби показывает

на сколько частей делится

числитель дроби

показ

сколько частей взято.



Игра

«ДОЛИ»

Арбуз разрезали на равные доли.

На тарелку положили 5 долей.


Найди дробь и щелкни по ней мышкой.

$$\frac{9}{4}$$

$$\frac{4}{9}$$


$$\frac{5}{9}$$

$$\frac{9}{5}$$



$$\frac{3}{5} \quad \frac{5}{3} \quad \frac{1}{2} \quad \frac{2}{5}$$

Какая часть фигуры закрашена?



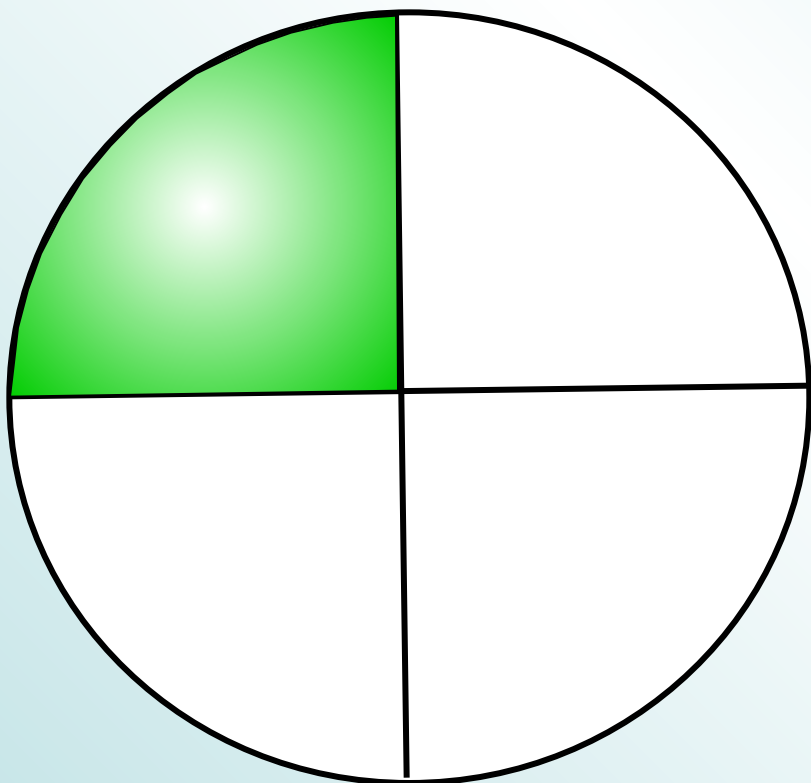
$$\frac{1}{3}$$

$$\frac{1}{4}$$


$$\frac{4}{3}$$

$$\frac{3}{4}$$

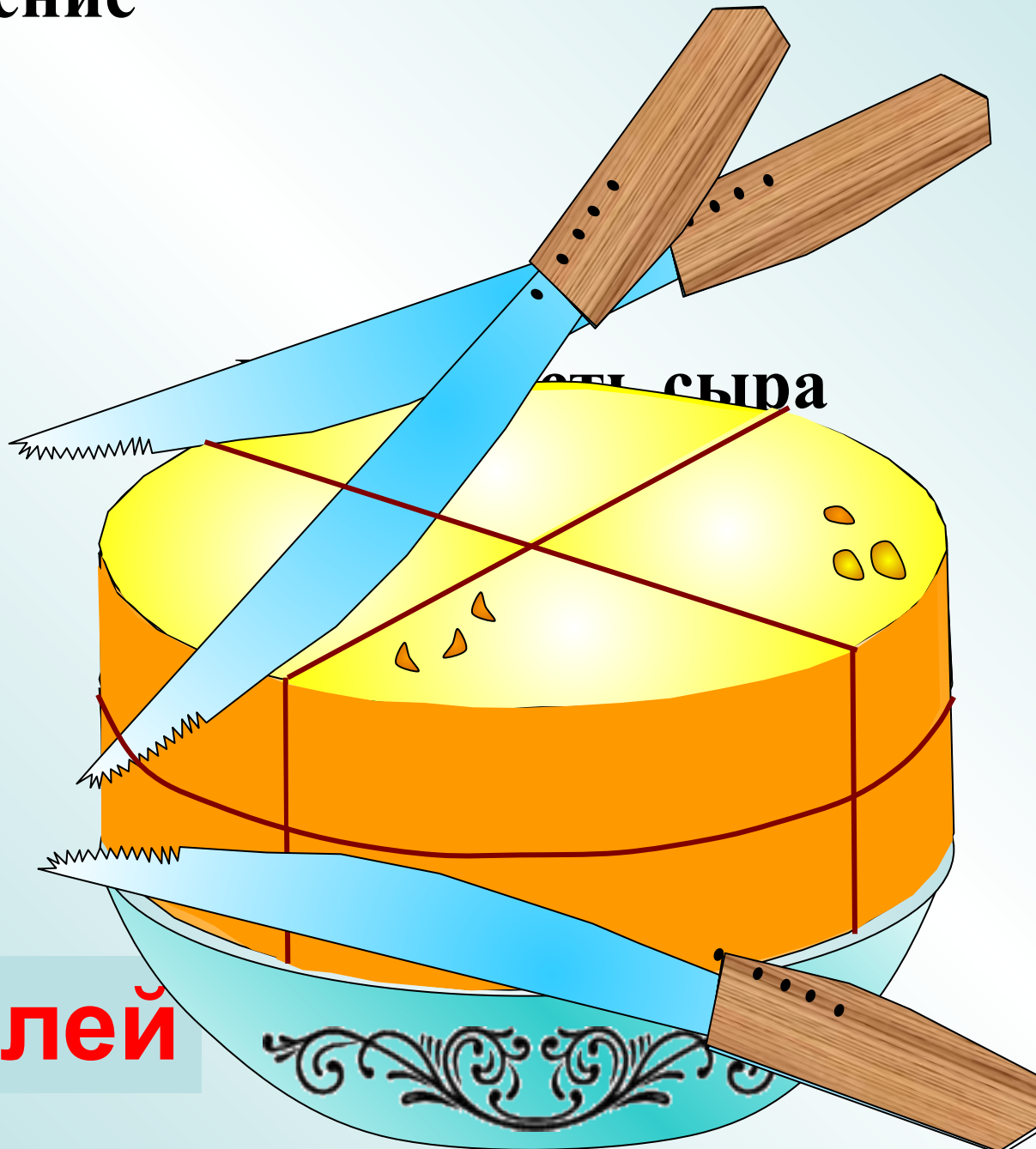
Какая часть фигуры закрашена?



Как разрезать головку сыра на 8 равных долей, сделав только три разреза?



Решение



8 долей



Спасибо за урок!

