

Запишите числа по порядку:

а) от 5 до 13

5 6 7 8 9 10 11 12 **13**

б) от 7 до 20

7 8 9 10 11 12 13 14 15 16 17 18 19 **20**

в) от 19 до 6

19 18 17 16 15 14 13 12 11 10 9 8 7 **6**

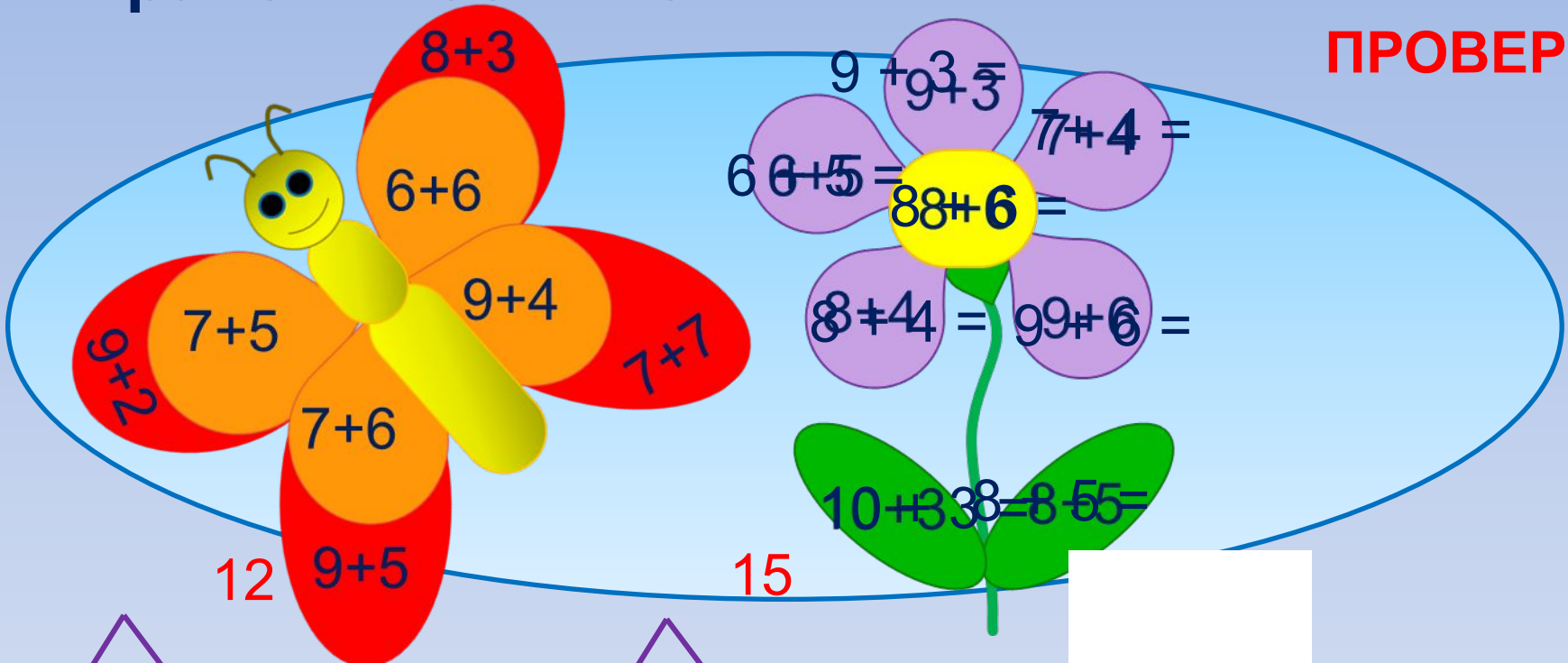
г) от 11 до 20

11 12 13 14 15 16 17 18 19 **20**

**Сложение и
вычитание
в пределах 20**

Рассмотри рисунок Кати. Значения каких выражений больше 11?


ПРОВЕРЬ!



12

15

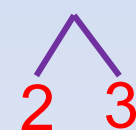
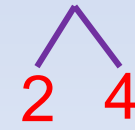
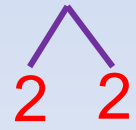
13



12

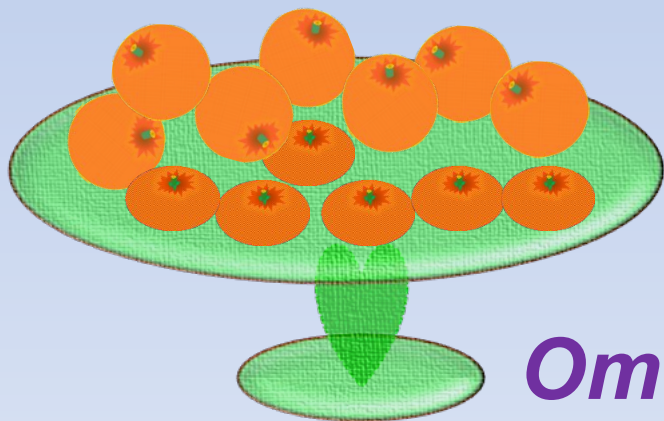

14

13



В вазе было 7 апельсинов и 6 мандаринов.
Сколько фруктов съели, если
в вазе осталось 5 мандаринов?

$$7 + 6 \text{ (фр.)}$$




1) $7 + 6 = 13 \text{ (фр.)} - \text{было.}$


2) $13 + 5 = 8 \text{ (фр.)}$

Ответ: 8 фруктов осталось.


Оцени свою работу на уроке



-у меня всё получилось



- я испытывал затруднения



- я ничего не понял