

# «Сравнение трехзначных чисел»

## 3 класс урок №101

**УМК «Школа России»  
Учебник 3 класс 2 часть  
М. Моро, М.А. Бантова,  
Г.В. Бельтюкова**

Автор : Гилева Наталия Владимировна  
учитель начальных классов  
МКОУ «Перегрёбинская СОШ №1»  
Октябрьского района Тюменской  
области

2018



Вычисли.

$$200 + 70 + 2 =$$

$$200 + 99 + 1 =$$

$$560 - 60 + 1 =$$



$$900 + 76 =$$



# Логическая разминка



Масса поросенка и пса **64** кг, барана и пса – тоже **64** кг, а пса и барана – **60** кг. Какова масса поросёнка?



**64** кг


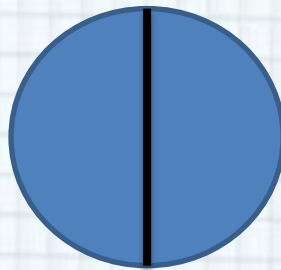
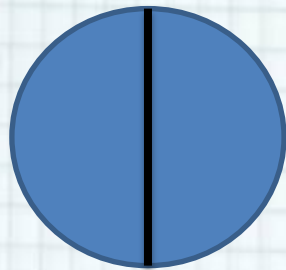
**64** кг

**60** кг

Поросёнок весит **34** кг




Три одинаковые ватрушки надо  
разделить поровну между **4**  
детьми. Как это сделать, выполнив  
наименьшее число разрезов?



Проверка:


**2** ватрушки разрезать пополам, а третью  
– на **4** части.




# Блицтурнир



1. За два дня Карлсон сломал 100 паровых машин. В первый день он сломал одну пятую всех машин. Сколько паровых машин сломал Карлсон во второй день?
2. Фрекен Бок испекла 20 плюшек. Карлсон утащил в два раза меньше плюшек, чем испекли. Сколько плюшек осталось у Фрекен Бок?
3. После того как Малыш и Карлсон поиграли с паровой машиной, папе пришлось заменить в ней 10 колесиков, а винтиков в 3 раза больше. Сколько винтиков пришлось заменить папе?
4. Для лечения Карлсона Малыш купил 50 ирисок, а леденцов в 2 раза меньше. Сколько всего конфет купил Малыш?
5. Карлсон съел 10 кусочков именинного торта, а Малыш - на 8 кусочков меньше. Сколько кусков торта съел Малыш?
6. Из какой сказки герои задач? Назови автора сказки.






1  
2  
3  
4  
5

## 6. «Малыш и Карлсон»

Астрид Линдгрен.



# Сравните

56  54

43  34

69  81

753  375


431  413

456  455

5 см 6 мм =  6 см

1 ч  36 мин

9 м кв.  9 см кв.



# Как сравнить трехзначное число?



**753**

**>**

**375**

Сравни сотни  
Сравни десятки  
Сравни единицы





Если число сотен  
совпадает, сравни десятки


425 ● 435  
642 ● 641

Если число сотен и десятков совпадает,  
сравни единицы



# Письменно выполните №1, стр.

# 50



Озеро Иссык  
-Куль



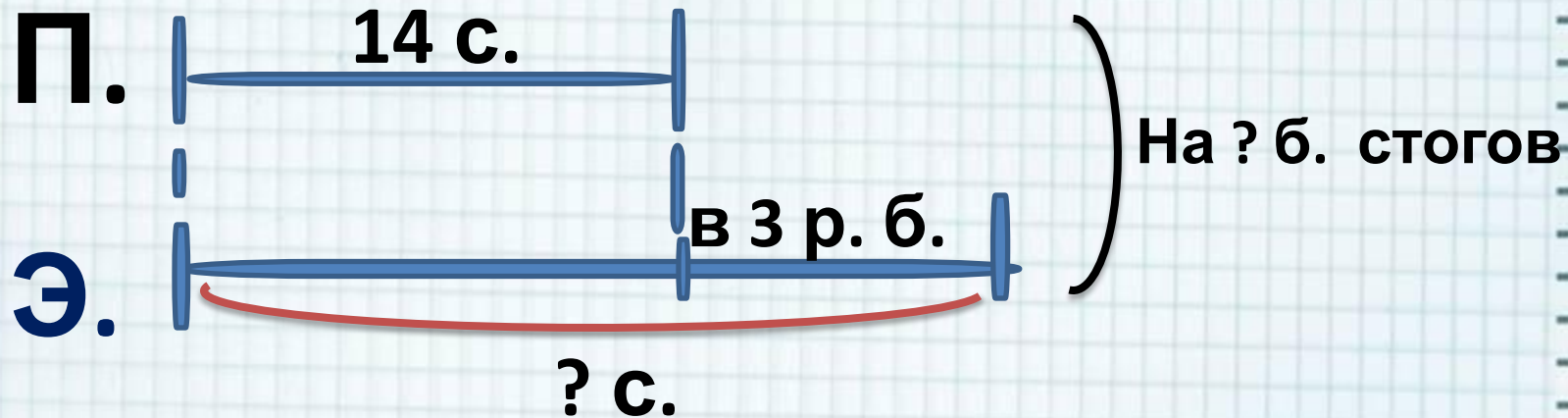
Ладожское  
озеро

Онежское озеро



# Реши задачу №6

Заповедник – зона охраны животных и растений



- 1)  $14 * 3 = 42$  (с.) заготовили в этом году
- 2)  $42 - 14 = 28$  (с.) больше заготовили в этом году, чем в прошлом

Ответ: на 28 стога больше заготовили в этом году, чем в прошлом

Самостоятельная работа с  
учебником стр. **50** № **2, 3.**

Вспомни правило сравнения  
трехзначных чисел.



# Оцени себя



# Домашняя работа

№ 5, №6 стр.50,

р.т. стр. 45





1. Логические задачи

<http://shkolabuduschego.ru/shkola/logicheskie-zadachi.html>

2. Шаблон взят на сайте <http://pedsovet.su/>

автор шаблона: Фокина Лидия Петровна

3. Учебник «Математика» 3 класс 2 часть М. А. Моро, М.А. Бантова, Г.В. Бельтюкова, М.: «Просвещение» 2013 год

4 Т.Н. Ситникова, И.Ф. Яценко «Поурочные разработки по математике 3 класс» УМК «Школа России», М.: «Вако» 2013 г.

