

**Путешествие
ТОЧКИ
в страну
геометрию**



к в а д р а т
к р и в о й
л у ч
о т р е з о к
ш а р



Расставьте четные числа в порядке возрастания


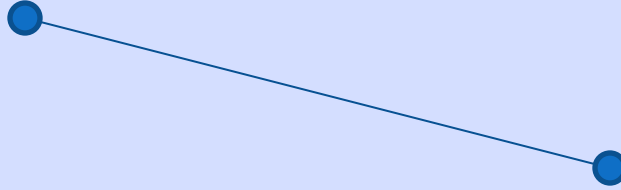
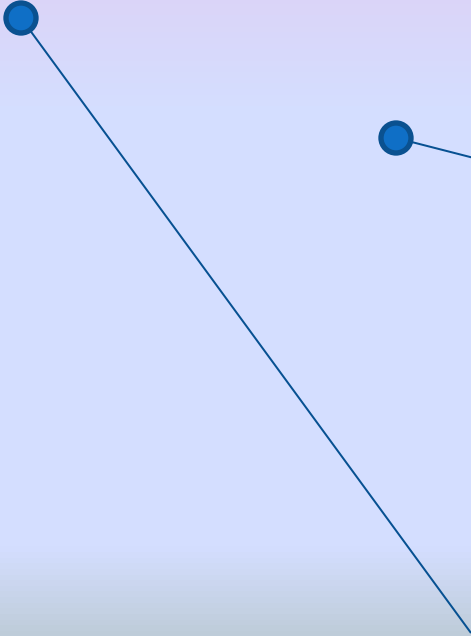
15, 8, 16, 10, 7, 19, 4, 12, 13, 2, 1, 20
(У) (А) (А) (Д) (П) (Ч) (В) (Р) (Ф) (К) (Ж) (Т)

2	4	8	10	12	16	20
К	В	а	д	р	а	т

Расставьте нечетные числа в порядке убывания

3, 10, 19, 1, 5, 2, 9, 21, 11, 7, 4, 17, 13, 12, 15, 18
(И)(Ф)(Р)(К)(Н)(Ц)(Л)(Т) (О)(Ь)(С)(Е) (Г) (З) (У)(Ж)

21	19	17	15	13	11	9	7	5	3	1
т	р	е	у	г	о	л	ь	н	и	к



СКОЛЬКО ПРЯМОУГОЛЬНИКОВ





A

III

Б

П

P

T

II

Ю

I

C

D

F

V

IV

X

IX

K

Z

N

L

VII



● A

● B

● C

латинский

A a а

B b бе

C c це

D d де

E e э

F f эф

G g же

H h аш

I i и

J j жи

K k ка

L l эль

M m эм

N n эн

O o о

P p пэ

Q q ку

R r эр

S s эс

T t тэ

U u у

V v вэ

W w дубль-вэ


X x икс

Y y игрек

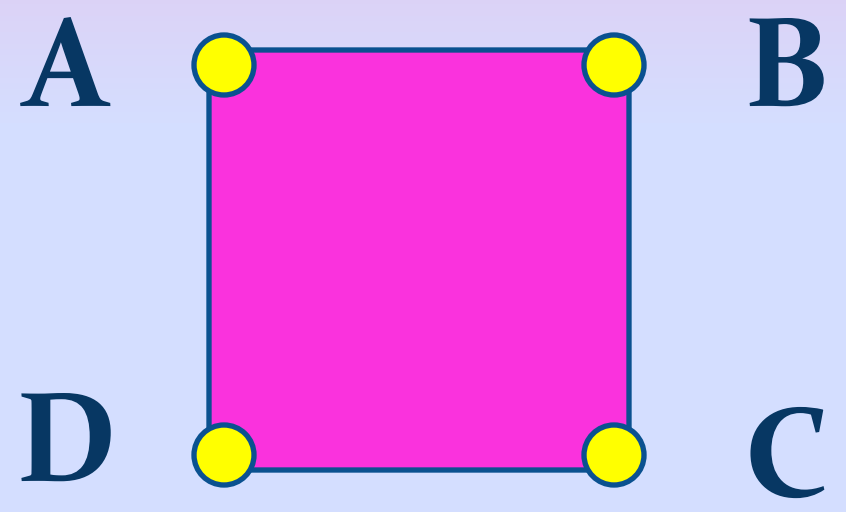
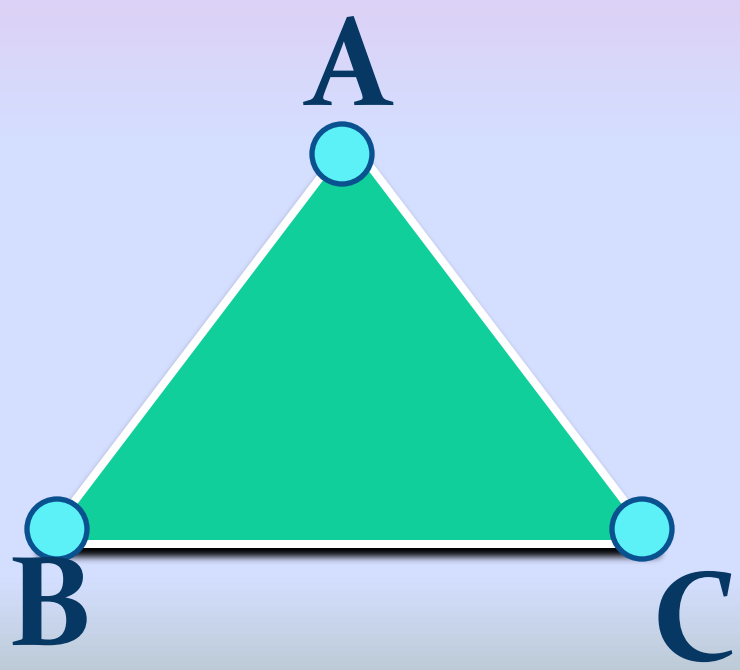
Z z зет



K



N



латинский

A a а

B b бе

C c це

D d де

E e э

F f эф

G g же

H h аш

I i и

J j жи

K k ка

L l эль

M m эм

N n эн

O o о

P p пэ

Q q ку

R r эр

S s эс

T t тэ

U u у

V v вэ



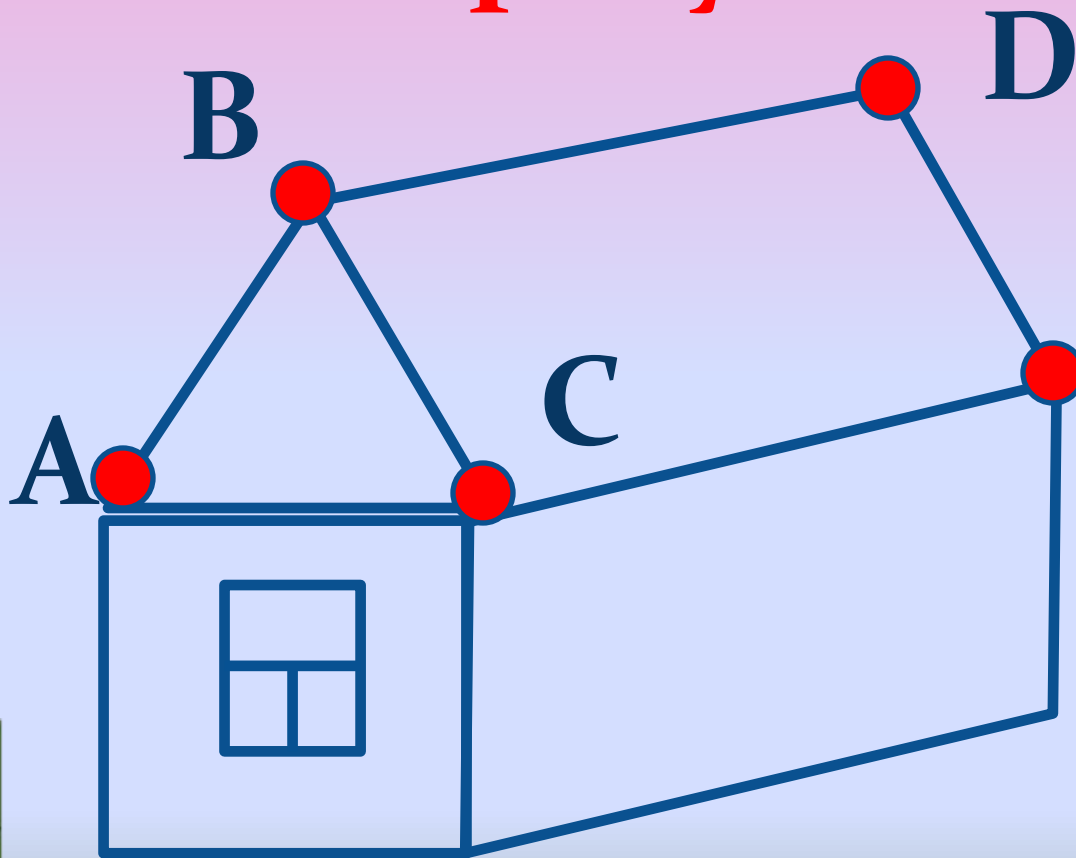
W w дубль-вэ

X x икс

Y y игрек

Z z зет

Сколько треугольников и четырехугольников?





11 л.



4 л.

3 л.

? л.

(6+9) цв.



осталось


использовала

6 в. 4 р.

несколько р.



?



СТРАНА ГЕОМЕТРИИ

