

«Начальная школа 21  
века»

Математика 1 класс



## Вычитание числа 3



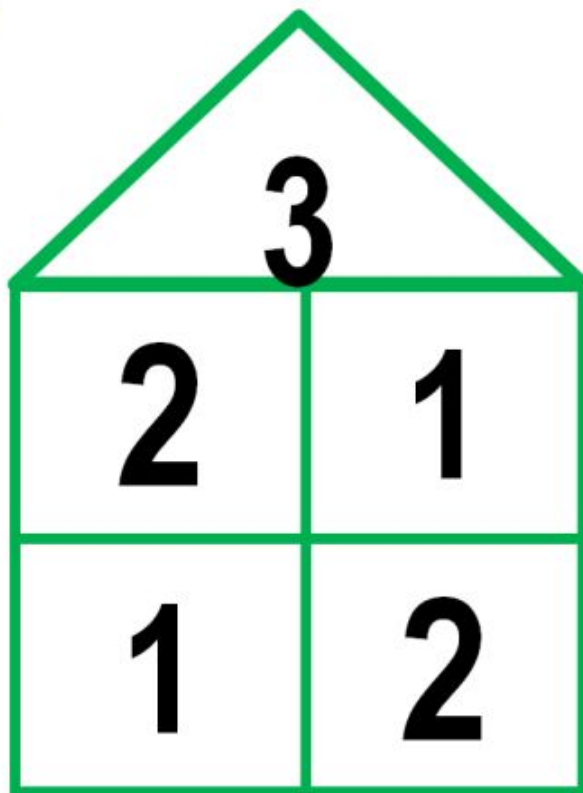

Баранник Ирина  
алексеевна  
Учитель начальных  
классов

МБОУ СОШ №12

Г. Белая Калитва п.  
Коксовый


Республика Беларусь








3

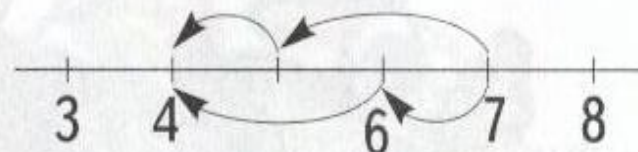
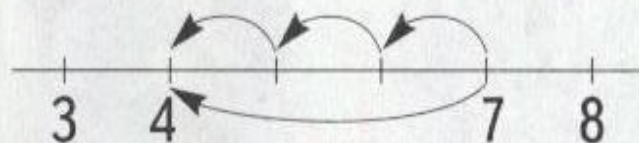
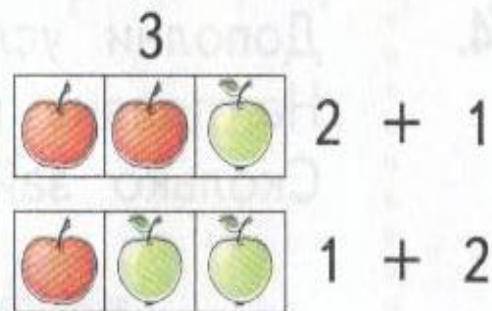



$$2 + 1 = 3$$

$$1 + 2 = 3$$



1. Объясни, как можно из чисел вычитать 3.



$$7 - 3 = 4$$

1 1 1

$$7 - 3 = 4$$

2 1

1 2



2. Сколько надо вычесть из числа 11, чтобы получить 10?

$$11 - \square = 10$$

Сколько надо вычесть из числа 12, чтобы получить 10?

$$12 - \square = 10$$



Объясни, как можно вычесть число 3.

$$11 - 3 = ?$$

$$12 - 3 = ?$$

10

10

$$(11 - 1) - 2 = 8$$

$$(12 - 2) - 1 = 9$$





3. Выполни вычитание. Поясни решение выделенных примеров.

$$7 - 3$$

$$11 - 2$$

$$12 - 3$$

$$11 - 3$$

$$5 - 3$$

$$6 - 3$$

$$10 - 2$$

$$8 - 3$$

$$10 - 3$$




4. Дополни условие задачи и реши её.  
На поляне играли 7 зайцев. Вдруг...  
Сколько зайцев прячется в кустах?





5. Оля купила 6 пучков моркови, по 3 штуки в пучке, а Катя — 10 морковок. Из четырёх пучков моркови Оля приготовила сок. Из 10 морковок Катя съела 3 морковки, а остальные отдала кроликам.



Сколько пучков моркови осталось у Оли?  
Сколько морковок в этих пучках? Сколько морковок дали кроликам?



6. В магазине «Цветы» продаются букеты тюльпанов и гвоздики.  
Было:



Купили:



Иванов

2 букета  
и 3 гвоздики



Петрова

1 букет  
и 3 гвоздики

Что купил Иванов?

Что купила Петрова?

Сколько букетов им продали?

Сколько всего гвоздик они купили?

Сколько гвоздик осталось?

Сколько букетов осталось?

7.

Найди три неверных ответа.

$$8 - 3 = 5$$

$$7 - 3 = 4$$

$$5 - 3 = 2$$

$$6 - 3 = 3$$

$$12 - 3 = 8$$

$$9 - 3 = 6$$

$$10 - 3 = 6$$

$$11 - 3 = 9$$





Запомни!



3	−	3	=	0	8	−	3	=	5
4	−	3	=	1	9	−	3	=	6
5	−	3	=	2	10	−	3	=	7
6	−	3	=	3	11	−	3	=	8
7	−	3	=	4	12	−	3	=	9



## ВСПОМИНАЕМ ПРОЙДЕННОЕ

8.

Назови результаты действий.

$6 + 1$

$12 + 1$

$8 - 8$

$9 - 0$

$6 - 1$

$12 - 1$

$15 - 15$

$0 + 7$

9.

Выполни действия.

$6 \cdot 3$

$14 : 7$

$16 : 8$

10.



Выпиши примеры с ответом 9.

$7 + 3$

$13 - 1$

$6 + 3$

$10 - 2$

$11 - 2$

$2 + 7$

$8 + 2$

$9 - 0$

Поменяйтесь тетрадями и проверьте работу друг у друга.

11.



Запиши и вычисли сумму и разность чисел.

$9 \text{ и } 2$

$10 \text{ и } 2$

$8 \text{ и } 0$

$4 \text{ и } 4$

12.  В 2 ящика почтальон разложил 6 писем.  
Сколько писем могло быть в каждом ящике?
- \*  Рассмотрите все варианты.  
Добавьте в условие задачи слово «поровну».  
Решите новую задачу.






13. Бабушка позвала своих птиц клевать зёрнышки.  
Три чёрные курицы остались в птичнике.



Сколько у бабушки чёрных кур?  
Сколько всего кур?  
Сколько белых птиц?  
Сколько всего гусей и кур?



14.  Какое задание учитель дал ученикам?  
Выполни это задание.



$$\square + 2 = 9$$
$$\square + 3 = 11$$









