

Какое число лишнее?

80, 30, 60, 9, 90, 50.





КРУГЛЫЕ ЧИСЛА



Что мы умеем ?



- 1. Называть числа
- 2. Сравнивать числа.
- 3. Складывать и вычитать числа.
- 4. Решать простые задачи.
- 5. Решать составные задачи.
- 6. Решать уравнения.




Сравни числа.

10 30 50

60 90 80

20 70 40



Найди значение выражений.



$$80 + 10 - 30$$

$$60 - 30 - 20 + 50$$

$$40 - 20 + 60$$

$$10 + 40 + 30 - 70$$


$$70 - 50 + 40$$

$$50 - 10 - 30 + 60$$




Реши задачи:

а) Завод выпустил за день 80 автомобилей. Из них 20 были грузовые, а остальные - легковые. Сколько легковых машин выпустил завод?



Реши задачи:

б) Люба собрала 40 рыжиков и 10 подосиновиков. Сколько всего грибов собрала Люба?





Составь задачи,
чтобы они решались так:

$$10 + 50 + 20$$

$$90 - 60$$

$$20 + 40 - 50$$




Реши составную задачу

В магазин привезли 30 больших мячей и 60 маленьких. За день продали 40 мячей. Сколько мячей ещё осталось в магазине?

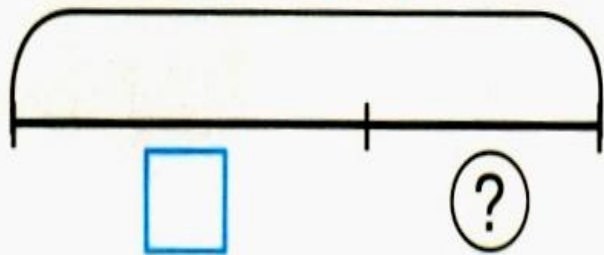


Страничка-подсказка



Составные задачи на нахождение части
(целое не известно)

$$\square + \square = ?$$



Алгоритм решения

1. Нахожу целое.
2. Нахожу неизвестную часть.




Реши уравнения

$$x + 20 = 70$$

$$80 - x = 40$$

$$x - 40 = 30$$



Расшифруй ребусы



ЯЯЯЯЯЯ

а а а а
а а а а а а а а
а а а а а а а а а а
а а а а а а а а а а а а



Расшифруй ребусы



яяяяяя

семь-я сорок-а

а а а а
а а а а а а а а
а а а а а а а а а а
а а а а а а а а а а а а



Подумай, сосчитай



У Антона в кошельке две монеты достоинством в 5 руб., шесть монет – в 10 руб. и купюра в 50 руб. Какими способами он может заплатить 60 рублей?



Домашнее задание:

Урок 26 № 8, узор.

