
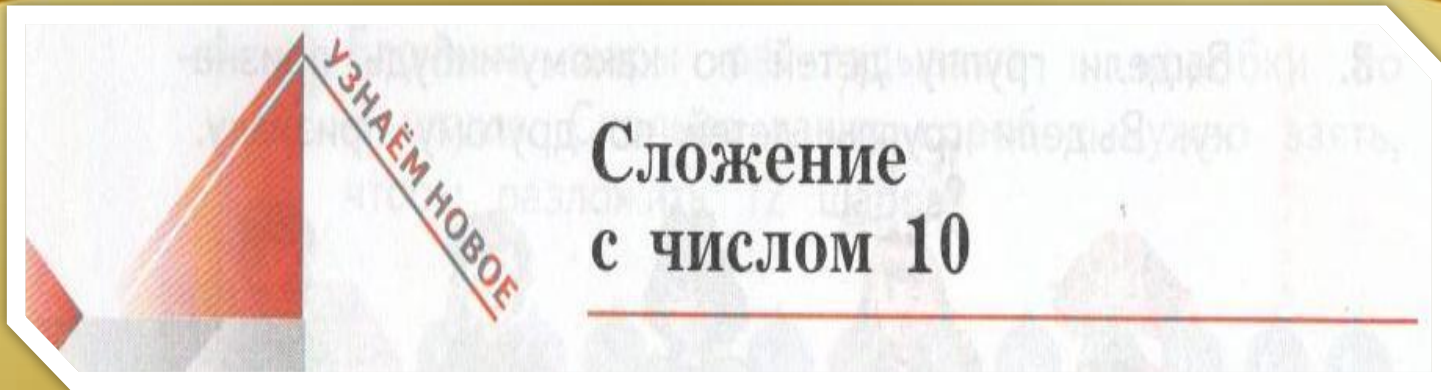


«Начальная школа 21  
века»  
Математика 1 класс




Баранник Ирина  
Алексеевна  
Учитель начальных  
классов  
МБОУ Сош №12  
Г. Белая Калитва п.



М. С. Ковалева



1. Расскажи, как рассуждал Петя при сложении чисел.



10 и 8 — это 1 десяток 8 единиц.

1 десяток 8 единиц — это 18.

$$10 + 8 = 18$$

10

5

2.

Купили



и ещё




Сколько всего яиц купили?

*Решени*

$$10 + 5 = 15$$

3. \* У Зины 10 орехов. У Пети столько же орехов. Мама дала ему ещё 4 ореха. Сколько орехов у Пети?



*Решени*

$$10 + 4 = 14$$

4. Вычисли.

$$10 + 6 = 16 \quad 10 + 5 = 15 \quad 4 + 10 = 14 \quad 7 + 10 = 17$$

$$10 + 8 = 18 \quad 10 + 10 = 20 \quad 9 + 10 = 19 \quad 1 + 10 = 11$$



5. Сделай записи по образцу.

$$10 + 5 = 15$$

$$15 - 5 = 10$$

~~$$10 + 5 = 15$$~~

~~$$15 - 5 = 10$$~~

$$10 + 9$$

$$10 + 6$$

$$10 + 3$$

$$10 + 2$$

$$10 + 7$$

$$10 + 1$$

## ВСПОМИНАЕМ ПРОЙДЕННОЕ

6.

Маша и Наташа придумали к рисунку задачу. Маша придумала вопрос: «Сколько получится носков из трёх клубков пряжи?» Какое условие придумала Наташа?



**Из 1 клубка пряжи  
получается 2  
носков.**






7. На одном подносе 5 чашек. Другой поднос пустой. Сколько чашек на двух подносах? Выбери верное решение задачи.

$$5 + 0 = 5$$

9. Рассмотрим рисунок и таблицу. К каким вещам пришивала пуговицы каждая из девочек? Кто пришил больше пуговиц?



Имя	Пуговиц на блузке	Пуговиц на платье	Пуговиц на юбке
Галя	2	0	0
Ира	1	0	3
Юля	1	2	0

10.  Выполни действия.

$6 + 4$

$0 + 4$

$3 \cdot 3$

$5 + 3$

$6 - 4$

$9 - 9$

$9 : 3$

$10 : 2$



12. Опиши расположение фигур на левом рисунке.  
Как оно изменилось на правом рисунке?

