

УЗНАЁМ НОВОЕ

Увеличение числа на несколько единиц

«Начальная школа 21
века»
1 класс




Баранник Ирина
Алексеевна
учитель начальных
классов
МБОУ СОШ №12
г. Белая Калитва п.



1. В группе детского сада 4 мальчика, а девочек на две больше. Сколько девочек в группе?



Объясни, почему выполнено сложение.



$$4 + 2 = 6$$



2. В террариуме 8 ужей, а черепах на 3 больше. Сколько черепах в террариуме?

$$8+3=11$$





3. В шахматном турнире Коля набрал 5 очков, а Серёжа на 3 очка больше. Сколько очков набрали оба мальчика? Сколько очков набрал Серёжа? На какой из этих вопросов легче ответить и почему?

$5+3=8$ (оч.)-набрал

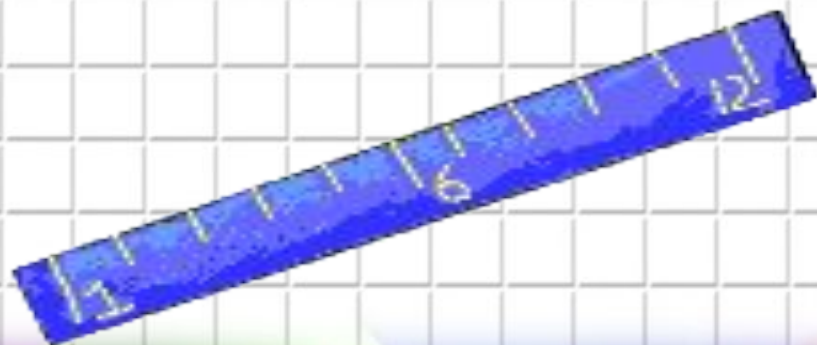

• $5+3+5=13$ (оч.)-всего



4. Нарисуй 4 яблока, а вишен на 7 больше.



5. Начерти зелёный отрезок длиной 5 см. Начерти синий отрезок на 3 см длиннее зелёного.



6. Какое число: больше семи на 2; больше трёх на 4; больше восьми на 6?



7. Сколько жевательных резинок у обоих детей?



на 4 больше

$$6+4=10$$





8.

ВСПОМИНАЕМ ПРОЙДЕННОЕ

Оля собирает коллекцию маленьких игрушек.
На сколько сантиметров клоун выше каждой
из остальных игрушек?

На сколько сантиметров цыплёнок ниже куклы?

6 см

5 см

4 см

3 см

2 см

1 см



9. На сколько сантиметров зелёная ленточка короче красной? Сравни длины ленточек на глаз.



Проверь свой ответ: выполни измерения с помощью линейки.



10.

Сравни числа. Изобрази результаты сравнения с помощью цветных стрелок.

17 и 6

9 и 11

8 и 14

20 и 10

17

6

9

11

8

14

20

10



11.

Вычисли сумму и разность чисел.

5 и 4


3 и 3

9 и 0

8 и 2


10 и 4

18 и 0



12.

Десять пирожных разложили поровну на 5 блюдец. Сколько пирожных на каждом блюдце?



13.



На 10 рублей купили 5 одинаковых по цене карандашей. Сколько стоит один карандаш?



14.

Составь задачи по их решениям.

Задача 1

Задача 2

$$8 + 4 = 12$$

$$11 - 3 = 8$$



16. Ученики 1 «А» класса участвовали в соревнованиях по гимнастике. В таблице показано, сколько баллов получил каждый из них и какое место занял.

Имя	Число баллов	Место
Аня	8	2
Катя	6	3
Даша	10	1
Галя	5	4

Ответь на вопросы.

Кто из детей набрал наибольшее число баллов, а кто — наименьшее?



Назови имена участников соревнований, занявших первое, второе, третье и четвёртое места. На сколько баллов больше набрала Катя, чем Галя?


На сколько баллов меньше набрала Аня, чем Даша?

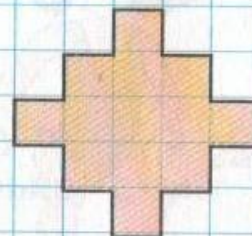
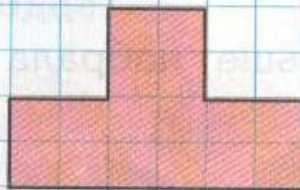
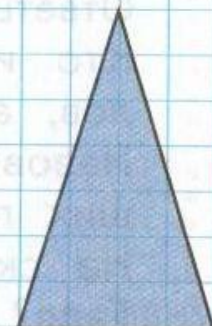
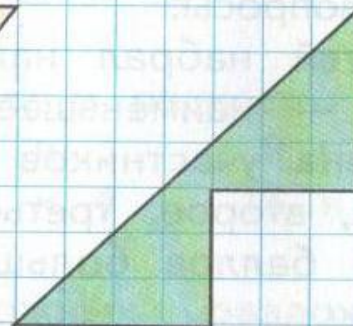
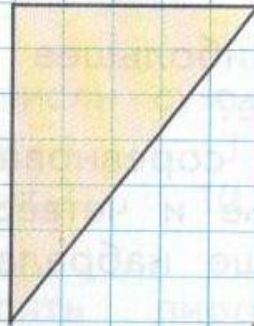
На сколько баллов больше набрала Даша, чем Катя?



17. Оцени, какую часть каждого стакана занимает налитая в него вода (половину, больше половины, меньше половины).



18.  Выбери одну из фигур и начерти её в тетради.



Поменяйтесь тетрадями и проверьте работу друг у друга.





ВН
ДЛЯ ТЕБЯ!