

Математика

1 класс

Автор:
Червонова Т.М.,
учитель начальных классов
МБОУ «Екатеринославская СОШ»
Тюльганский район, Оренбургская область



**Встало солнышко давно,
Заглянуло к нам в окно,
На урок торопит нас
Математика сейчас.
Пожелаем всем удачи –
И пойдём в добрый
час!**



ВОТ ТАК ПРАВИЛЬНО!






Считать

Писать


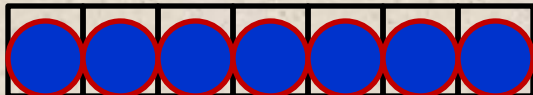
Сравнивать

Вычислять

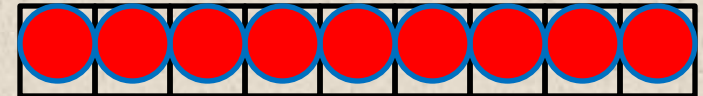
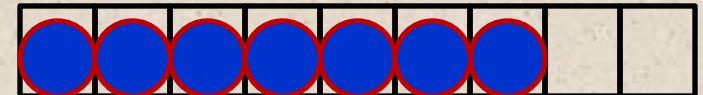




Объясни по рисунку, как составлены каждая схема и каждое равенство



Столько же.
Сколько ... ?
 $7 = 7$



На 2 больше, или
столько же и ещё 2.
Сколько ... ?
 $7 + 2 = \square$

Задача 3

У Лены



а у Кати на 3 значка больше. Сколько...?

Сколько значков у Кати?



$$5+3=7$$

Ответ: у Кати 8 значков

Как чувствовали себя на уроке

