



Коля сделал 4 флажка, а
Витя на 3 больше. Сколько
флажков сделал Витя?

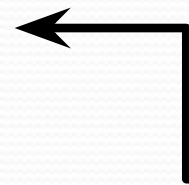
Коля



Витя



на 3 больше



$$4 + 3 = 7 \text{ (ф.)}$$

Ответ: Витя сделал 7 флажков.

У Оли было 8 орехов, а у
Серёжи на 4 меньше.
Сколько орехов было у
Серёжи?

Оля



Серёжа



на 4 меньше

$$8 - 4 = 4_{(\text{ор.})}$$

Ответ: У Серёжи было 4 ореха

Мама купила 3 пакета
картофеля по 2 кг в каждом.
Сколько килограммов
картофеля купила мама?



2 КГ



2 КГ



2 КГ

?

$$2 * 3 = 6 \text{ (кг)}$$

Ответ: 6 кг картофеля купила мама.

Сколько коробок
понадобится, чтобы
разложить 42 карандаша по 6
карандашей в каждую
коробку?

6

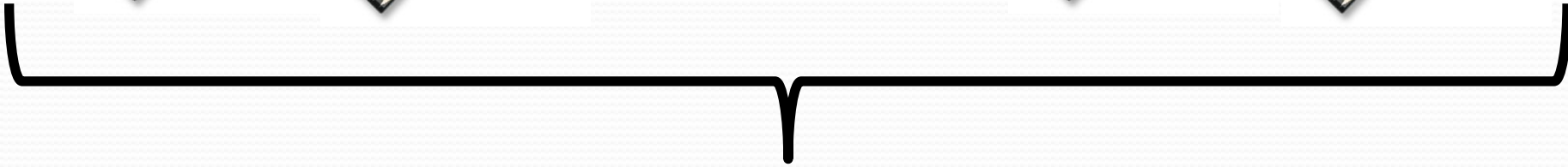
6

6


6



.....



42


$$42 : 6 = 7 \text{ (к)}$$

Ответ. Понадобится 7 коробок.