



Урок математики



1 класс

Тема "Задача".

Работа учителя
МОУ "Обманковская ООШ"
Комаровой
Светланы Васильевны.

ЗАДАЧА





УСЛОВИЕ



СКОЛЬКО ВСЕГО МАШИНОК ?

$$3 + 2 = 5 \text{ (M)}$$

Решение

5 М.

ОТВЕТ

Условие



Решение


ОТВЕТ

Условие



ЗАДАЧА
Решение

ОТВЕТ



$$7 - 2 = 5 \text{ (3.)}$$

ОТВЕТ: 5 3.

Условие



Решение

ОТВЕТ

Спасибо, ребята!

