


Математика

Сложение и вычитание вида $10+7$, $17-7$, $17-10$
(закрепление)



Задачи-шутки .

- Кощей-Бессмертный, Баба-Яга и Змей Горыныч выпили бочку пепси-колы вместимостью 15 л. Кощей-Бессмертный выпил 5 л, а Баба-Яга 4 л. Остальное честно разделил между своими тремя головами Змей Горыныч. Сколько литров пепси-колы выпили головы Змея Горыныча?

Задачи-шутки

- В поисках Царевны-лягушки Иван-царевич обследовал 4 болота. На каждом болоте было по одной лягушке. Сколько лягушек перецеловал Иван-царевич в поисках своей невесты?

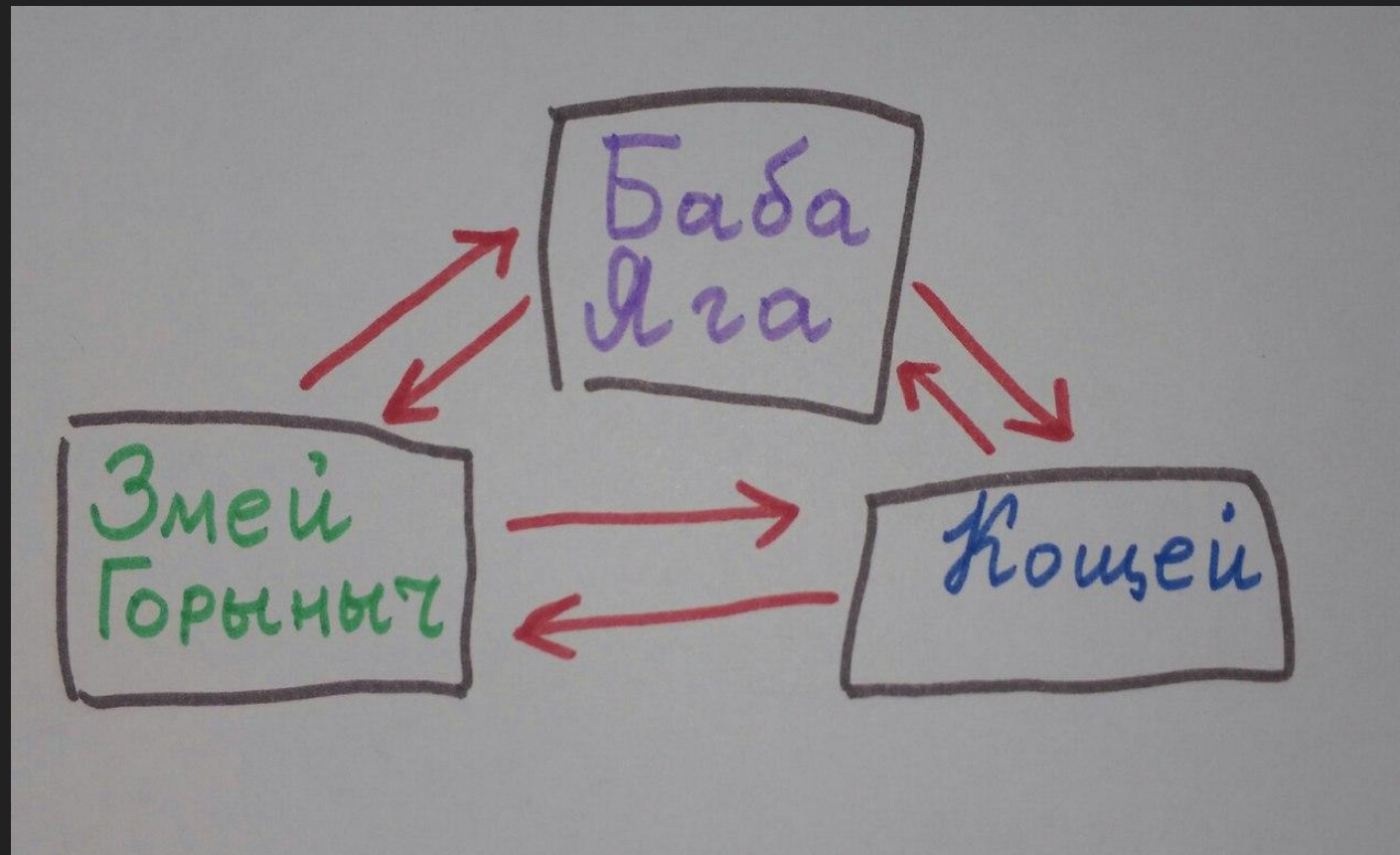
Задачи-шутки

- 3) Василиса Премудрая и Змей Горыныч играли в шашки. Змей Горыныч съел у Василисы Премудрой 10 шашек, а Василиса Премудрая у Змея-Горыныча - на 2 шашки больше. После этого Змей-Горыныч съел саму Василису Премудрую. Можно ли считать, что Змей Горыныч выиграл партию в шашки у Василисы?

Логическая разминка.

- -Змей Горыныч, Баба-Яга и Кощей решили стать воспитанными обменялись друг с другом рукопожатиями.
- Сначала Баба-Яга обменялась рукопожатиями со Змеем Горынычем и Кощеем Бессмертным.
- Потом Змей Горыныч обменялся рукопожатиями с Бабой-Ягой и Кощеем-Бессмертным.
- И последним Кощей Бессмертный обменялся рукопожатиями с Бабой-Ягой и Змеем Горынычем.
- -Сколько получилось рукопожатий?

Логическая разминка.



Самоопределение к деятельности.

11-1

14-4

12-2

15-5

Самоопределение к деятельности.

11-1

13-3

14-4

12-2

15-5

Самоопределение к деятельности.




Работа по учебнику.



$$7 + 3 + 5 = 15$$

$$15 - 5 - 3 = 7$$



$$6 + 4 + 2 = 12$$

$$12 - 2 - 4 = 6$$

Работа по учебнику.

1. Вычисли, каждый раз объясняя, сколько всего прибавили к числу или сколько всего вычли из него.

$$8 + 2 + 1 = 11$$

$$6 + 4 + 3 = 13$$

$$18 - 8 - 1 = 9$$

$$14 - 4 - 5 = 5$$

$$17 - 7 - 1 = 9$$

$$1 + 9 + 1 = 11$$

Физминутка

- Мы поставили пластинку
- И выходим на разминку.
- На зарядку, на зарядку,
- На зарядку становись!
- Начинаем бег на месте
- Финиш – метров через двести!
- Раз – два! Раз - два!
- Хватит – хватит, прибежали.
- Потянулись, подышали!



Работа по учебнику.


2. 1) В букете 8 васильков, а ромашек на 2 больше. Сколько ромашек в букете?
- 2) В букете 8 васильков и 10 ромашек. Сколько всего цветов в букете?

Работа по учебнику.

17 марта.
Классная работа.
Задача 2.

Работа по учебнику.

3. В банку входит 10 стаканов воды. Сколько стаканов воды можно долить в каждую банку?



10 ст.



8 ст.



3 ст.



6 ст.



7 ст.

Работа в печатной тетради.

□ Страница 27 № 1,2,3,4.

Рефлексия

- Трудные ли задания дала вам Баба-яга?
- Какие задания вам понравились?
- Кто доволен своей работой на уроке?
- Кому нужна была помощь?



□ Спасибо за урок !