

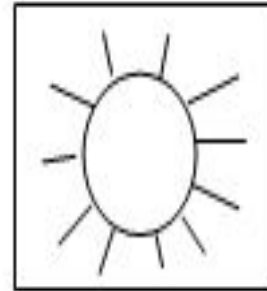
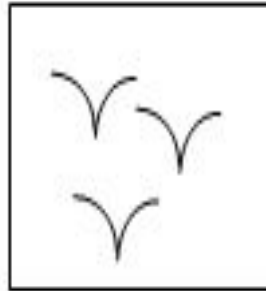

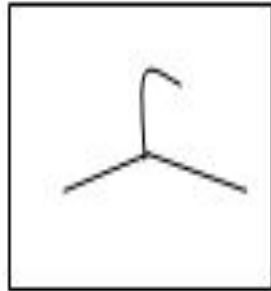
Какие числа пропустил
Буратино?

1 3 5 7 9

2 4 6 8 10




Какой рисунок можно нарисовать одной кривой линией?

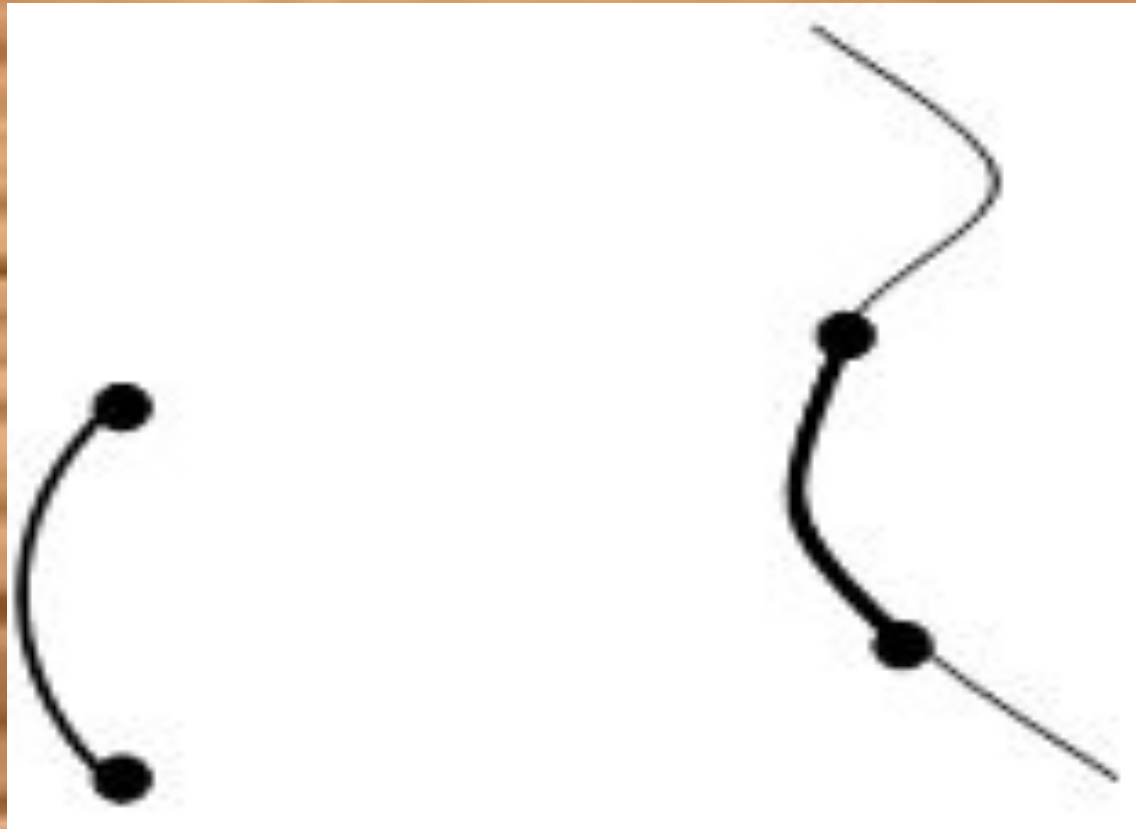


Чем отличаются фигуры?






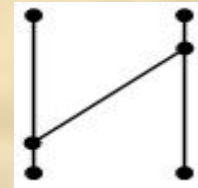
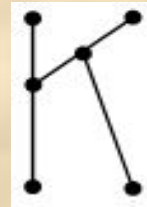

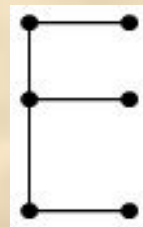
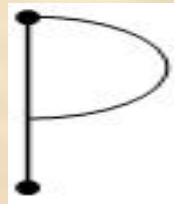

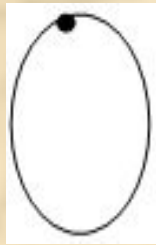
Что изображено? Чем отличаются чертежи?



- Чем похожи полученные чертежи?
- Чем отличается отрезок от прямой линии?



- Прочитайте полученное на чертеже слово.
- Назовите основные признаки отрезка.
- Как называются оставшиеся элементы букв в математике?



- Как называется первая линия? (*Прямая.*)
- Как называется вторая линия? (*Кривая.*)
- Что объединяет данные линии? (*На каждой линии поставлены по две точки.*)
 - Как называется часть прямой линии, заключенная между двумя точками?
(*Отрезок.*)
- Как называется часть кривой линии, заключенная между двумя точками?
(*Дуга.*)

