

# Тема урока

## Прибавление и вычитание числа 3

МБОУ СОШ №11

учитель начальных классов

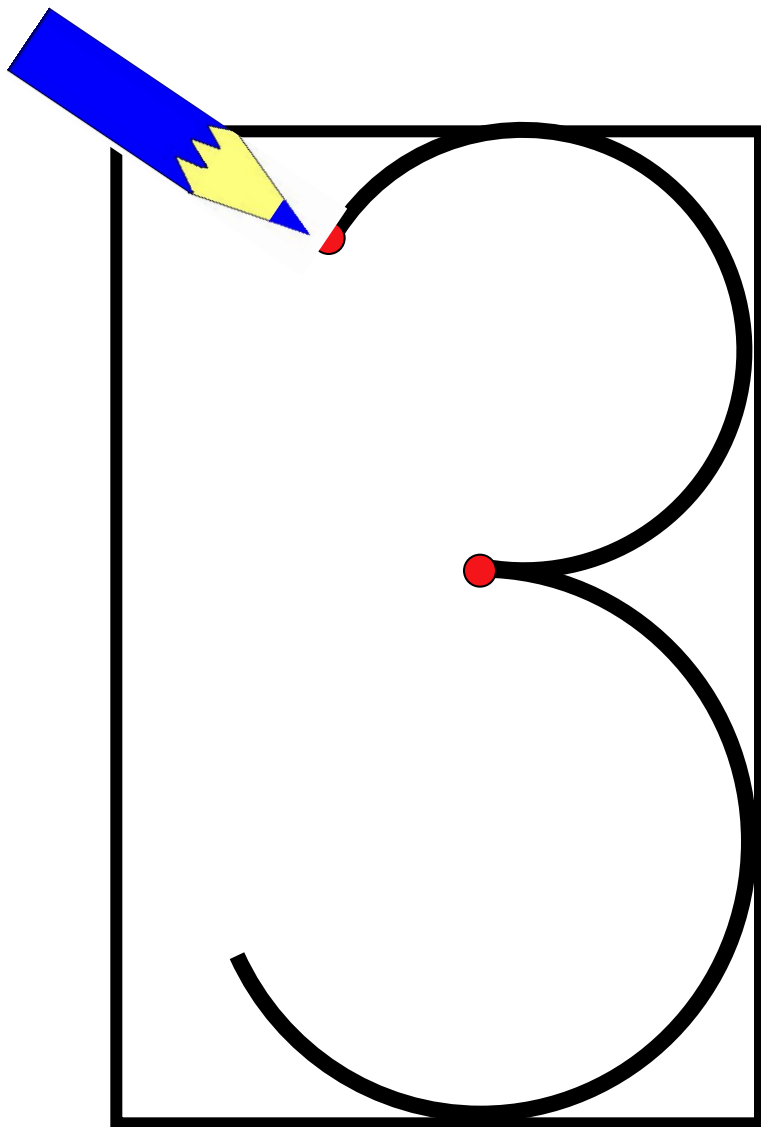
Солдатова Светлана

Владимировна

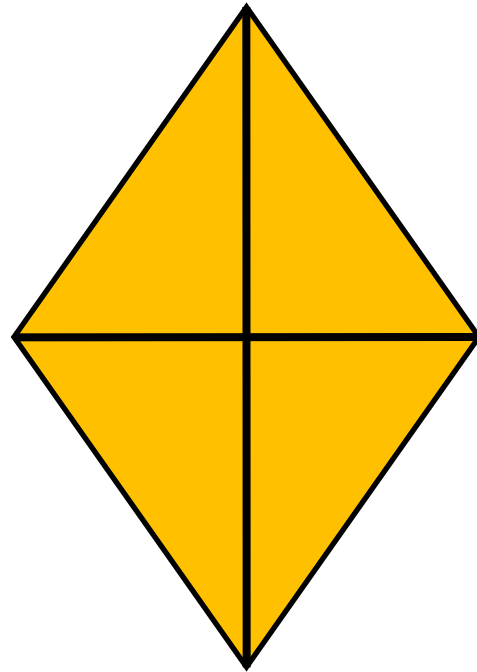



## *Девиз*

**Знаешь – говори, не  
знаешь- слушай.**


## Учимся писать цифру



*А вот это –  
посмотри,  
Выступает  
цифра три.  
Тройка –  
третий из  
значков –  
Состоит из  
двух крючков.*







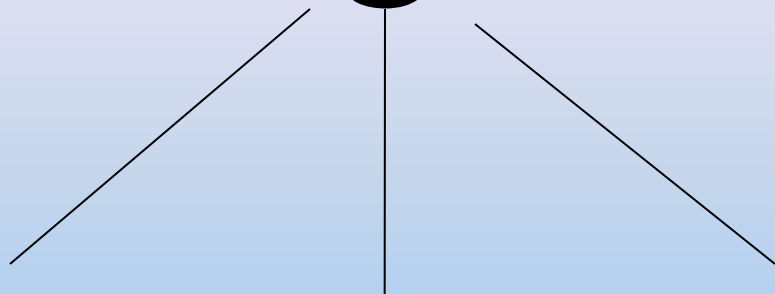
$$4 + 2 + 1 = 7$$

$$7 + 2 + 1 = 10$$

$$8 - 2 - 1 = 5$$

$$5 - 2 - 1 = 2$$

**3**



**1**



**1**



**1**





3

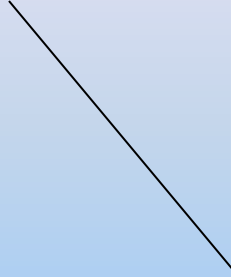

1



2



3



2

1



# *Физминутка*



$$5 + \underbrace{1 + 1 + 1}_{3} = 8$$

3

$$5 + \underbrace{1 + 2}_{3} = 8$$

3

$$5 + \underbrace{2 + 1}_{3} = 8$$

3

$$5 + 3 = 2$$

$$5 - \underbrace{1 - 1 - 1}_{3} = 2$$

$$5 + \underbrace{2 + 1}_{3} = 8$$

$$5 - \underbrace{2 - 1}_{3} = 2$$

$$5 - 3 = 2$$



*На полянку у дубка ёж увидел  
два грибка.*

*А подальше, у осин,  
Он нашёл ещё один.*

*Кто ответит нам готов,  
Сколько ёж нашёл грибов?*

*На плетень взлетел петух.*

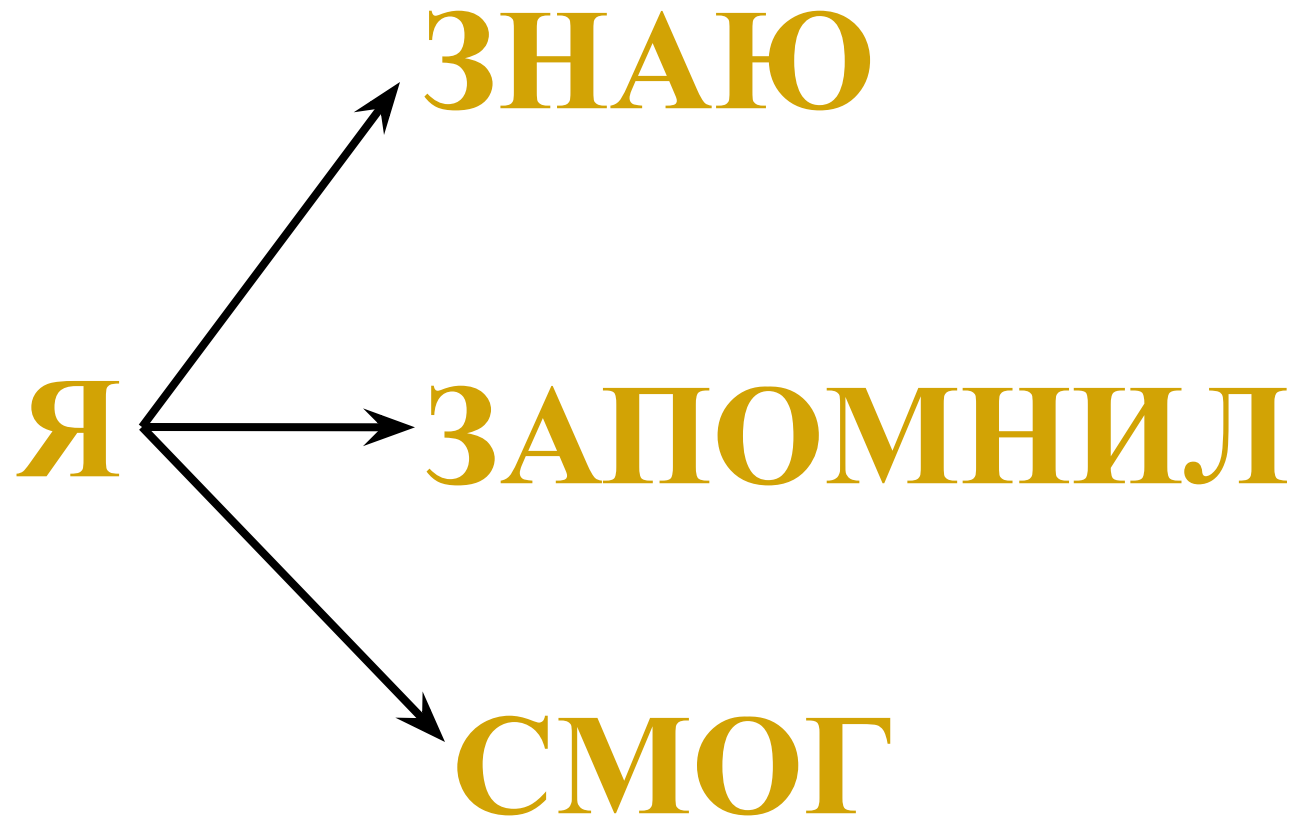
*Повстречал ещё там двух.*

*Сколько стало петухов?*

*У кого ответ готов?*









# Оцените свою работу на уроке



У меня всё получилось. Я доволен своей работой.



У меня всё получилось, но я хотел бы работать лучше.



У меня не всё получилось, но я понял, какие ошибки допустил.

МОЛОДЦЫ!

