

Урок - сказка



Считай, смекай, решай, В беде друзей не оставляй!







Испекла я 18
ржаных
пирожков, а
пшеничных в 3
раза меньше.
Сколько всего
пирожков я
испекла?







$32:4=$  $6 \times 7 =$ 


$13 \times 0 =$  $28:7 =$ 

$24:4 =$  $8 \times 5 =$ 


$48:6 =$  $45:5 =$ 

$35:7 =$  $7 \times 8 =$ 

$27 \times 1 =$  $20:4 =$ 







Дети в столовой за завтраком выпили 27 стаканов молока, а киселя 9 стаканов .

Во сколько раз больше дети выпили стаканов молока, чем киселя ?

Выберите правильное решение

1. $27 - 9 = 18$

2. $27 + 9 = 36$

3. $27 : 9 = 3$

4. $27 \times 3 = 9$

Спряди нить
длиною 960
сантиметров



А сколько это
будет метров и
дециметров?

Физминутка

Вышла мышка как-то раз
За Машу пряжу прясть.
Куделька уменьшается,
Нитка прибавляется.
Вот раздался в двери
стук,
Убежала мышка вдруг.









В двухлитровой банке помещается 10 стаканов киселя. Сколько стаканов поместится в трехлитровой банке?

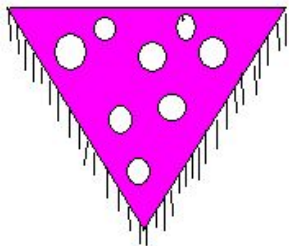
$$36 : X = 9$$



Если на один
противень входит 6
пирожков, то
сколько пирожков
войдет на 5 таких
противней?



«Машеньке купили платочек за 8 рублей, Ване рубашку, которая стоит в 3 раза дороже, чем платок. А за сладости заплатили на 9 рублей меньше, чем за рубашку. Сколько денег заплатили за сладости?»



Дружба и добро побеждают зло

