

# 3 класс



Учитель Паршина Наталья Александровна  
МОУ СОШ №4 г.Бодайбо

# ПОВТОРИМ



# Найди значения выражений

$47 \times 0 =$

0

$0 \times 83 =$

0

$0 : 56 =$

0

$47 + 0 =$

47

$0 + 83 =$

8

$56 : 1 =$

5

$47 \times 1 =$

47

$1 \times 83 =$

83

$56 - 1 =$

6

$47 - 1 =$

46

$1 + 83 =$

3

8

4


~~$56 : 0 =$~~

5



Коля проплыл 32 метра, а Вова 8 метров. Во сколько раз больше проплыл Коля? На сколько метров больше проплыл Коля?

32 м



8 м



Решение:

$$32 : 8 = 4 \text{ (р.)}$$

$$32 - 8 = 24 \text{ (м)}$$

Ответ: в 4 раза больше, на 24 метра больше.

## Вывод:

НА ? < , >

( - )

ВО ? раз < , >

( : )

Какие меры длины знаете?

ММ

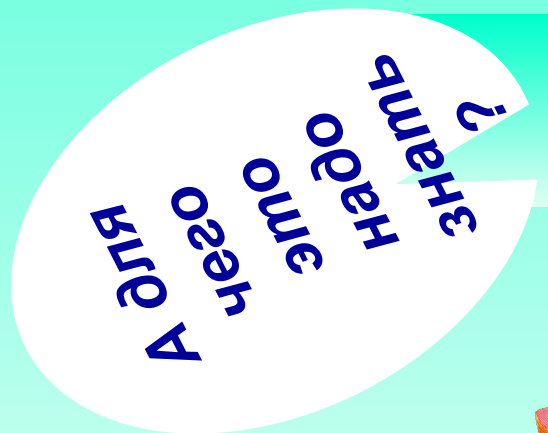
СМ

ДМ

М

КМ

Какими единицами пользуются  
для измерения площади ?



Тема :


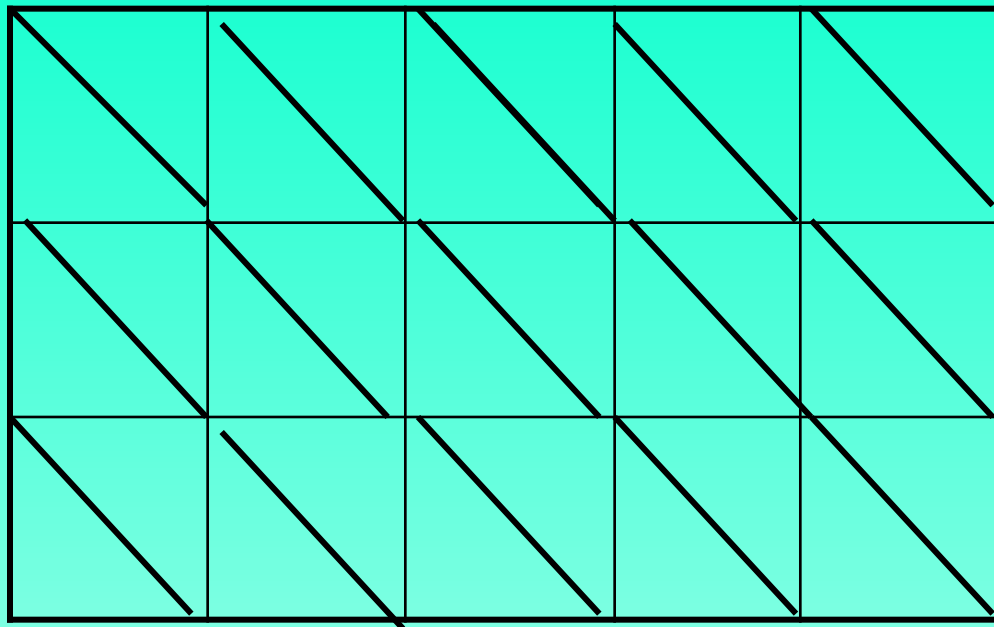
# Единицы площади

?



?





**Во сколько раз площадь левого прямоугольника больше площади правого прямоугольника?**

**Запишите числовое равенство**


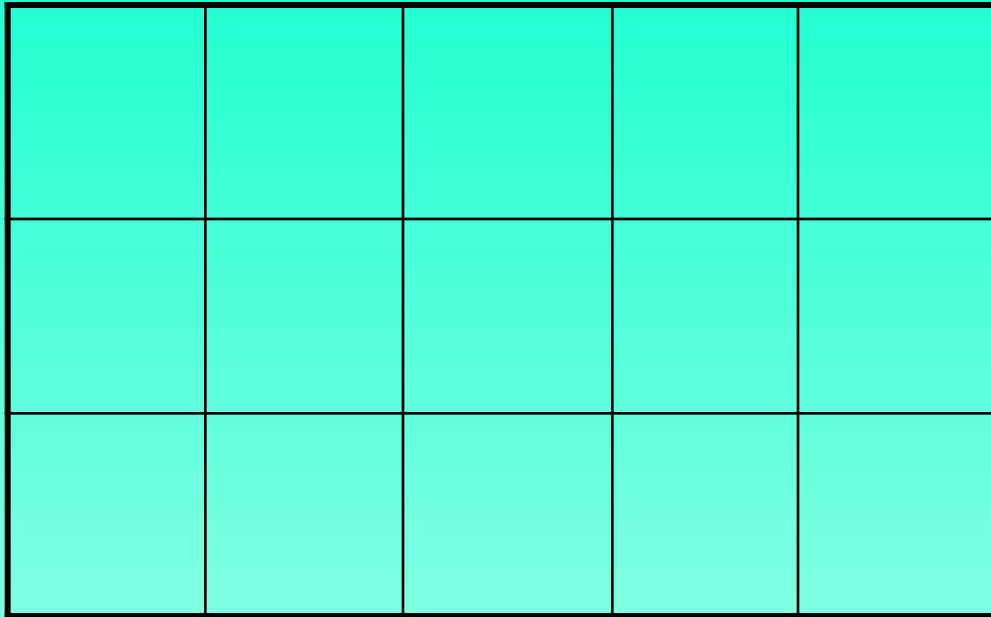
$$15 : 3 = 5$$




$$30 : 6 = 5$$

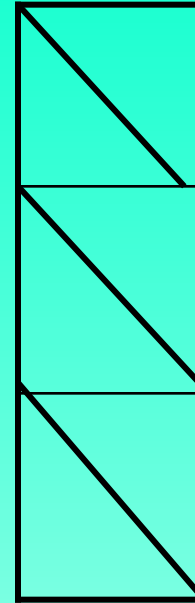
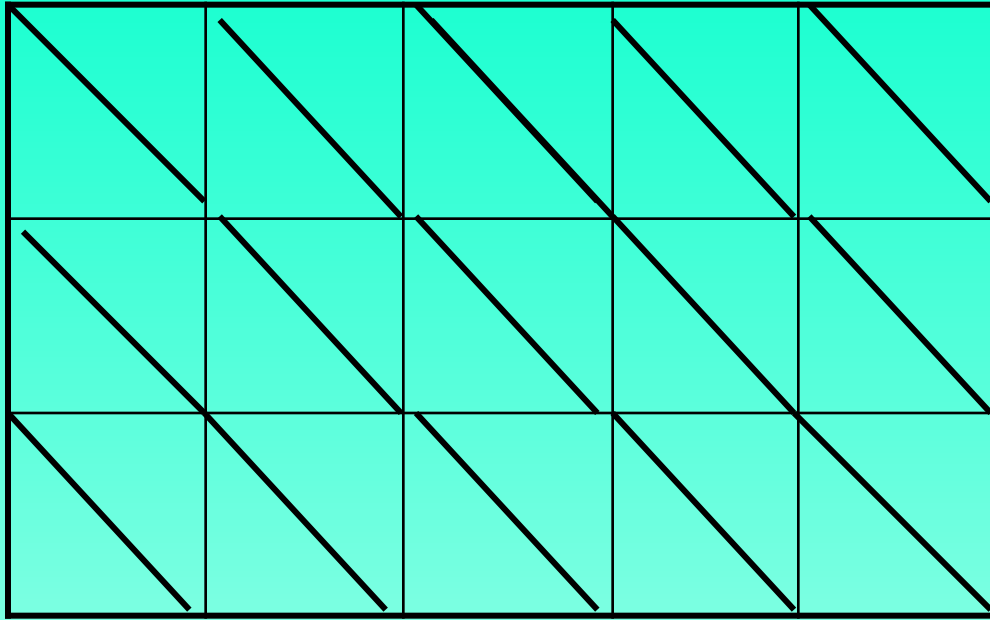


Кто прав?




$$15 : 3 = 5$$





$$30 : 6 = 5$$



№264

15 - 3



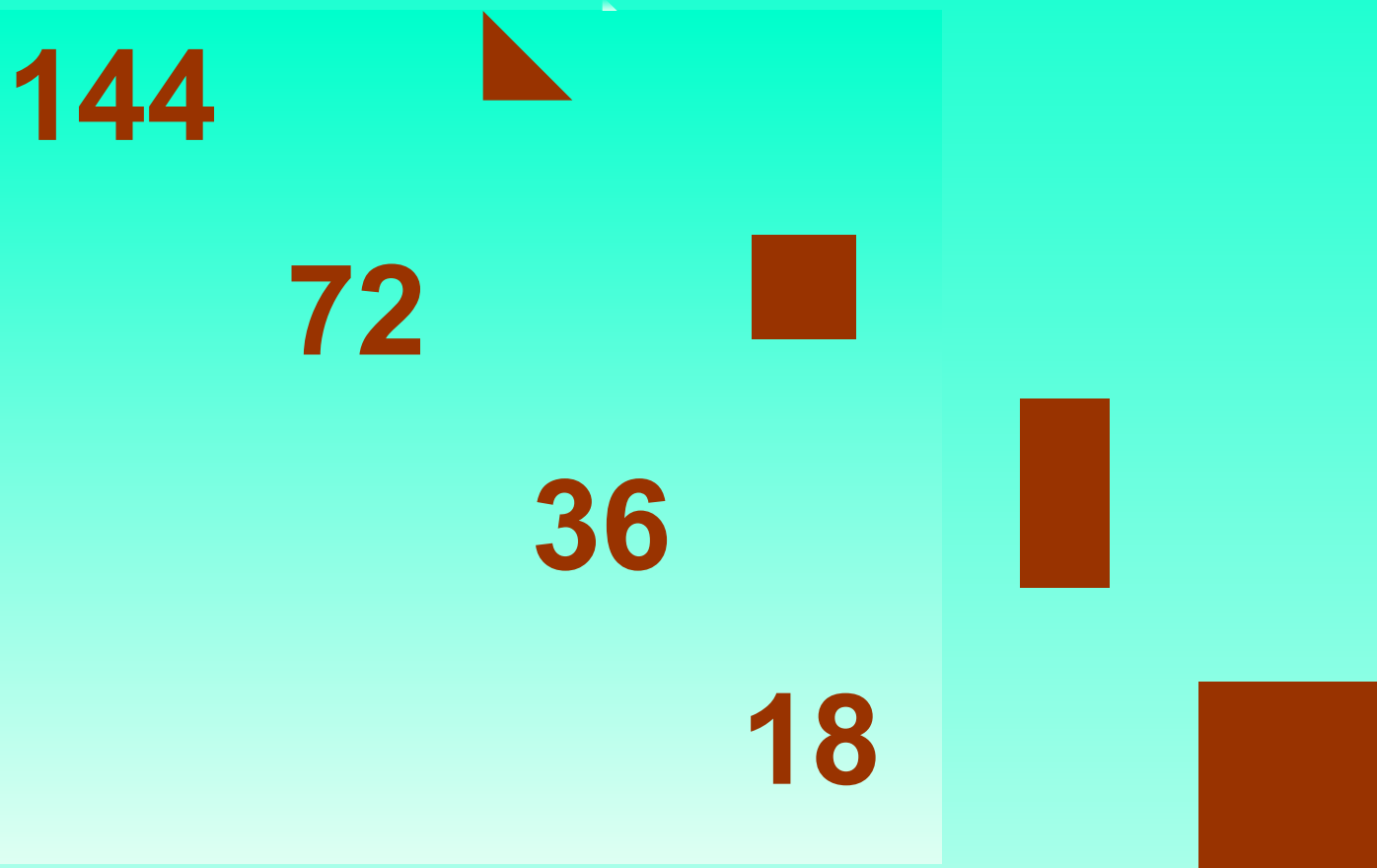
30 - 6




Кто прав?



## Практическая работа



1. От чего зависит правильный ответ?



2. Какие мерки используют для измерения площади?

(S)

C.85



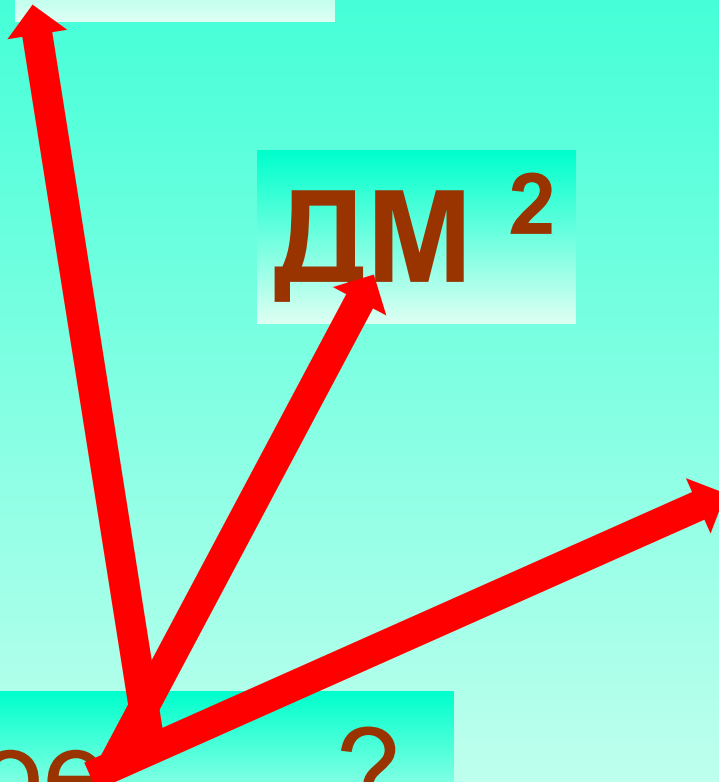
**S**

**СМ<sup>2</sup>**


**ДМ<sup>2</sup>**

**М<sup>2</sup>**

Что такое ?




# « СВЕТОФОР»



**СМ<sup>2</sup>**



**М<sup>2</sup>**



**ДМ<sup>2</sup>**

# Самостоятельная работа.

№266



6 см и 1 см

3 см и 2 см




6 см<sup>2</sup>

14 см

10 см

# Р.Т. № 11



- А)  $290 \text{ см}^2$ ,
- Б) 45 кг,
- В) 28м,
- Г)  $310 \text{ см}^2$ ,
- Д) 1м 5см,
- Е) 35 дм.


# Молодцы!




**Что нового узнали  
на уроке?**



На уроке узнал новое,  
всё было понятно



На уроке было много непонятого, устал



Хочу ещё узнать что-нибудь  
о площади.

**Твое настроение**





**Д / 3**

**№267**

**Р.Т.- № 1,9**