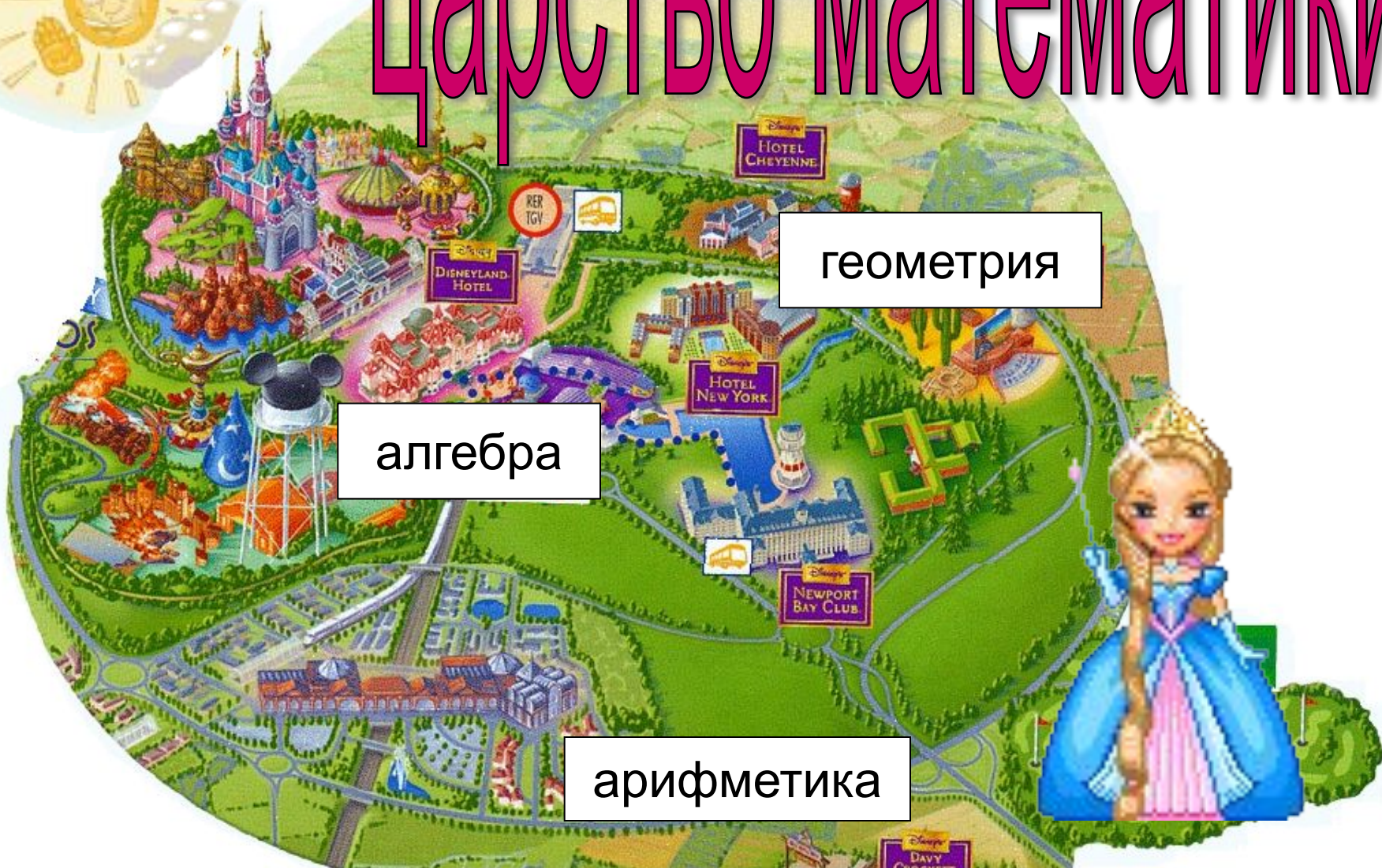


# Деление на двузначные и трёхзначные числа, оканчивающиеся нулями (закрепление).

*Пуленко Елена Владимировна,  
учитель начальных классов  
Общеобразовательной санаторной  
шк.-инт. «Солнечный» ГОУ «Балтийский берег»  
Курортного района г.Санкт - Петербурга.*

# ЦАРСТВО МАТЕМАТИКИ



геометрия

алгебра

арифметика

# арифметика



# Архимед-

выдающийся математик и физик

Древней Греции,

жил более 2000 лет назад.



# Джордано Бруно-

итальянский учёный 16 века.

Утверждал , что Земля  
вращается вокруг Солнца,  
Вселенная бесконечна,  
и жизнь возможна не только на Земле.



# Леонардо да Винчи-

великий итальянский учёный,  
скульптор, живописец,  
архитектор и инженер.



Предлог стоит в моём начале,  
В конце же загородный дом.  
А целое мы все решали  
И у доски, и за столом.

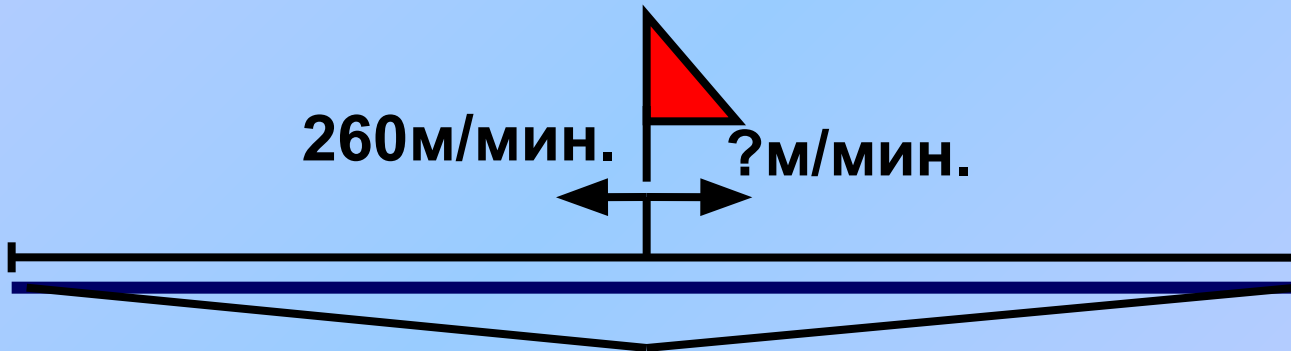



за

дача








$t = 30 \text{ мин.}$

$15 \text{ км} = 15.000 \text{ м}$





$8 * x = 320$	...	40-б
$50 - x = 14$	...	13-л
$x * 30 = 270$	...	9-а
$7 + x = 20$	...	21-г
$84 : x = 4$	...	91-а
$x : 15 = 4$	...	60-р
$x - 41 = 50$	...	36-

е

9	13	21	36	40
а	л	г	е	б

а

60	91
р	

# алгебра



**Если множитель умножить  
на ... , то получится  
произведение**

• А) **умножаемое**

• Б) **слагаемое**

• В) **множитель**



Подумай!



Молодцы!



**Разность показывает, на  
сколько уменьшаемое ...**

**вычитаемого**

• А) **больше**

• Б) **меньше**

• В) **лучше**





Попробуй ещё раз!



Отлично!



# Деление – это действие, обратное...

- А) сложению
- Б) вычитанию
- В) умножению



**Будь внимателен!**



Умницы!



**Если делимое разделить на частное, то получится...**

- А) **произведение**
- Б) **делитель**
- В) **вычитаемое**



**Не спеши с ответом!**



Хорошо!





# Делить на ... нельзя

• А) **10**

• Б) 1

• В) 0



Не верно!



Ура! Победа!



3

$$X : 8 = 280 : 4$$

$$X - 60 = 63 *$$

5

$$900 : X = 15 *$$

6

$$376 - X = 7 *$$

8

$$X : 20 = 420 :$$

6



**3200**

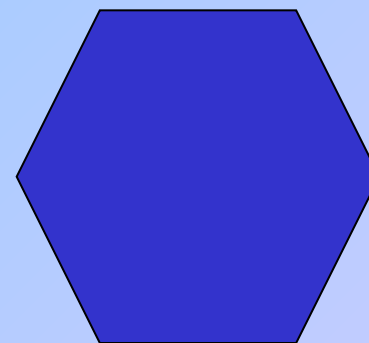



**375 1400 360**



# геометрия



# Узнай фигуры.



# Какова площадь зелёной территории?

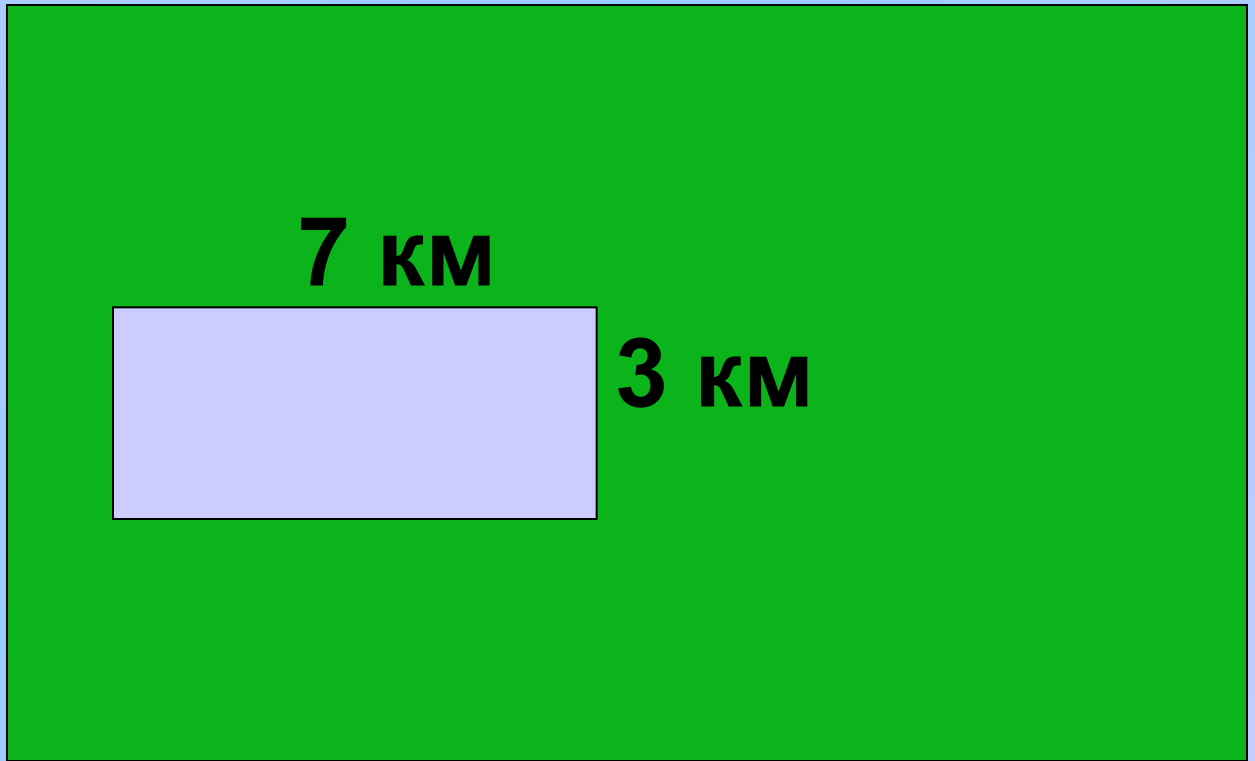
20 км

8 км



7 км

3 км





# ЦАРСТВО МАТЕМАТИКИ



До  
встречи!