



Математика

Решение примеров вида
 $100-47$.

Построение
прямоугольника.



Устный счет.

1) Реши примеры:

$10-2$

$20+30$

4×5

$12:4$

$8-5$

$70-50$

4×4

$16:4$

$10-7$

$90+10$

4×7

$20:4$

$6+3$

$60+20$

4×3

$8:4$

$5+4$

$100-30$

4×2

$4:4$



Работа в тетрадях.

Запишите число, классная работа.

Выполните самостоятельно задание:

1. Вставить пропущенные числа.
2. Дополни до 45.



Повторение, реши примеры у доски:

$$45+(75-68)$$

$$54+(28 -19)$$

$$47+(29-20)$$



Физкультминутка.

Ветер тихо клён качает,
вправо, влево наклоняет.

Раз – наклон, два – наклон,
зашумел листвою клён.



Работа по теме урока.

$$100-34+12=$$

$$100-23+22=$$

$$100-68+32 =$$

$$100-76+54=$$



Самостоятельная работа в тетрадях.

На индивидуальных карточках.


Проверь: 32, 22, 47, 33



Задача.

Работаем с учебником: стр 63, № 1

Прочитай задачу.



Ответ на вопросы:

О чем задача?

Что нам известно?

Сколько продуктов всего?

Сколько израсходовали в 1 день,
2 день?

Что нужно узнать?

Назови главные слова задачи.

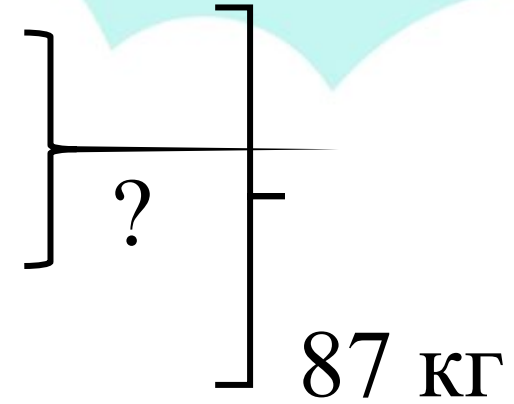


Запиши задачу в тетрадь:

1 день - 30 кг

2 день - 27 кг

3 день - ? кг



1) $30 \text{ кг} + 27 \text{ кг} = 57 \text{ кг}$ — 1 и 2 день

2) $87 \text{ кг} - 57 \text{ кг} = 30 \text{ кг}$

Ответ: 30 кг продуктов
израсходовали в третий день.

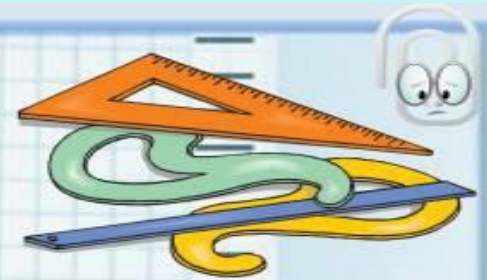



Построй прямоугольник.

Прямоугольник

5 см.



3 см.



Запиши домашнее задание.

Стр 56, № 38 (2 ст)

Месяц _____		Месяц _____	
понедельник		четверг	
вторник		пятница	
среда		суббота	

  Новый LEXUS — традиционный красноречивый, исключительный дизайн премиум-класса, жесткая рама. Качество — главная черта каждого Lexus. Прогнозируемая надежность.

Подпись классного руководителя _____
Подпись родителей _____



Добавить заголовок слайда - 2



Добавить заголовок слайда - 3



Добавить
заголовок
слайда - 4

