

Урок математики 4 класс 3 четверть
учитель Ерошкина Т.П.



Математику , друзья,
Не любить никак нельзя!
Очень строгая наука
Очень точная наука
Интересная наука-это математика.



25 9 18 56 32

• Назовите ответы примеров

• $7 \times 8 = \text{P}$

• $2 \times 9 = \text{O}$

• $27 : 3 = \text{П}$

• $5 \times 5 = \text{С}$


• $8 \times 4 = \text{Т}$

СПОРТ



Символ олимпиады

- Начертить 5 пересекающихся окружностей



Прочитайте числа

15



8



Посчитай медали российских спортсменов

- Россия $13+11+9$
- Норвегия $11+5+10$
- Канада $10+10+5$
- Россия $30+28+22$
- Германия $9+5+1$



Прочитаем условие задачи

В фигурном катании участвовало мужчин — 36 спортсменов, а женщин на 18 спортсменов больше, чем мужчин, а в парном катании в 9 раз меньше, чем женщин. Сколько всего спортсменов участвовало в фигурном катании?

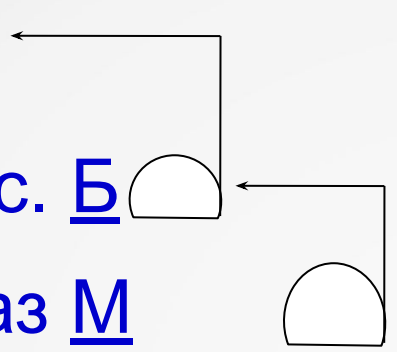


Решите задачу

М. - 36с.

Ж.-? на 18с. Б

П.- ? в 9 раз М

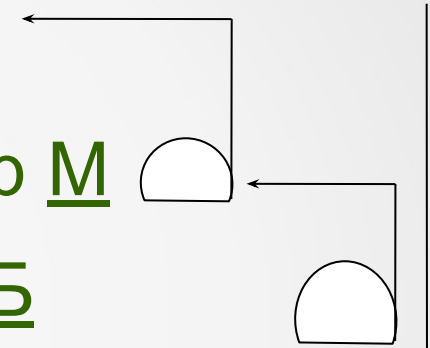


?

Ж. – 54 с.

П.-? на 48 пар М

М. - в 4 раза Б



?



Физминутка

Сколько раз ногою топнем 18:3

Сколько раз руками хлопнем 2x2

Мы присядем сколько раз 3x1

Мы подпрыгнем ровно столько 1x1

Ай да счёт! Игра и только!

Начерти маршрут сноубордиста. Найди длину дистанции.

- $AB = 60 \text{ мм}$
- $BC = 80 \text{ мм}$
- $CD = 50 \text{ мм}$
- $DO = 40 \text{ мм}$



Бобслеисты



Кто первый ?

