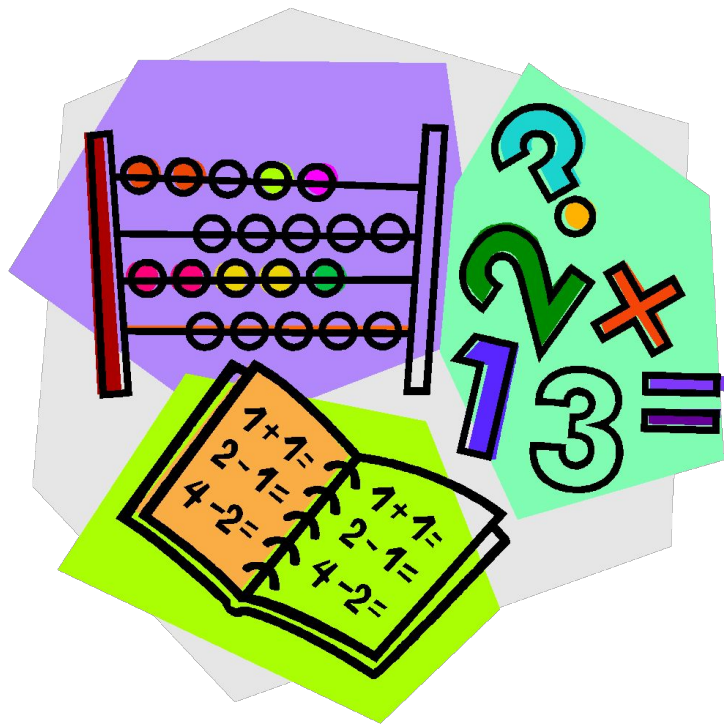


1 класс Тема «Повторение» УРОК МАТЕМАТИКИ





У меня сегодня всё получится



Укажи цифру в разряде сотен.

4892

738

12883

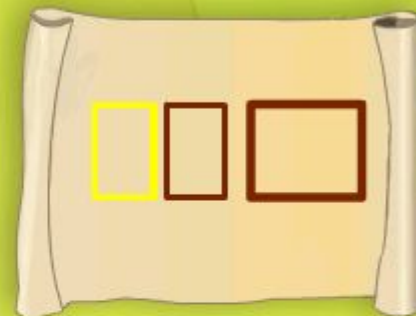
15251

1821023

4815162342



Найди площадь фигуры.



Устный счет. Разминка.

- 1. Назови наибольшее четырёхзначное число.
- 2. Как узнать, во сколько раз 700 больше, чем 100?
- 3. Как найдём периметр?
- 4. Как найти площадь четырёхугольника?

- Прочитай задание и выбери правильный ответ:
- 1. Число 1570 увеличили на 3д. Сколько получили?
• А) 1573 Б) 1500 В) 1870 Г) 1600
- 2. От 8 сот. Отняли 2 дес. Сколько получилось?
• А) 6 сот. Б) 7 сот. 9 дес. 8 ед.
• В) 7 сот. 8 дес. Г) 7 сот. 9 дес. 2 ед.

- 3. Какое число состоит из 8 сот. и 4 ед.
• А) 84 Б) 840 В) 804 Г) 408
- 4. Чему равна четвертая часть от суммы 600 и 200?
• А) 20 Б) 200 В) 300 Г) 30

Как заменить число суммой разрядных слагаемых?

2843



Найди сумму разрядных слагаемых.

$$400000 + 7000 + 60 + 5 = \square\square\square\square\square$$



Представь число в цифровой форме.



Триста две тысячи пять



Перетащи каждую цифру данного числа в подходящий ящикек.

Класс миллионов

Класс тысяч

Класс единиц

Сот.

Дес.

Ед.

Сот.

Дес.

Ед.

Сот.

Дес.

Ед.

87 562 431



Сравни многозначные числа.



42003



420003

11111



9999

7123



8123

87203



87023



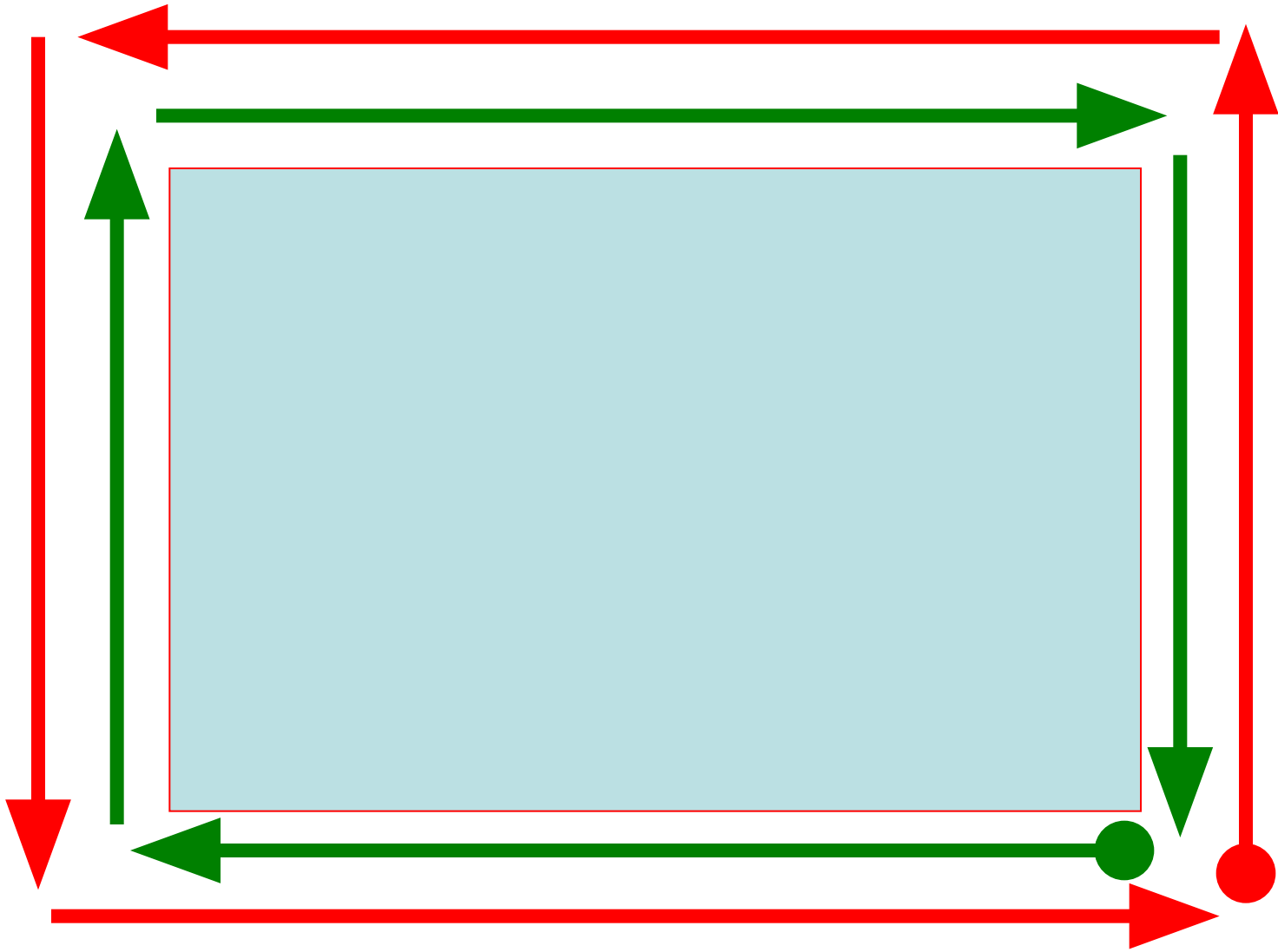
Решим задачу?



В трёх школах учатся 3600 человек.
В первой школе учится 1265 человек,
а во второй школе-на 348 человек
больше, чем в первой.

Сколько учеников в третьей школе?





РАБОТА ПО УЧЕБНИКУ

- СТР. 110
- ЧТО СЕГОДНЯ
- ПОВТОРЯЕМ?

№ 1 с. 110

- ЗА 1 ДЕНЬ – 80 КГ, 15 КГ, 17 КГ
- ЗА 30 ДНЕЙ - ? КГ

№ 2 С. 110

- ВСЕГО - 1005 КНИГ
- 13 ПОЛОК ПО 45 КНИГ
- 7 ПОЛОК ПО 35 КНИГ
- ? КОРОБОК ПО 25 КНИГ

№ 6 С. 110

- НА 500 Г ВАРЕНЬЯ – 350 Г САХ.

НА 3 КГ ВАРЕНЬЯ - ? Г САХ.

№ 4 С. 110

- В 1 ящ. - 24 кор. по 12 яиц
- В 25 ящ. - ? яиц

- Ответ: в фургоне 7.200 яиц

Вырази в указанных единицах.



$$152 \text{ кг} = \square \square \square \square \square \text{ г}$$

$$20 \text{ ц} = \square \square \square \square \text{ кг}$$

$$348 \text{ т} = \square \square \square \square \text{ ц}$$

$$1 \text{ ц} = \square \square \square \square \square \square \text{ г}$$

$$1 \text{ т} = \square \square \square \square \square \square \square \text{ г}$$



Выполни деление «уголком» на двузначное число.

$$\begin{array}{r} 6946 \\ - \square\square \\ \hline \square\square \\ - \square\square \\ \hline \square\square \\ - \square\square \\ \hline \square \end{array} \quad \begin{array}{r} 23 \\ \hline \square\square\square \end{array}$$



Реши уравнение.

$$35 : x = 490 : 70$$

$$35 : x = \square$$

$$x = \square \square \bigcirc \square$$

$$x = \square$$



ОБОБЩАЕМ...

- КОМПОНЕНТЫ ПРИ УМНОЖЕНИИ
- $a \times b = c$

- КОМПОНЕНТЫ ПРИ ДЕЛЕНИИ
- $a : b = c$

ПОВТОРЯЕМ:

- $0 \times a =$
- $0 : a =$
- $a \times 1 =$
- $a : 1 =$
- $a : a =$

Вычисли, если возможно.

$$(549376 - 549376) : 47392 = \square\square\square\square$$



- **Все науки создать очень сложно,**
- **В 21-й наш атомный век**
- **Без наук нам прожить невозможно,**
- **Ведь без них, как без рук человек.**
-
- **Всем желаем сноровки и силы,**
- **И удач, и отваги в труде,**
- **Математика всем нам поможет**
- **Оставаться на высоте!**
-

Домашнее задание

***С.110 № 3, № 8
(2СТРОЧКА)***



Молодцы!



Ответь на вопросы, связанные с задачей.

У котят и цыплят вместе 42 лапы
и 13 голов.



Сколько всего животных
(цыплят и котят)?



Сколько лап у котёнка?



Сколько лап у цыплёнка?

