

Урок математики  
во 2 классе  
тема « Сотня »  
учебник Петерсон Л.Г  
Учитель Ищенко В.И.

$$\star + 43 = 48$$

$$72 - \star = 52$$

$$\star - 5 = 34$$

$$61 + 4 = \star$$

$$36 + \star = 38$$

$$\star + 5 = 77$$



**Давайте  
подумаем!**

# Что это ?



- У Лены 7 красных шаров , а синих на 3 больше.

Сколько синих шаров?


Сколько всего шаров ?





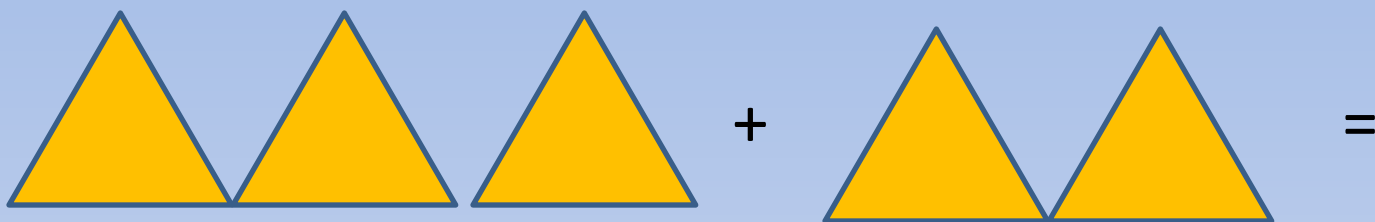
Тема урока : **СОТНИ**

# Вопросы от мудреца

- Из чего состоит сотня ?
- Как считать сотнями ?
- Как правильно называть сотни?



# Считаем сотни на моделях



# Как получили 100 ?

- $90 + 10 = 100$
- $99 + 1 = 100$



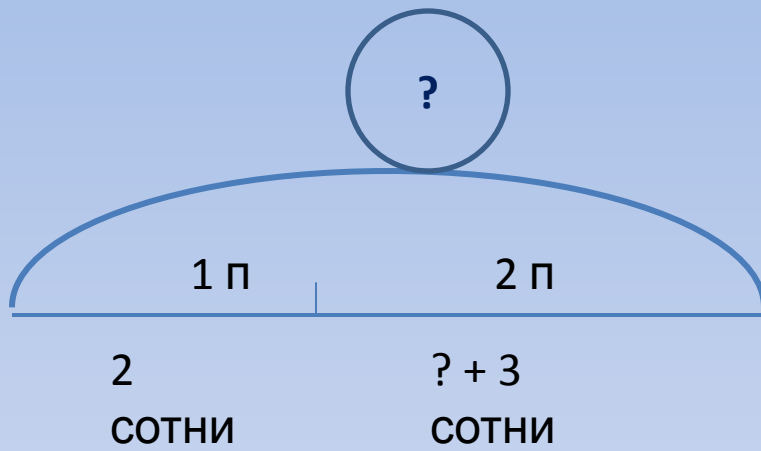
# Считаем сотни (рефлексия)



- $1c + 2c = 3c$
- $6c - 4c = 2c$
- $5c - 1c = 4c$
- $7c + 2c = 9c$



# Задача



# Итог урока

Я думаю,  
что  
«СОТНЯ»-  
это...

СОТНЯМИ  
МОЖНО ...

СОТНИ  
СОСТОЯТ  
ИЗ...



**Молодцы!**