



Час. Минута

Выполнила: Щербакова
Нина Ивановна,
учитель начальных
классов
МБОУ Хмелевской ООШ

**Что всегда
идет,
А с места не
сойдет?**




Пословицы


Д
С
Б
И
В
У
К
Е
В
А
И
Д



Blank space for writing a proverb.



Blank space for writing a proverb.




Blank space for writing a proverb.

Виды часов




Две сестрицы друг за другом
Пробегают круг за кругом.
Коротышка только раз,
Та, что выше, — каждый час.

Часовая




Минутная





Определите время



Решите примеры

- $50 + 7 =$
- $6 + 7 =$
- $98 - 8 =$
- $14 - 7 =$
- $80 - 10 =$
- $5 + 8 =$
- $30 + 20 =$
- $14 - 7 =$
- $70 - 40 =$
- $13 - 6 =$



Итоги урока

или

• сь к

или

пре

дел

в

в

в

в

или

или

**Берегите
свое и
чужое
время!
Спасибо за
работу!**