


Урок математики №86
1 класс
Школа России

Вычитание вида $\square 6 - \square$
 $7 -$

Автор : Гилева Наталия
Владимировна
МКОУ Перегрёбинская СОШ №1»
2020 год



Логическая разминка

- Летела стая гусей: **2** впереди, **1** позади, **2** позади, **1** впереди. Сколько было гусей?



+ **+** **-** **+** **-** **+** **-** **+**



- Если **5** увеличить на **4**, получится **9**.
- Число **2** меньше числа **7** на **5**.
- Число **8** больше, чем число **2**, на **10**.
- Чтобы узнать, на сколько **5** больше, чем **3**, нужно к **5** прибавить **3**.
- Чтобы узнать, на сколько **7** меньше, чем **9**, нужно из **9** вычесть **7**.
- Первое слагаемое **4**, второе слагаемое **3**, сумма **1**.
- Разность чисел **6** и **4** равна **2**.
- Сумма чисел **5** и **2** равна **3**.
- Уменьшаемое **8**, вычитаемое **3**, разность **5**.



Работа с учебником

С. 30



Как из 6 и 7 вычесть 5



$$6 = 5 + 1$$

$$6 - 5 = 1$$

$$7 = 5 + 2$$

$$7 - 5 = 2$$

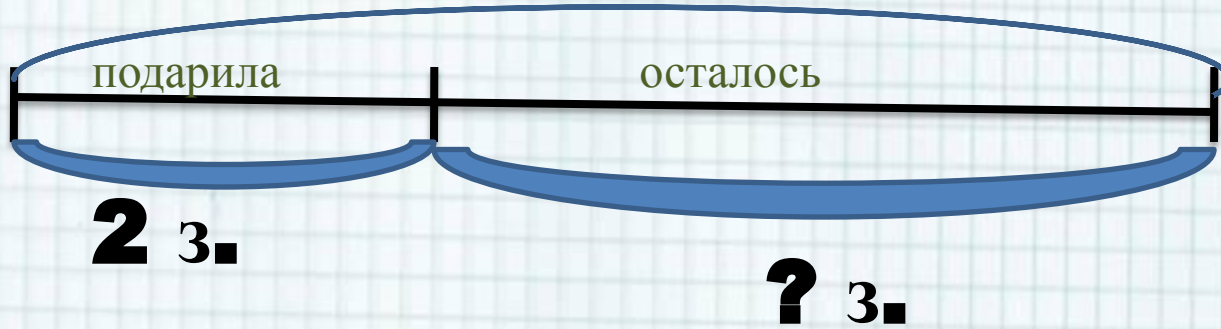
$$7 = 6 + 1$$

$$7 - 6 = 1$$





6 з.
было



$$6 - 2 = 4(\text{з.}) \text{ осталось}$$

Ответ : **4** з. осталось

Составь задачи



3.



Сколько всего
яблок?





Всего 10 вилок.
Сколько ... в коробке?



Состав числа 9

1	
2	
3	
4	
5	





Оцени себя



Учебные пособия:

Математика **1** класс **2** часть /М.И. Моро и др./М. Издательство
«Просвещение» **2015** г.

Автор шаблона Фокина Лидия Петровна
учитель начальных классов МКОУ «СОШ ст. Евсино»
Искитимского района Новосибирской области

Сайт <http://pedsovet.su/>

СПАСИБО АВТОРАМ ФОНОВ И КАРТИНОК

Интернет-ресурсы:

Школьный клипарт <http://s3.pic4you.ru/allimage/y2013/10-24/12216/3925122.png>

Линейки <http://s1.pic4you.ru/allimage/y2012/08-20/12216/2356205.png>

Лист в клеточку <http://s1.pic4you.ru/allimage/y2012/08-20/12216/2356208.png>

Скрепка http://img-fotki.yandex.ru/get/6610/134091466.1c/0_8f975_cc74af65_S

Циркуль http://img-fotki.yandex.ru/get/6521/108950446.113/0_cd1e6_7c1b8dea_S

