

Урок математики
1 класс
Школа России



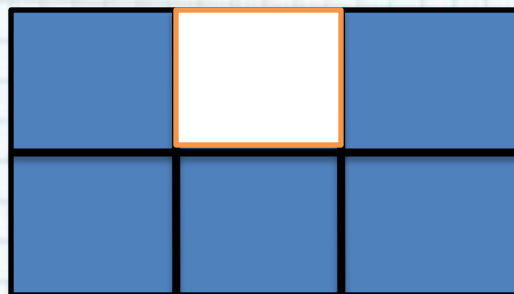

Вычитание вида

10-

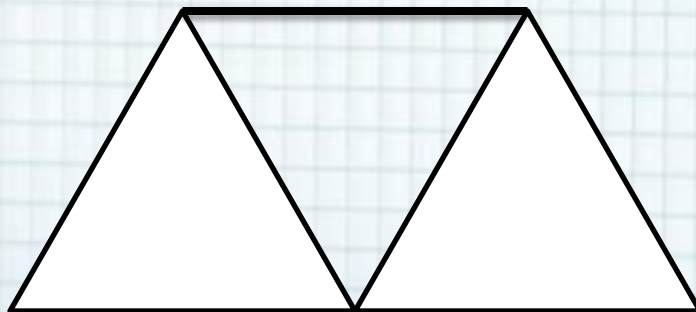

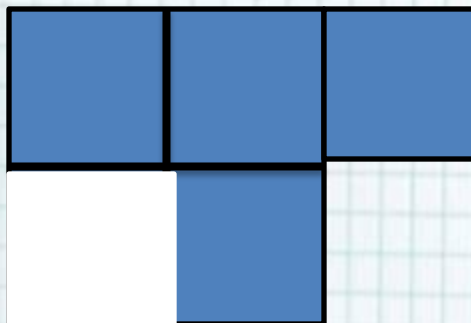
Автор : Гилева Наталия Владимировна
МКОУ Перегрёбинская СОШ №1»
2020 год






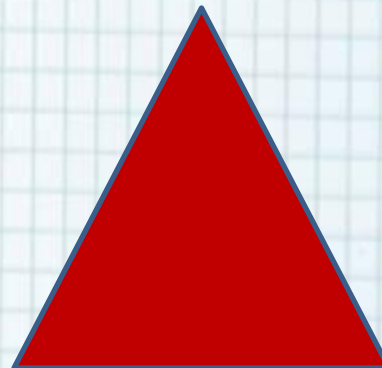
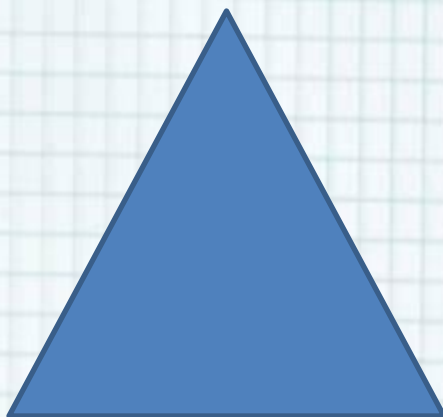
Устный счёт



проверка



Тема урока



Равенства



$$1 + 7 = 8$$

$$2 + 6 = 8$$

$$8 - 1 = 7$$

$$8 - 2 = 6$$

$$8 - 7 = 1$$

$$8 - 6 = 2$$



Состав числа **10**

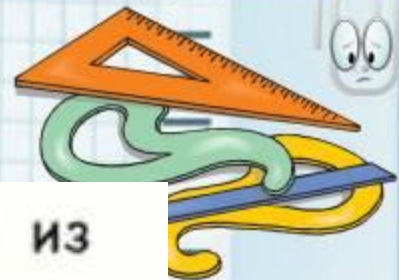
1	
2	
3	
4	
5	



Работа с учебником

С. 34






Будем учиться вычитать различные числа из числа 10.



$$\begin{array}{r} 10 - 8 \\ \hline 10 = 8 + 2 \\ 10 - 8 = 2 \end{array}$$




$$\begin{array}{r} 10 - 7 \\ \hline 10 = 7 + \square \end{array}$$

$$\begin{array}{r} 10 - 6 \\ \hline 10 = 6 + \square \end{array}$$

$$\begin{array}{r} 10 - 5 \\ \hline 10 = 5 + \square \end{array}$$








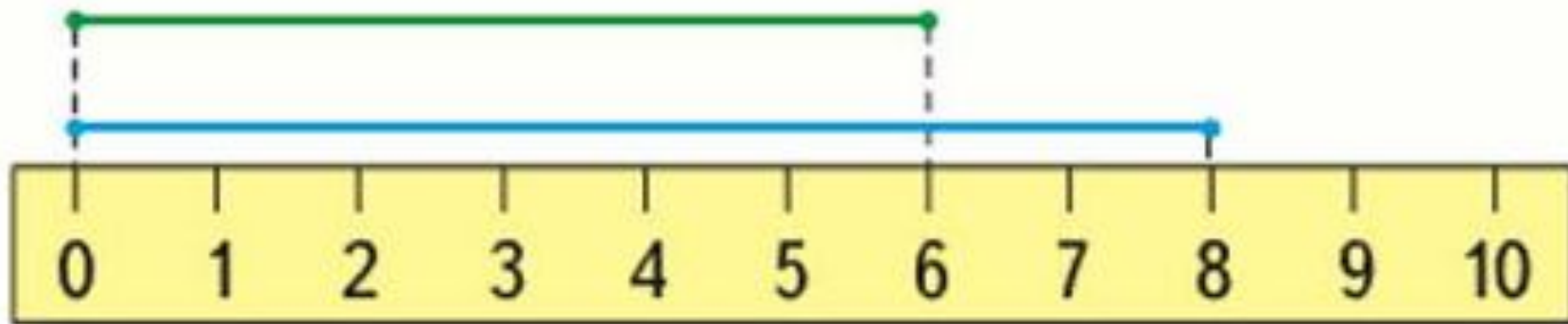

10 д.
Было



$10 - 3 = 7$ (д.) деревянных
Ответ : 7 домов деревянных



Сравни отрезки



$$8 - 6 = 2 \text{ см}$$

Ответ: на **2** см короче



Оцени себя



Учебные пособия:

Математика **1** класс **2** часть /М.И. Моро и др./М. Издательство
«Просвещение» **2015** г.

Автор шаблона Фокина Лидия Петровна
учитель начальных классов МКОУ «СОШ ст. Евсино»
Искитимского района Новосибирской области

Сайт <http://pedsovet.su/>

СПАСИБО АВТОРАМ ФОНОВ И КАРТИНОК

Интернет-ресурсы:

Школьный клипарт <http://s3.pic4you.ru/allimage/y2013/10-24/12216/3925122.png>

Линейки <http://s1.pic4you.ru/allimage/y2012/08-20/12216/2356205.png>

Лист в клеточку <http://s1.pic4you.ru/allimage/y2012/08-20/12216/2356208.png>

Скрепка http://img-fotki.yandex.ru/get/6610/134091466.1c/0_8f975_cc74af65_S

Циркуль http://img-fotki.yandex.ru/get/6521/108950446.113/0_cd1e6_7c1b8dea_S

