

Занимательные задачки по математике

Учитель начальных классов МКОУ «Ястребовская СШ»

Ачинский район:

Фризен Адолина Андреевна



Пирату надо пойти до клада 8 шагов прямо и 6 шагов вправо. Сколько всего шагов в надо сделать пирату?


18

12

14




*Не
правильно,
подумай еще!*



Молодец,

правильно!



*В классе сидело 15 человек. Из библиотеки вернулось ещё
человек. Сколько человек стало в классе?*

25


20

22






Неверно!



Верно!



*Бабушка испекла для внуков 18
блинчиков. После завтрака осталось 6 блинчиков.
Сколько блинчиков съели внуки?*



18

20


12



*Молодец,
верно!*




*Неверно,
посчитай
еще!*




*Вокруг ёлки плясали 12 зверят.
3 медвежонка присели отдохнуть.
Сколько зверят продолжали плясать?*



Неверно!



*Молодец,
верно!*



На перемене 12 учеников вышли из класса, а 5 учеников остались. Сколько учеников в этом классе?

18


17

19






*Неверно,
подумай
еще!*



*Молодец,
правильно!*



На новогоднюю ёлку повесили 9 хлопушек, а шариков на 9 больше. Сколько шариков повесили на ёлку?


20

18

21




*Не
правильно,
подумай еще!*



Правильно!



myJulia.Ru



Молодцы!!!

