




*Прозвенел уже звонок,
Начинается урок.*


*Пусть задания нележки,
Нас ждут открытия
впереди.*




) + - > = < ъ } ?

1. Что это?

2. Какой знак лишний? Почему?



1. Какие цифры можно поставить вместо звёздочки, чтобы получились верные неравенства?



$$24 > 2*$$




$$*6 < 53$$

2. Найди все решения. Запиши неравенства.


3. Почему ни в первом, ни во втором случае нельзя вместо звёздочки вставить цифру 5?

4. Преобразуйте неравенства в равенства, используя знаки сложения и вычитания. Что для этого нужно сделать?





Какие задания можно придумать к рисунку?





Используя имеющиеся
данные составьте и
решите задачи:



I ВАРИАНТ




на ? > или <

II ВАРИАНТ



?



Задача № 1.

Пирамидок - 5 шт.

Мячей - 4 шт.

на ? >
или <

Решение:

$$5 - 4 = 1 \text{ (шт.)}$$

Ответ: пирамидок больше на 1 (мячей меньше на 1).

Задача №2

Пирамидок - 5 шт.


Мячей - 4 шт.

?шт.

Решение:

$$5 + 4 = 9 \text{ (шт.)}$$

Ответ: пирамидок и мячей 9 штук.



Оцени свою работу и отметь кружок на полях:



Я хорошо
работал и все
понял.



Я отлично работал,
все понял, могу
объяснить другим.



Мне нужна
консультация

Молодцы!

