

Таблица
умножения и деления
числа 2 и 3.
Закрепление.
Урок-сказка
2 класс

Автор: Агафонова Светлана Владимировна
учитель начальных классов ГБОУ гимназия №343 г.Санкт-
Петербург.

Проверка домашнего задания:



Витя



Маша







Б Е Л О С Н Е Ж К А

$54 - 14$

$62 + 18$

$52 - 12$

$43 + 57 = 73$


$100 - 25 = 40$

$= 80$

$= 40$

$= 100$

$= 75$



36

7

18

2

9

6

3



54

48

30

56

24

12

42

8

4

5

7

9

18

2

6

3

21-15



24

54

48

30

56

12

42

8

4

36

7

18

2

9

3

$45+9$

6

54

54

48

30

56

12

42

8

4

24



36

7

18

2

9

3

16 : 2

6

54

8

48

30

56


12

42

8

4

24



36

7

18

2

9

3

$50 - 8$

42

8

6

54

48

30


56

12

7

4

24



36

7

18

2

9

3

18 : 6

3

42

6

54

8



36

7

18

2

9

12

3

42

$6 \cdot 2$

8

6

54

48

30

56

12

4

24



36

7

18

2

9

Спасибо!

12

3

42

8

6

54

24


48

30

56

4





Литр топлива для ступы
стоит 6 рублей. Сколько
денег надо уплатить ребятам
за 3 литра топлива?

Ответ: топливо стоит 18 рублей.

Н	А	Ж	А	Т	Ь
Ж	Ё	Л	Т	У	Ю
К	Н	О	П	К	У







Буратино
потянулся.

Раз - нагнулся.

Два - прогнулся.

Руки в стороны
развёл.

Видно, ключик не
нашёл.

Улыбнулся - и
пошёл.

**РЕШИТЕ
ЗАДАЧУ!!!**





Задача

Подземелье Кощея состоит из одного зала прямоугольной формы. Длина зала 6 м, а ширина на 3 м короче. Узнайте периметр и площадь подземелья Кощея .





Проверь!

- а) $a + b$ (пт.)
- б) $c + d$ (я.)
- в) $m - n$ (кг)
- г) $a + b - c$ (фр.)

Спасибо,
ребята!

