

Математика

1 класс

Решение задач

Составила: Руженкова Т.А.
учитель начальных классов
МОУ «Ялгинская СОШ»

Реши задачи



Задача 1



**Герда полила 7 цветков,
а Кай – на 3 меньше.**

**Сколько цветов полил
Кай?**





Задача 2

**Пин принёс
3 шарика, а
Копатыч надул ещё 5
шариков. Сколько
шариков стало?**




Задача 3



**Львёнок знает 3
песенки, а черепаха – 6.
Сколько всего песен
знает черепаха?**





Задача 4

Умка поймал 7
рыбок, а мама на 3
больше. Сколько
рыбок поймала
мама?



Задача 5

Малыш съел 2
плюшки, а Карлсон – 7.
Сколько всего плюшек
они съели?



Проверь себя



1. Ответ: 4 цветка полил Кай.

2. Ответ: 8 шариков стало.



3.  Ответ: 9 песен.


4. Ответ :10 рыбок поймала мама.



5. Ответ: всего 9 плюшек съели



был



СТАЛО НА 2
БОЛЬШЕ

Сколько ...
стало?

Ответ: **5**

п.

$$3-2=$$

1

$$7+2=$$

9


$$3+2=$$

5

$$7-2=$$

5

было



СТАЛО НА 2 МЕНЬШЕ

Сколько ...
стало?

Ответ: **5**

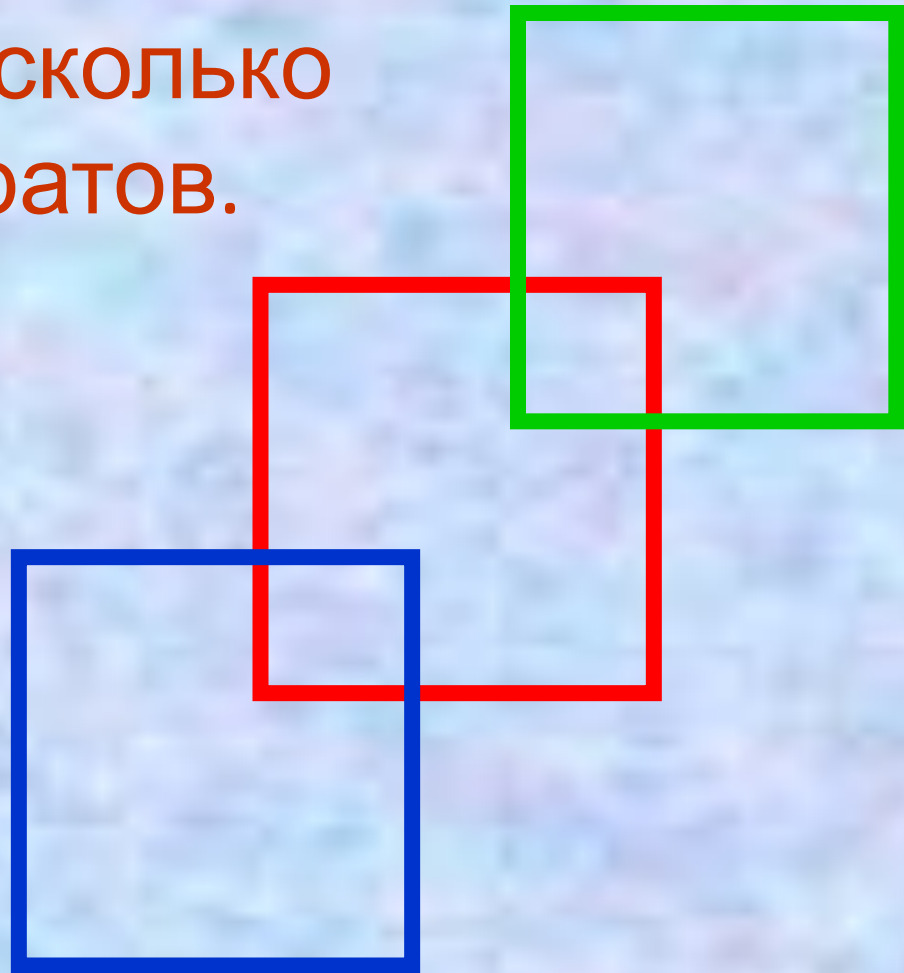
я.



Игра


«Кто самый внимательный?»

Определить, сколько
здесь квадратов.



Помогаем «Незнайке»

(исправь ошибку)



6

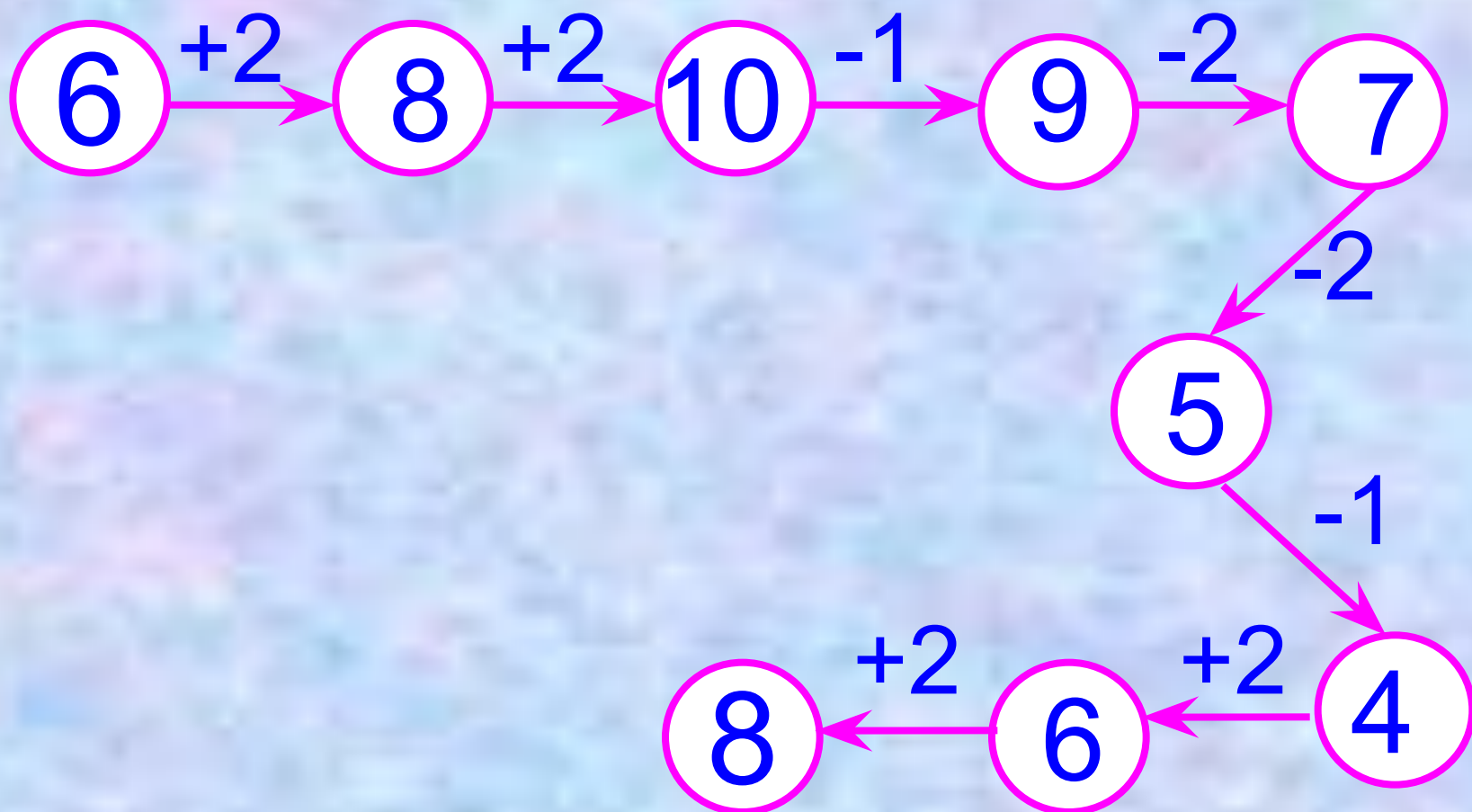
4

8

А теперь поиграем!

Игра «Цепочка»

Помогите слоненку. Он добрый и смешной, хочет с вами подружиться.



Реши примеры.

$7 + 2 = 9$

$9 - 1 = 8$

$4 + 1 = 5$

$6 + 1 = 7$

$6 + 2 = 8$

$7 - 2 = 5$

$8 - 1 = 7$

$9 - 2 = 7$



МОЛОДЦЫ

•Спасибо за внимание !