

Урок математики
во 2 классе
тема « Сотня »
учебник Петерсон Л.Г

Учитель Севостьянова Г.А.

Давайте подумаем!

$$\star + 43 = 48$$

$$72 - \star = 52$$

$$\star - 5 = 34$$

$$61 + 4 = \star$$

$$36 + \star = 38$$

$$\star + 5 = 77$$



Что это ?



- У Лены 7 красных шаров , а синих на 3 больше.

Сколько синих шаров?

Сколько всего шаров ?






Тема урока : **СОТНИ**

Вопросы от мудреца

- Из чего состоит сотня ?
- Как считать сотнями ?
- Как правильно называть сотни?




Считаем сотни на моделях




Как получили 100 ?

- $90 + 10 = 100$
- $99 + 1 = 100$

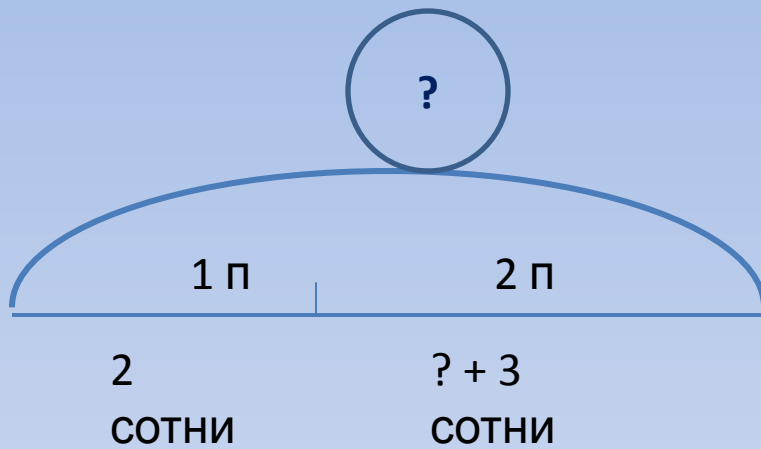


Считаем сотни (рефлексия)



- $1c + 2c = 3c$
- $6c - 4c = 2c$
- $5c - 1c = 4c$
- $7c + 2c = 9c$

Задача



Итог урока

Я думаю,
что
«СОТНЯ»-
это...

СОТНЯМИ
МОЖНО ...

СОТНИ
СОСТОЯТ
ИЗ...



Молодцы!