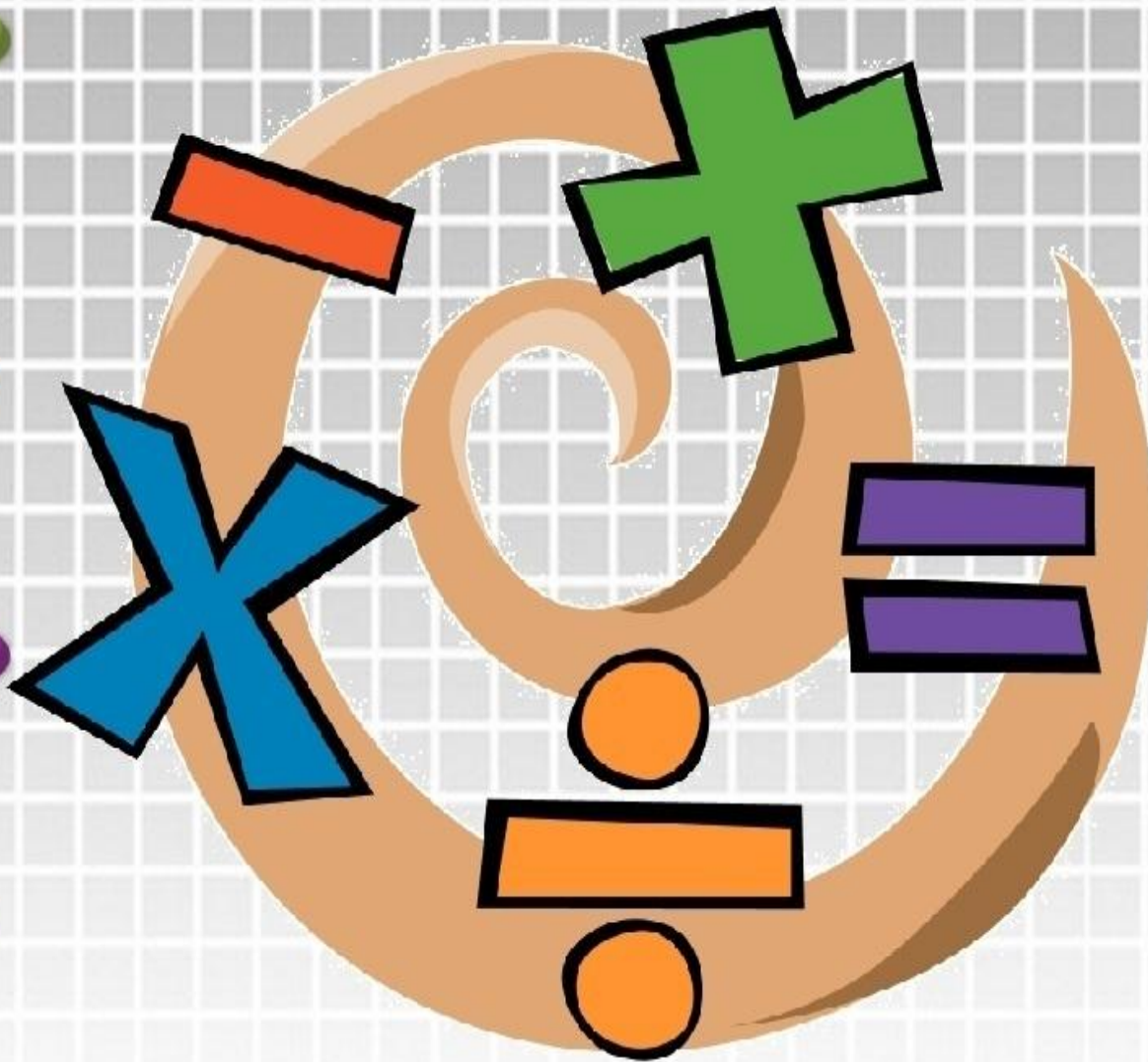


Математика



4

класс

*Найди «лишнее» в каждой
столбике*

1. Длина

1. См

2. Вкус

2. КГ

3. Масса

3. КМ

4. Площадь

4. ДМ

5. Объем

5. ММ

Преобразуй

$$2 \text{ км } 400 \text{ м} = \dots \text{ м}$$

$$6 \text{ ч } 30 \text{ мин} = \dots \text{ мин}$$

Сравни

8 ц ... 80 кг

17 кв. м ... 170 кв. дм

Цель: *учусь складывать и вычитать величины, выраженные разными единицами.*

1. Какие величины можно складывать и вычитать?

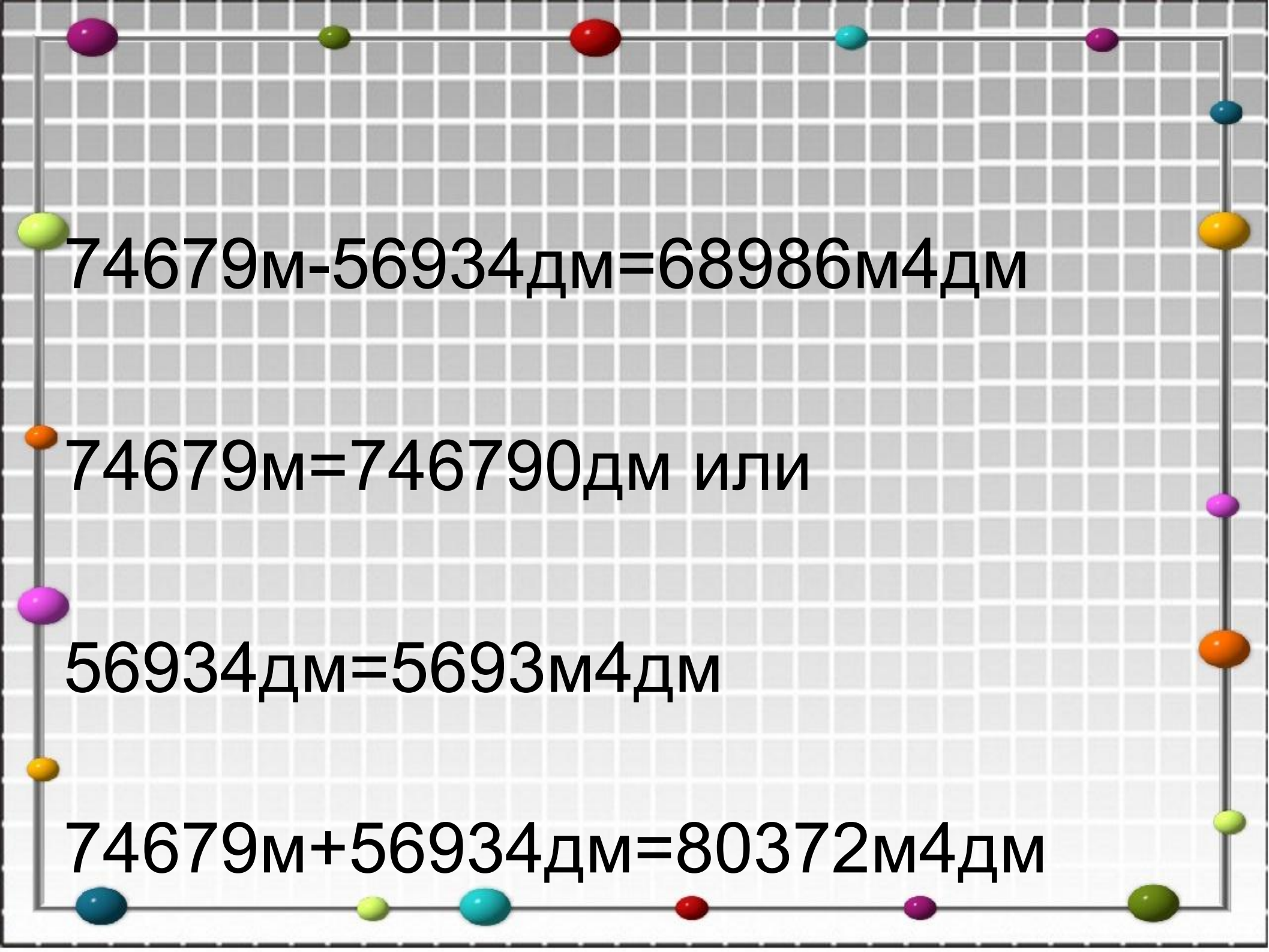
2. Как складывать и вычитать величины с разными единицами измерения?

Памятка

1. Складывать и вычитать можно только однородные величины.
2. Привести величины к одной единице измерения.
3. Выполнить действия с соответствующими числами.


$$89763 \text{ кг} + 2536 \text{ кг} = 92299 \text{ кг}$$

$$89763 \text{ кг} - 2536 \text{ кг} = 87227 \text{ кг}$$



$74679\text{м} - 56934\text{дм} = 68986\text{м}4\text{дм}$

$74679\text{м} = 746790\text{дм}$ или

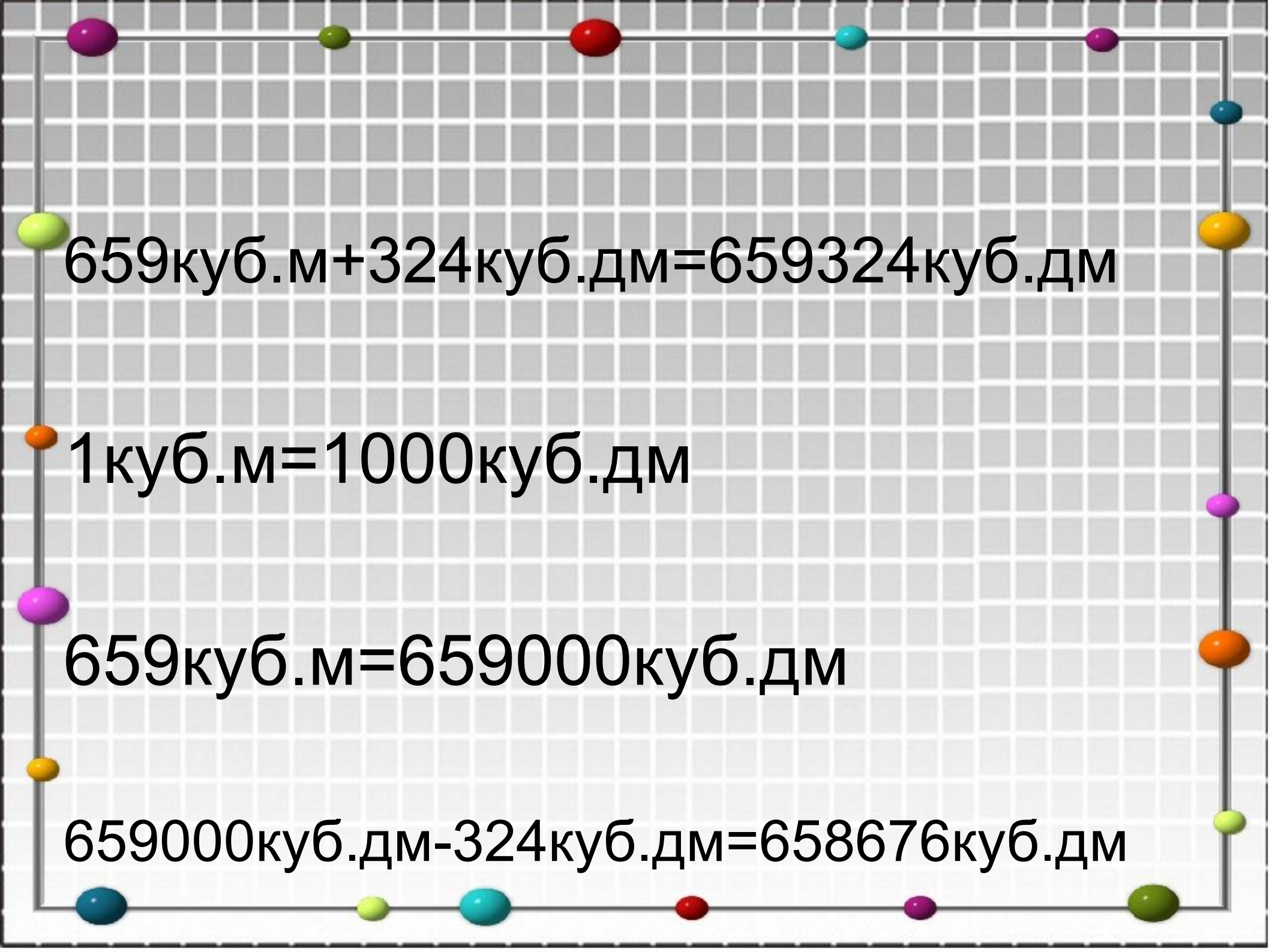
$56934\text{дм} = 5693\text{м}4\text{дм}$

$74679\text{м} + 56934\text{дм} = 80372\text{м}4\text{дм}$


$$2ч + 3265с = 6865с$$

$$2ч = 120мин = 7200с$$

$$2ч - 3265с = 3935с$$


$$659\text{куб.м} + 324\text{куб.дм} = 659324\text{куб.дм}$$

$$1\text{куб.м} = 1000\text{куб.дм}$$

$$659\text{куб.м} = 659000\text{куб.дм}$$

$$659000\text{куб.дм} - 324\text{куб.дм} = 658676\text{куб.дм}$$

Проверь себя №63

$$5 \text{ кв. м} + 7 \text{ кв. см} = 50007 \text{ кв. см}$$

$$5 \text{ кв. м} = 50000 \text{ кв. см}$$

$$50000 \text{ кв. см} + 7 \text{ кв. см} = 50007 \text{ кв. см}$$

1 п. – 50 т з.

2 п. - ? на 20 ц з. <, чем

3 п. - ? на 45 ц з. >, чем




?

№65 (обратная задача)

1 п. – 50 т з.

2 п. - ? на 20 ц з. $>$, чем

3 п. - ? на 45 ц з. $<$, чем




Вычисли

$$125 \text{ см} - 105 \text{ см} =$$

$$29 \text{ кв. м} + 11 \text{ кв. м} =$$

$$325 \text{ ч} - 273 \text{ см} =$$

$$45 \text{ кг} + 5671 \text{ г} =$$



Домашнее задание

Учебник: №64, №66, №67

Выберите два номера, которые
будут вам по силам!