

Урок математики

3 класс



Презентация по математике,
составлена по программе «Начальная
школа 21 века»
учителем начальных классов
МБОУ СОШУИП №3 Л.Н. Сазоновой.

5 10 30 50

70 90 110

130 150

$$3 * 4 = 12$$

$$6 * 5 = 30$$

$$30 : 6 = 5$$

$$6 * 7 = 42$$

$$100 : 10 = 10$$

$$16 : 2 = 8$$

$$8 * 9 = 72$$

$$12 : 4 = 3$$

$$36 : 6 = 6$$

$$49 : 7 = 7$$

$$50 : 50 = 1$$

$$9 * 4 = 36$$


$$5 * 6 = 30$$

$$54 : 6 = 9$$

$$72 : 9 = 8$$


$$7 * 8 = 56$$

ЭКОЛОГИЯ




Ученики 3 "б" класса гуляли на поляне и сорвали 12 цветов, а ученики 3 "а" класса - 4 цветка. Сколько бабочек останется без обеда, если 1 бабочка в среднем, чтобы быть сытой, должна попробовать нектар 4 цветов.













В квартире протекает кран.
За день вытекает **40** капель
воды, а за ночь – **50** капель
воды. Сколько капель воды
вытекает за **3** суток?





a)

	8	1			
*	1	9	2	0	0
				9	0
<hr/>					
	1	7	2	8	0

*	1	9	2	0	0

b)

	4		1		
*	5	7	0	3	
			6	0	0
<hr/>					
	3	4	2	1	8

*	5	7	0	3



a)

x	7	2	0	0	
		8			
<hr/>					

x	5	3	0		
		7	0	0	
<hr/>					

x	4	7	0	0	0
		7			
<hr/>					



b)


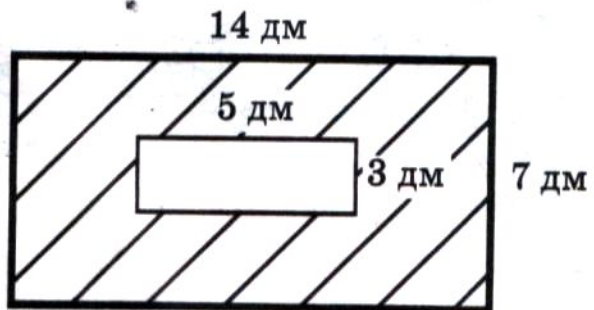
x	9	0	2	0	0
			5	0	
<hr/>					

x	8	3	0	5	6	
				8	0	0
<hr/>						

x	4	6	9	0	0	0
				6	0	
<hr/>						

5

Найди площадь заштрихованной фигуры:



A wolf is silhouetted against a misty, blue-toned forest. The wolf is standing on a dark rock and howling with its head tilted back. The forest consists of tall, thin trees, possibly evergreens, with a thick layer of mist or fog filling the air. The overall mood is mysterious and atmospheric.

ВОЛК



Белка на зиму запасла
24 белых гриба и 2
подосиновика.
А потом не утерпела
и 4 гриба съела.
Сколько грибов
осталось белке на зиму?





БЕЛКА

**Вы лучше
всех!!!**