


УМК «Перспективная начальная
школа»

1 класс

Больше и меньше на некоторое число

Подготовила
учитель начальных классов
МОУ «Ракитянская СОШ №1»
п. Ракитное Белгородской обл.
Латышева
Татьяна Анатольевна



Больше на...+

Меньше -

на...

1



Дополни условие задачи по рисунку. Реши задачу.

Вычисли и запиши ответ.

У Миши 5 красных солдатиков, а зелёных — на больше.

Сколько у Миши зелёных солдатиков?



Дополни утверждение: если зелёных солдатиков на 4 больше, чем красных, то красных солдатиков на меньше, чем зелёных.

2



Красная полоска на 2 см длиннее, чем синяя, а синяя — на 3 см длиннее, чем зелёная.



Определи, на сколько сантиметров красная полоска длиннее, чем зелёная. Запиши, как можно вычислить это число сантиметров.

$$2\text{ см} + 3\text{ см} = 5\text{ см}$$

М

3



Измерь длину красной полоски.



Начерти синюю полоску такой длины, чтобы она была на 3 см длиннее, чем красная.

Начерти зелёную полоску такой длины, чтобы она была на 5 см длиннее, чем красная.

$$5\text{см} + 3\text{см} = 8\text{с}$$

$$5\text{см} + 5\text{см} + 10\text{с}$$

М

3



Какая из полосок длиннее: синяя или зелёная?

На сколько сантиметров зелёная полоска длиннее, чем синяя?

Вычисли и запиши ответ.


$$10\text{см} - 8\text{см} = 2\text{с}$$

ОТВЕТ: на 2

СМ.

① Нарисуй на второй полоске столько кругов, чтобы их было на 3 больше, чем на первой.


Нарисуй на третьей полоске столько кругов, чтобы их было на 4 больше, чем на второй. Запиши, сколько кругов на каждой полоске.



4






$$4 + 3 = 7$$



$$7 + 4 = 11$$

② Нарисуй




9

$$7 = 9 - 2$$

$$3 = 9 - 4$$

③ Измерь длину данного отрезка. Построй второй отрезок, длина которого на 3 см больше, чем длина данного отрезка. Затем построй третий отрезок, длина которого на 4 см меньше длины второго отрезка.



Вычисли длину третьего отрезка.

$$\boxed{5} + 3 - \boxed{4} = \boxed{4} \text{ (см)}$$

④ Построй три отрезка. Длина первого отрезка 7 см, второй отрезок на 4 см короче первого, а третий — на 4 см длиннее второго.



Вычисли длину третьего отрезка. Сравни длины первого и третьего отрезков.

$$\boxed{7} - \boxed{4} + \boxed{4} = \boxed{7} \text{ (СМ)}$$

$$\boxed{7} - \boxed{7} = \boxed{0} \text{ (СМ)}$$

**Спасибо за
работу!**

Источник

И:

https://ds03.infourok.ru/uploads/ex/0e8f/0002f4be-37b4a066/hello_html_2badf79b.jpg

<https://fs01.vseosvita.ua/0100cel6-f790/008.jpg>

Захарова О. А., Юдина Е. П. «Рабочая тетрадь для самостоятельной работы по математике 1 класс, часть 2»

Чекин А.Л. «Математика 1 класс, часть 2»