

$2+2=$

$ax+by=c$

Сантиметр

Урок математики.

1 класс.

УМК «Школа России».

Кардаева Н.А.

МОУ «Чемальская СОШ»

$$\begin{array}{r} 25 \overline{) 5} \\ \underline{25} \\ 0 \end{array}$$

Ёж спросил ежа-соседа:

-Ты откуда, непоседа?

-Запасаюсь я к зиме,

Видишь, вот, грибы на мне.

Собираю их в лесу,

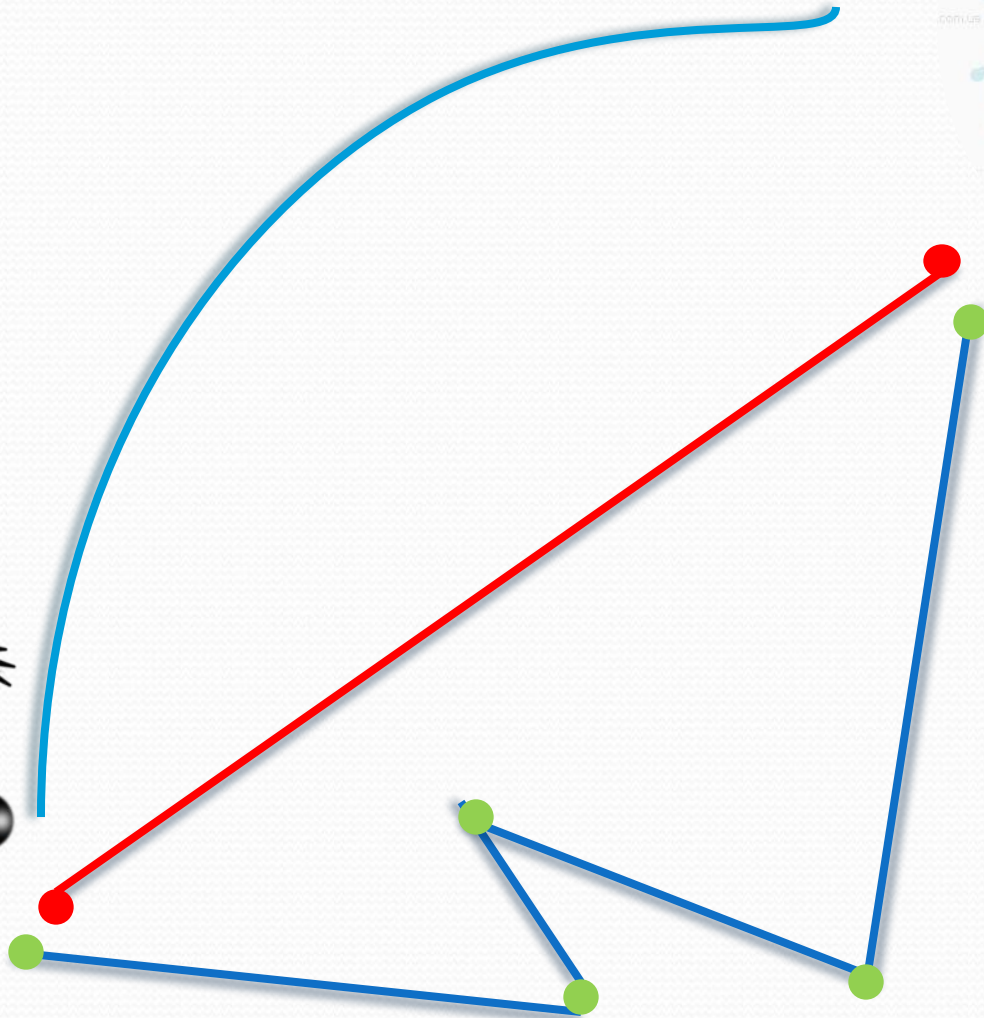
5 принёс, да **2** несусь.

Призадумался сосед.

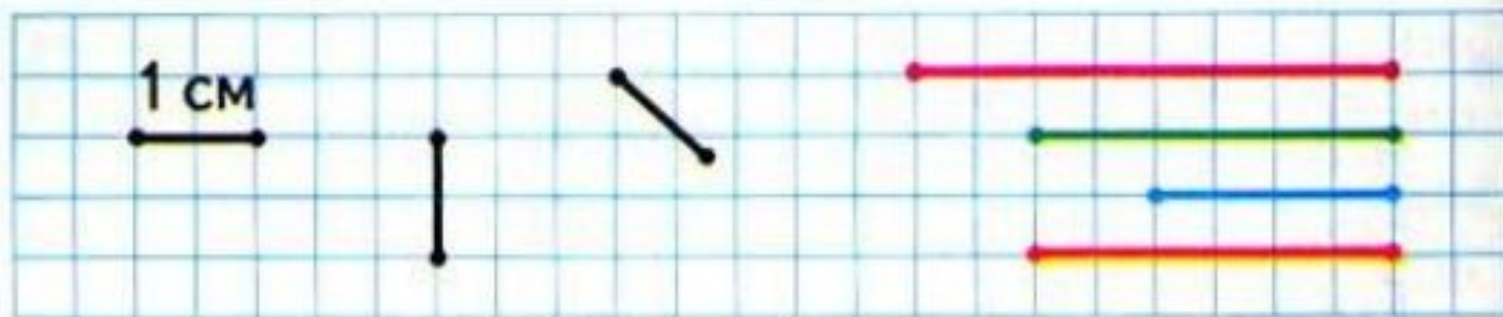
Это много

или нет?





Будем учиться измерять отрезки в сантиметрах (при числах: 1 см, 5 см) и чертить отрезки заданной длины.

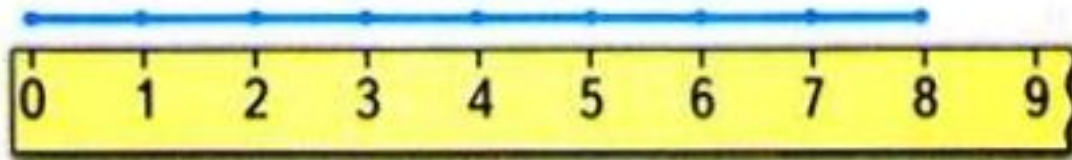


1 см 1 см 1 см 1 см 1 см 1 см 1 см

см



см



CM



CM

Измерь длины предметов в сантиметрах.

8 см 9 см

$$4 + 1 = 5 \text{ (м.)}$$

$$3 + 2 = 5$$

$$5 - 2 = 3$$

$$5 - 3 = 2$$

У Коли



и




Сколько всего машинок у Коли?

$$4 + 1 = 5 \text{ (м.)}$$

Спиши, вставляя пропущенные числа.

10	,	7	,	5	,	2	.	8	,	6	,	5	,	2	.
2	,	5	,	7	,	9	.	7	,	6	,	5	,	1	.



$$3 + 2 = 5$$

$$5 - 2 = 3$$

$$5 - 3 = 2$$

У Оли было 5 монет. Она истратила 3 р.
Сколько рублей осталось у Оли? Сколько
монет у неё могло остаться?

$$6 - 3 = 3$$



$$5 + 1 > 4$$

$$6 + 1 > 5$$

$$7 - 1 < 8$$

$$8 - 1 = 7$$

ИЗМЕРЬ
ДЛИНУ:



