

Тема. Умножение и  
деление на 4.

Четверть числа.  
Закрепление.

$$4 \times \boxed{9} = 36$$

$$\boxed{20} : 4 = 5$$

$$4 \times \boxed{3} = 12$$

$$\boxed{28} : 4 = 7$$


$$4 \times \boxed{2} = 8$$

$$\boxed{36} : 4 = 9$$

$$4 \times \boxed{8} = 32$$

$$\boxed{16} : 4 = 4$$

**151.** Составь все возможные примеры на умножение и деление, используя следующие числа: 28, 24, 7, 6, 4.



Сравни свою работу с работой соседа по парте.

$$6 \times 4 = 24$$

$$4 \times 6 = 24$$

**152.** Что имеет бóльшую массу: 4 пакета муки по 2 кг или 2 сетки картофеля по 4 кг?



Подчеркни правильный ответ:

- 1) мука;
- 2) картофель;
- 3) масса одна и та же.


**152.** Что имеет бóльшую массу: 4 пакета муки по 2 кг или 2 сетки картофеля по 4 кг?




Подчеркни правильный ответ:

- 1) мука;
- 2) картофель;
- 3) масса одна и та же.

154. Раскрась четверть числа рыбок в аквариуме.



154. Раскрась четверть числа рыбок в аквариуме.





203.

У

В



**205.** Придумай по рисунку задачу, которая решается делением.

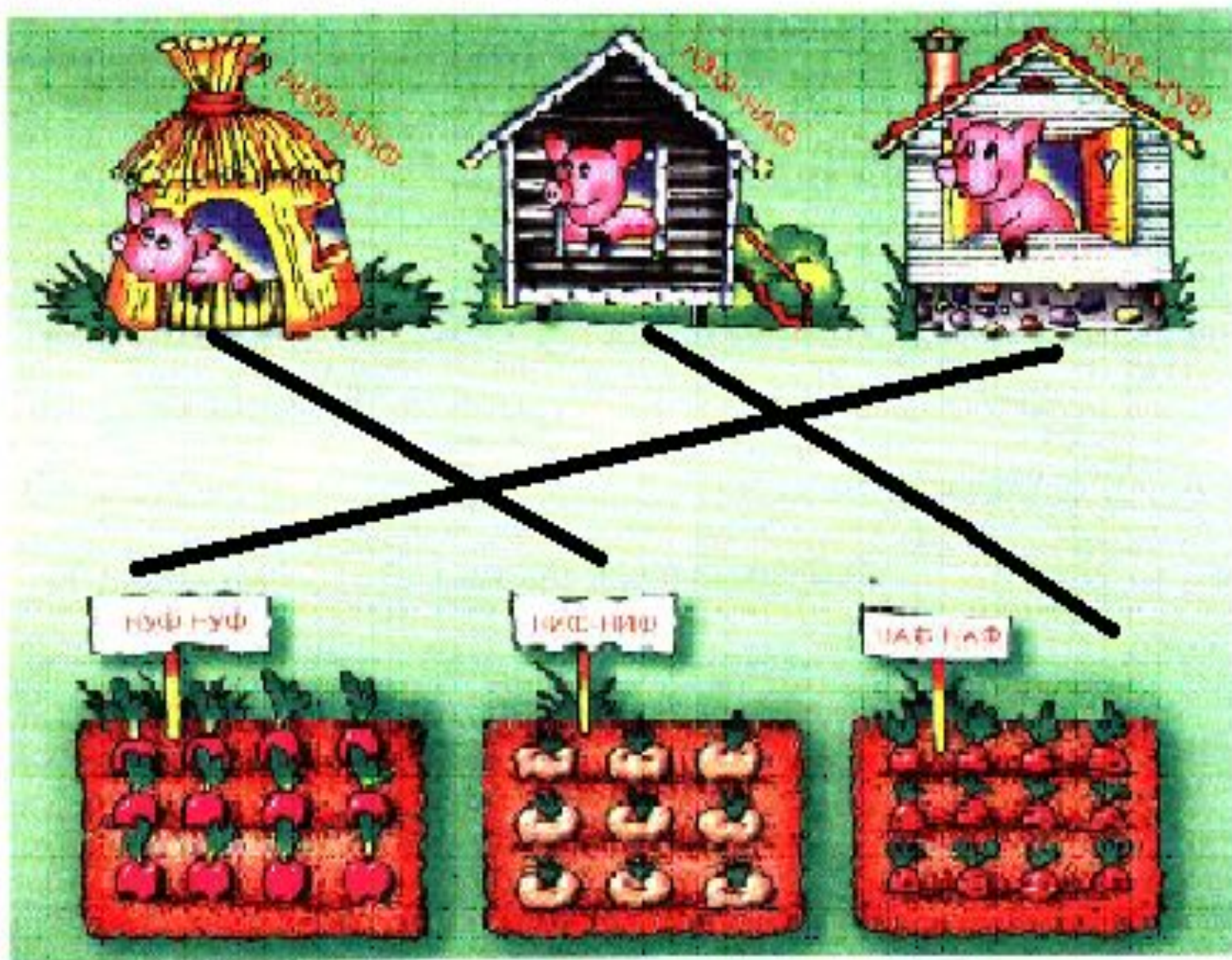


158. Изобрази тропинки, ведущие от домиков поросят к их огородам, так, чтобы они пересекались.

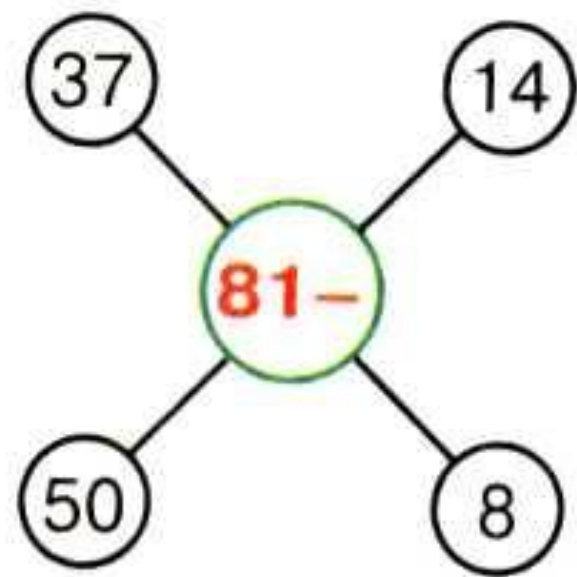
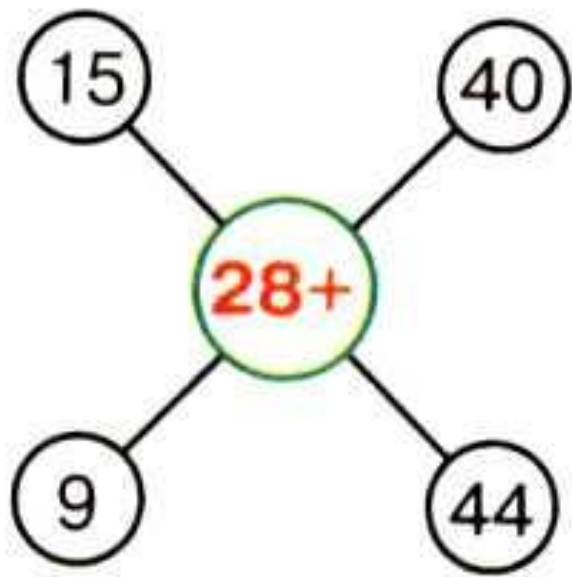


158.

Изобрази тропинки, ведущие от домиков поросят к их огородам, так, чтобы они пересекались.



**206.**



***Молодцы,  
ребята!***