

**УМК «Перспективная начальная  
школа»  
1 класс**

# **Вычитание по одному**



**Подготовила  
учитель начальных классов  
МОУ «Ракитянская СОШ №1»  
п. Ракитное Белгородской обл.  
Латышева  
Татьяна Анатольевна**





**«Чтобы вычесть 2, нужно два раза вычесть по 1»,  
— сказал Миша.**

**Миша прав?**



$$5 - 2$$



$$(5 - 1) - 1$$

**Рассмотри рисунки и записи под ними.**

**Будут ли значения этих разностей равны?**

**Перепиши их в тетрадь и поставь между ними  
правильный знак.**

**Объясни свой ответ.**

$$5 - 2 = 5 - (1 + 1)$$





**Нарисуй два ряда по 10 кругов.**



**Вычеркни в верхнем ряду сразу 3 круга, а в нижнем — три раза по 1 кругу.**

**Сколько кругов осталось в верхнем ряду и сколько — в нижнем?**

**Объясни, как можно вычесть число 3.**

**Сколько раз для этого нужно вычесть по 1?**



$$10 - 3 = 10 - (1 + 1 + 1) = 10 - \boxed{1} - \boxed{1} - \boxed{1}$$



**Вычисли значение разности, вычитая по 1 запись, как показано на образце.**

① Выполни вычитание, вычитая по 1.

$$8 - 3 = 8 - (\boxed{1} + \boxed{1} + \boxed{1}) = \boxed{7} - \boxed{1} - \boxed{1} = \boxed{5}$$





② Сравни значения разностей и расставь знаки  $>$ ,  $<$  или  $=$ .

$$4 - 1 - 1 \boxed{=} 4 - 2$$

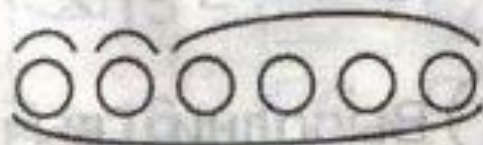
$$5 - 1 - 1 - 1 \boxed{=} 5 - 3$$





3) Дополни схемы к математическим записям.

Например:  $6 - 1 - 1 = 4$ .



$5 - 1 - 1 = \square$  3



$5 - 1 - 1 - 1 = \square$  2









⑤ Выполни действия, вычитая по одному.  
Например:  $7 - 1 - 1 = 6 - 1 = 5$ .

$$4 - 1 - 1 = 3 - \boxed{1} = \boxed{2}$$

$$8 - 1 - 1 = \boxed{7} - \boxed{1} = \boxed{6}$$

$$5 - 1 - 1 - 1 = \boxed{4} - \boxed{1} - \boxed{1} = \boxed{3} - \boxed{1} = \boxed{2}$$







⑥ Выполни действия, вычитая по одному.  
Например:  $6 - 2 = 6 - 1 - 1 = 5 - 1 = 4$ .

$$7 - 2 = \boxed{7} - \boxed{1} - \boxed{1} = \boxed{6} - \boxed{1} = \boxed{5}$$

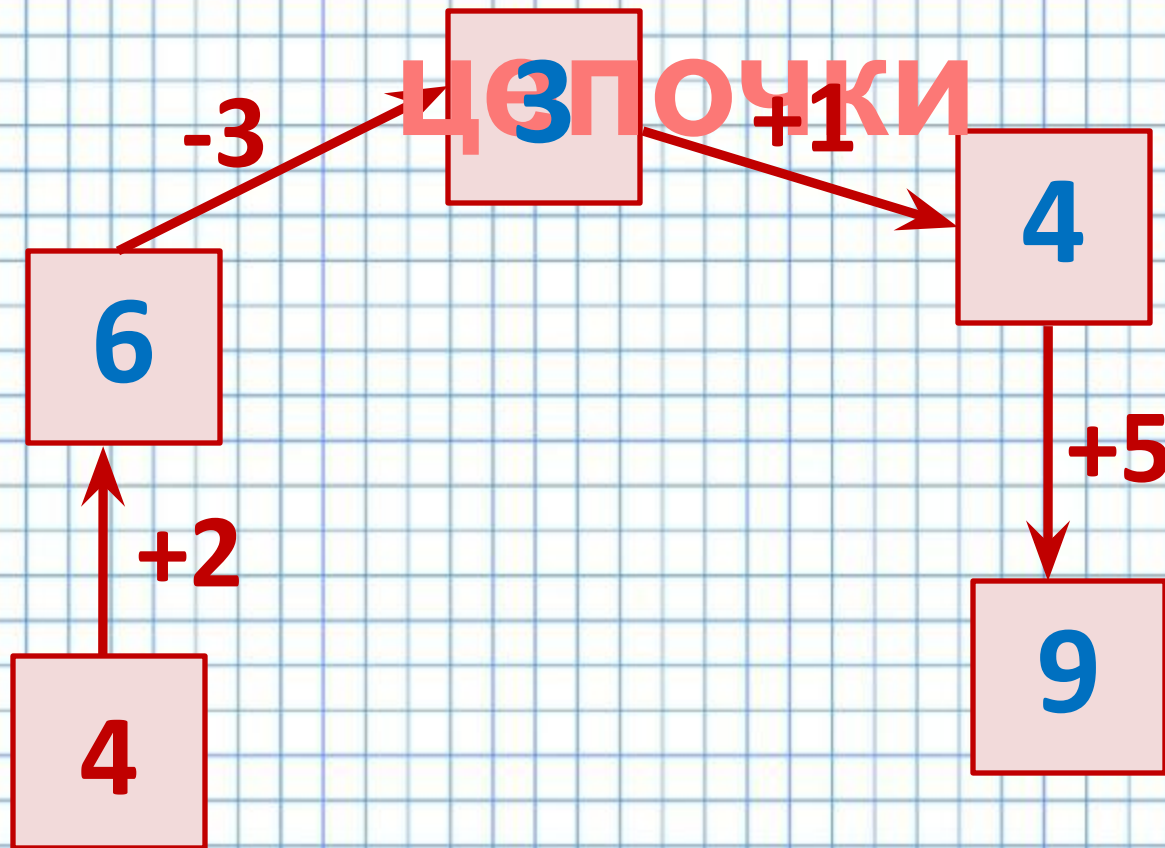
$$8 - 2 = \boxed{8} - \boxed{1} - \boxed{1} = \boxed{7} - \boxed{1} = \boxed{6}$$

$$7 - 3 = \boxed{7} - \boxed{1} - \boxed{1} - \boxed{1} = \boxed{6} - \boxed{1} - \boxed{1} = \\ = \boxed{5} - \boxed{1} = \boxed{4}$$



# Примеры-

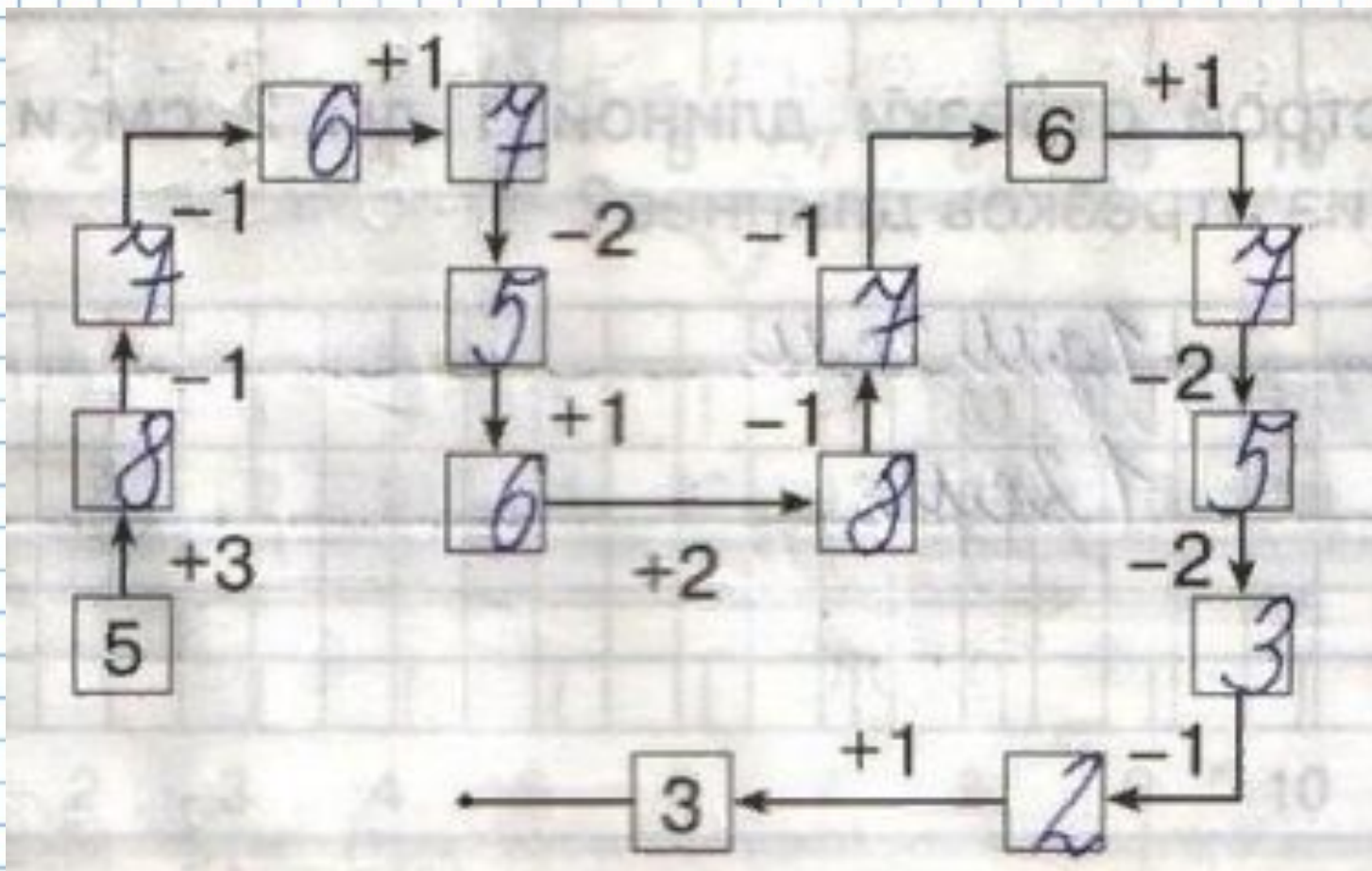
## цепочки







# Выполни действия и заполни звенья цепочки.



**Спасибо за  
работу!**



# ИСТОЧНИК

И:

[https://ds03.infourok.ru/uploads/ex/0e8f/0002f4be-37b4a066/hello\\_html\\_2badf79b.jpg](https://ds03.infourok.ru/uploads/ex/0e8f/0002f4be-37b4a066/hello_html_2badf79b.jpg)

<https://fs01.vseosvita.ua/0100cel6-f790/008.jpg>

Захарова О. А., Юдина Е. П. «Рабочая тетрадь для самостоятельной работы по математике 1 класс, часть 2»

Чекин А.Л. «Математика 1 класс, часть 2»