

ТЕМА УРОКА «РЕШЕНИЕ ПРИМЕРОВ И ЗАДАЧ»

Учитель начальных классов Кутлуева Ольга Михайловна
МКОУ СОШ р.п Межевой



За лугами над водой
Хлынул дождик
проливной,
А потом повисло
На небе коромысло.
Ребятишек радует
Цветная





Логические задачи на сообразительность

- Сколько меду соберут две бабочки, если у них по одному ведру.
- Сколько цыплят вывел петух, если он снес 5 яиц?
- Сколько хвостиков у четырёх белок?
- Над лесом летели три рыбки, две приземлились, сколько улетело?
- Кто быстрее долетит до цветка: бабочка или гусеница?



E

7		7	7		7	7	7
---	--	---	---	--	---	---	---



*U, bemuri
Cemuri, bemuri*



НАВЕДИ ПОРЯДОК В ПРИМЕРАХ

$5-3$ $8-3$ $3+0$

$5+3$ $7+3$ $6+3$

$9-3$ $4-3$



$$5 - 3 = 2$$

$$7 + 3 = 10$$

$$8 - 3 = 5$$

$$6 + 3 = 9$$

$$9 - 3 = 6$$

$$3 + 0 = 3$$

$$4 - 3 = 1$$

$$5 + 3 = 8$$




**В задаче всегда
должны быть
составные
части:**

ОТВЕТ

решение

вопрос

условие



Задача для мальчиков



**Умка поймал 5
рыбок, а мама на 3
больше. Сколько
рыбок поймала
мама?**



$$5+3=8 \text{ (р.)}$$

Ответ: 8 р.



ЗАДАЧА ДЛЯ ДЕВОЧЕК




Герда полила 7 цветков,
а Кай – на 2 меньше.

Сколько цветов полил

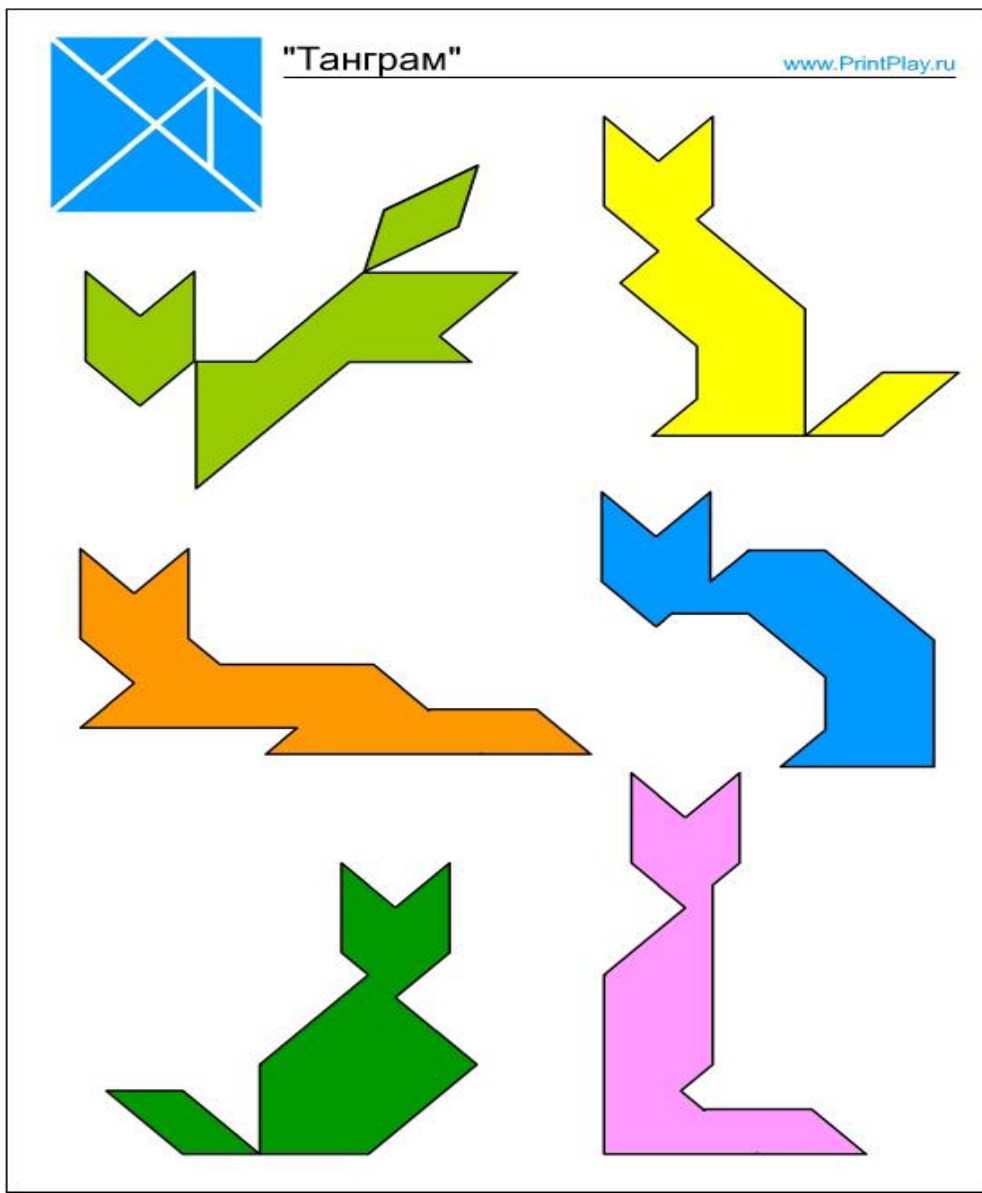
Кай?

$$7 - 2 = 5 \text{ (ц.)}$$

Ответ: 5 ц.



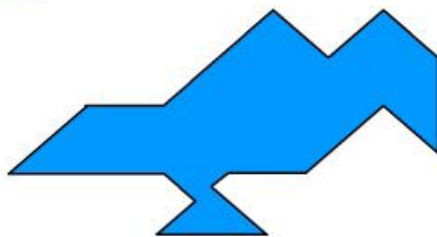
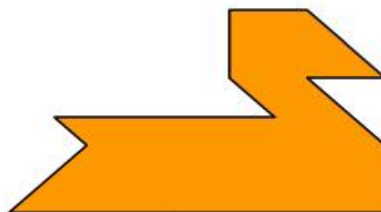


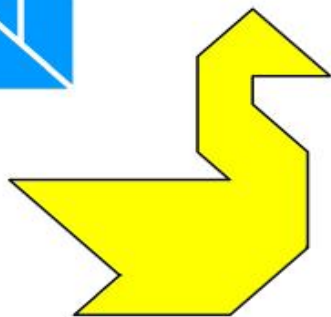
Танграм





"Танграм"

www.PrintPlay.ru





"Танграм"

www.PrintPlay.ru

