





**Урок математики во 2а классе.
Тема. Состав числа 14.**


$$6+4$$


$$11-5$$


$$8+5$$


$$7+4$$


$$12-6$$


$$5+6$$


$$11-8$$


$$9+4$$

 Увеличить

 Увеличить



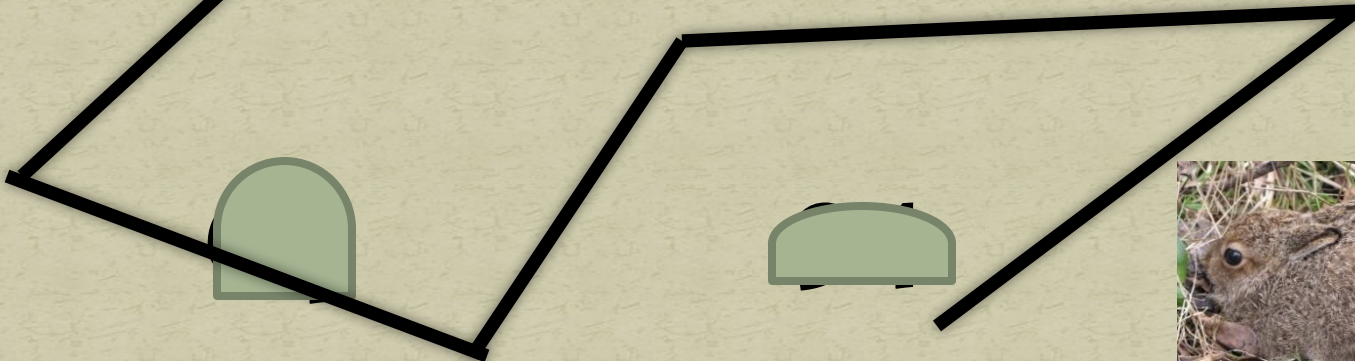
Помоги белочке!



© Alex Bannykh * www.ClipartOf.com/31420



14



Два зайчика нашли 14 грибов.
Сколько нашёл каждый?

14



Ушастик

10 + 4 О●

9 + 5 П

8 + 6 Я


7 + 7 Т●

6 + 8 К

5 + 9 И



Шустрик



1

13

2

12

3

11

4

10

5

6

7

8

9

7

8

9

У кого больше опят ?



$$7+7$$

$$8+6$$

$$9+5$$

Ушастик



Шустрик



$$7+3+4$$

$$8+2+4$$

$$9+1+5$$



1 вариант

● $7+7=$

● $8+6=$

● $9+5=$

2 вариант

● $7+3+4=$

● $8+2+4=$

● $9+1+4=$

1 вариант

$$8+6=14$$

$$9+5=14$$

$$7+7=14$$

2 вариант

$$\bullet 9+1+4=14$$

$$\bullet 7+3+4=14$$

$$\bullet 8+2+4=14$$

● $7+7 = 7+3+4$

● $8+6 = 8+2+4$

● $9+5 = 9+1+4$



1 вариант

● $6+8=$

● \wedge

2 вариант

$5+9=$


\wedge

1 вариант


$$6+8=14$$



^



44

2 вариант

$$5+9=14$$

^

54