

Математика

УМК «Школа «2100»

Авторы:

Демидова Т.Е., Козлова С.А., Тонких А.П.

2 класс

Тема: «Решение задач с величинами :цена, количество, стоимость»

Подготовила Карпова Любовь Сергеевна,

учитель начальных классов МОУ СОШ пгт. Атамановка

Цель: Правильно решать текстовые задачи с величинами :
цена, количество, стоимость

**Ребята, я в беде!
Думал, что со мной ничего не случится.
Попал в Страну «Математика».
А в этой стране столько тайн...
Во...**

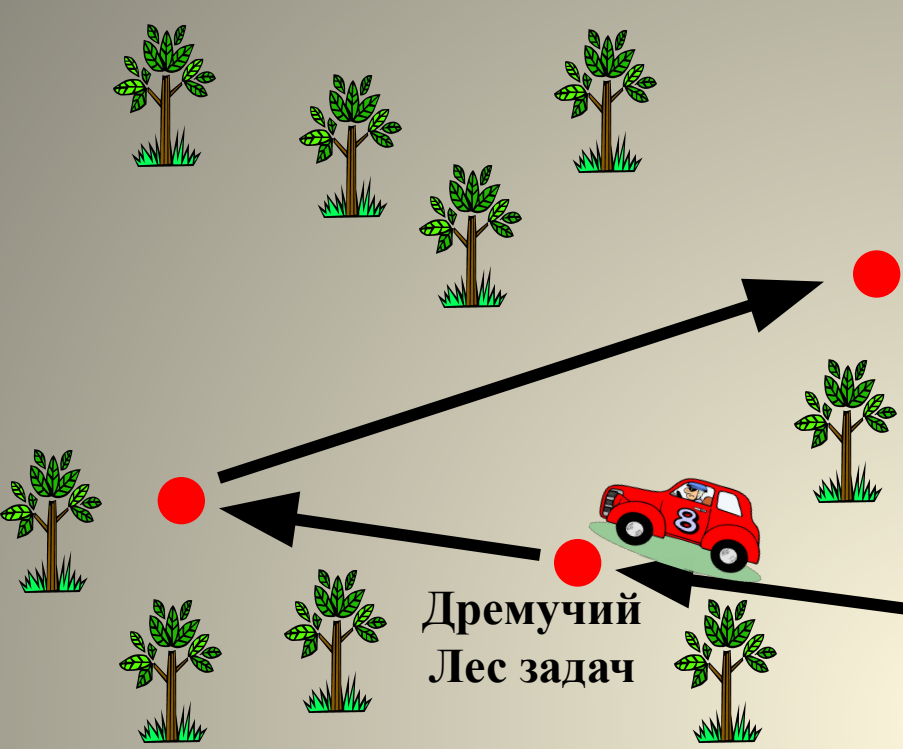


**Впереди у нас страна,
не любить её нельзя!**

**МАТЕМАТИКА, друзья, -
очень точная наука!**

**Путешествуя по ней,
не грозит нам лень и
скука!**

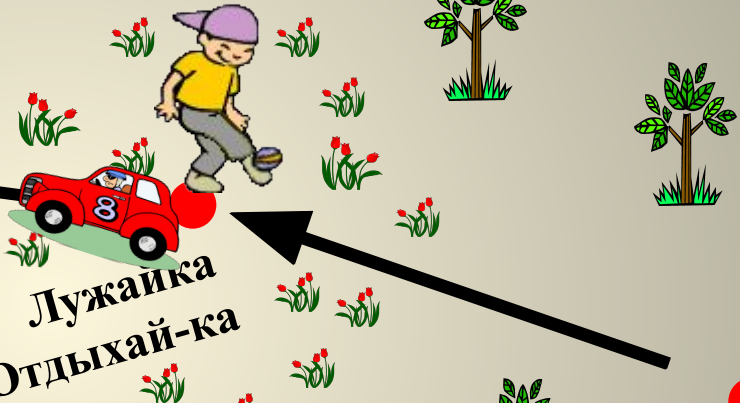
СТРАНА
«МАТЕМАТИКА»



Дремучий
Лес задач



Лужайка
Отдыхай-ка



Город Правильного
ответа



Улица Пропущенных чисел



Вместе не трудно,

Вместе не тесно!



Вместе - легко!

И всегда

интересно!

17 марта.
Классная работа.

Город правильного ответа



Найди правильный ответ.

Дарит бабушка-лисица трём внучатам рукавицы.
Это вам на зиму, внуки, рукавичек по две штуки.
Берегите, не теряйте! Сколько всех пересчитайте!

4

8

10

12

6



Найди правильный ответ.

Как-то раз в лесу густом
Ёж построил себе дом.
Пригласил лесных зверей.
Сосчитайте их скорей:
6 зайчат, 6 лисят,
6 весёлых медвежат,
белчат, 6 бобров.

У кого ответ готов?



24 36 30 48



Найди правильный ответ.

Три бельчонка маму-белку ждали около дупла.
Им на завтрак мама-белка 9 шишек принесла.
Разделила на троих. Сколько каждому из них?

12

27

3

6



Найди правильный ответ.

На пригорке возле ёлок Ёжик яблоки считал.
Пять под ёлкой, пять за ёлкой, пять в мешке за
тем пригорком, пять в избе на третьей полке.

Сколько яблок, как понять?
Ёж не может разобрать.



25



15

35

20



Найди правильный ответ.

На базаре добрый ёжик накупил семье сапожек.

Сапожки по ножке – себе.

Поменьше немного - жене.

С пряжками - сыну,

С застёжками - дочке.

И всё уложил в мешочке.

Сколько в семье у ёжика ножек

И сколько купили сапожек?




8 12 16 20

Чада За!

- Работа в группах.
Составление пословиц
- Тема урока. Цель урока.



Улица Пропущенных чисел



Нахождение цены, количества, стоимости

Правила

| | Цена : | Количество : | Стоимость • |
|--|------------------|------------------------|-----------------------|
|  | 7 руб. | 3 шт. | ? руб. |
|  | 6 руб. | ? шт. | 12 руб. |
|  | ? руб. | 4 шт. | 40 руб. |

Лужайка Отдыхай-ка



Дремучий Лес задач



Стр. 24, № 5 (б)





Проверка



Проверка по образцу

Задача №5(б)

1) $5 \times 6 = 30$ (руб) - стоят 6 ручек.

2) $20 \times 1 = 20$ (руб) - стоит 1 ручка.

3) $30 + 20 = 50$ (руб) - всего заплатили.

Ответ: 50 рублей.

ИЛИ

$5 \times 6 + 20 \times 1 = 50$ (руб) - всего заплатили.

Ответ: 50 рублей заплатили.

Магазин



Найди все способы

- Катя, Петя и Вова подошли к двери магазина. Сколько существует вариантов войти в магазин по очереди?
Перечислите, записывая только первую букву имени.
- А какой самый правильный?

Нахождение цены, количества, стоимости

| | Цена : | Количество : | Стоимость • |
|--|-----------|-----------------|----------------|
|  | 6 р. | 2 шт. | ? р. |
|  | 10 р. | ? шт. | 30 р. |
|  | ? р. | 4 шт. | 8 р. |



**Все испытания
прошли
И мне, друзья,
вы помогли.
Спасибо вам большое!**

Страна «МАТЕМАТИКА»

- Оцените свою работу!



Домашнее задание:

Учебник
стр. 24-25,
№ 5 (а), № 8(по
желанию)