

Презентация к уроку

«Сложение и вычитание в пределах 10»

Найдите другие пары чисел, сумма которых  
равна 8 (9,10)

8

4 5 3 7

6 3 7 1

4 4 6 7

8 5 2 6

8 0 1 2

9

7 3 5 2

4 9 1 3

8 2 5 8

4 5 5 3

3 9 6 4

10

1 4 9 7

8 4 5 2

1 8 6 4

5 2 3 5

4 3 0 7

# Помогите сказочным героям найти нужную карточку



$$10 = \dots + 2$$

$$8 = \dots + 4$$

$$7 = 6 + \dots$$

$$9 = 5 + \dots$$

2

8

1

5



$$8 = \dots + 3$$

4

$$7 = 4 + \dots$$

2

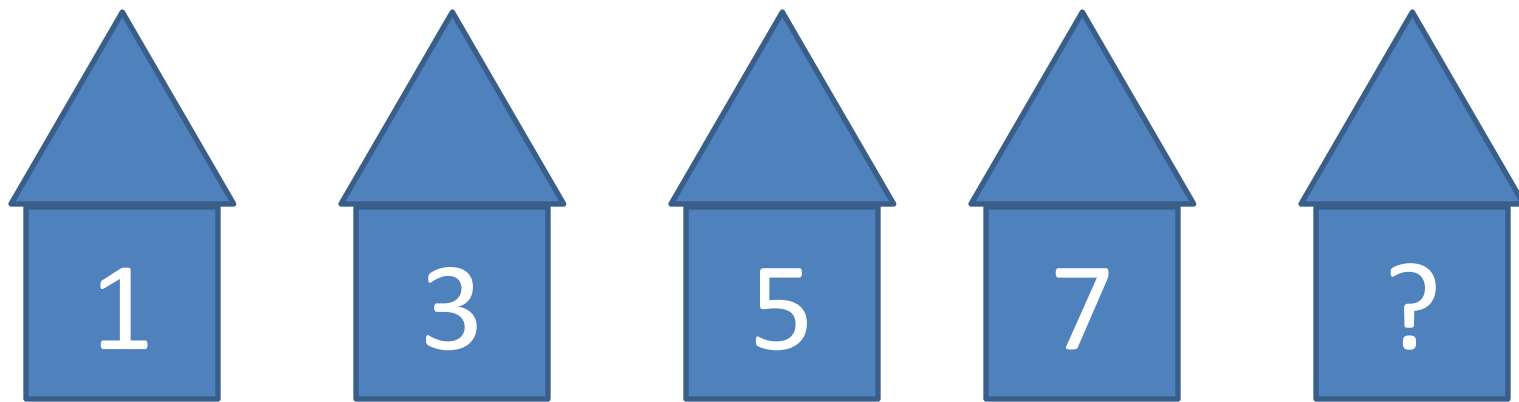
$$10 = \dots + 6$$

3

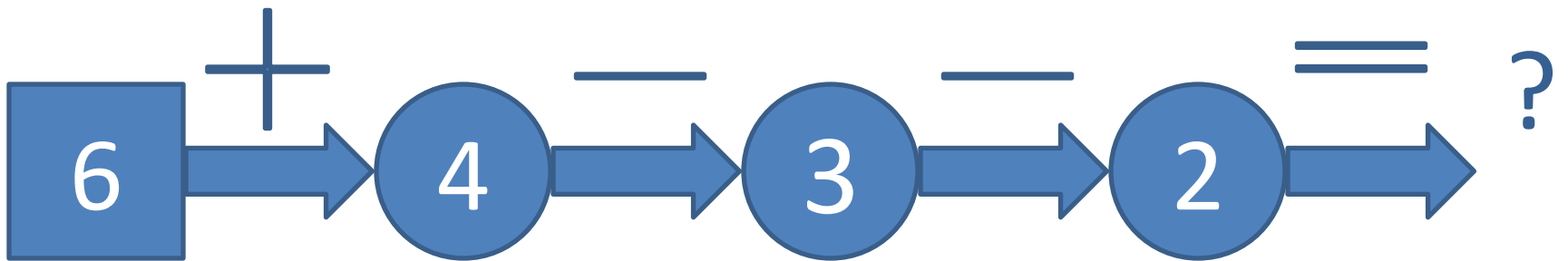
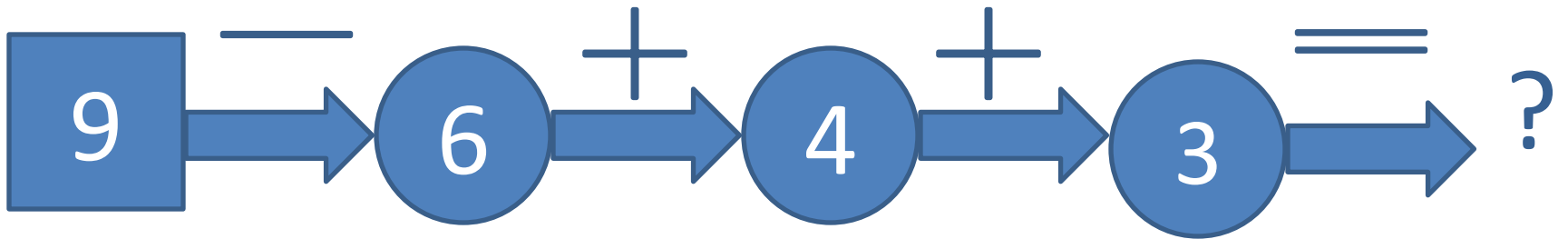
$$9 = 7 + \dots$$

5

# Назови номер последнего дома



# Считаем



Сравни и поставь знак  $>$   $<$   $=$

$5+1 \dots 5$

$6-1 \dots 5$

$7-3 \dots 7+3$

$4+4 \dots 8$

$7-0 \dots 7$

$10-2 \dots 9-2$

# Решение задач

У Миши -



У Димы -?, на 2 машины больше



# Составь задачу

