

# Устный счет по теме

## Трёхзначные числа



10

В каком числе  
количество десятков отсутствует?

для числа 079.

49  
5

68  
0

78

95  
4

23  
0

10  
8


33  
6

46  
0





# Игра «Разгони тучи!»



**Запиши число, которое на 2 десятка больше**

**225**

**600**

**308**

**471**

**708**

**780**



***Проверяем.***

***245***

***620***

***328***

***491***

***728***

***800***

**Масса щуки – 34 кг, а рыбы-меч – на 265 кг больше. Какова масса рыбы-меч?**



**Ответ: 299**


**кг**




**Масса бурого медведя – 350 кг, а белого – 500 кг. На сколько килограмм белый медведь тяжелее бурого?**



**Ответ: на 150 кг.**



**Ребята, берегите зрение!**





# Задача №145(стр. 76)

В корзине лежало 18 яблок и 26 груш, а в ящике 54 яблока и 37 груш.

На сколько больше фруктов лежало в ящике, чем в корзине?



# Запиши выражения столбиком и реши

1 вариант

$$395 + 143$$

$$726 + 159$$

$$324 - 163$$

$$672 - 237$$

2 вариант

$$567 + 323$$

$$276 + 692$$

$$812 - 409$$

$$875 - 539$$



<b>333</b>			<b>478</b>
<b>888</b>		<b>864</b>	<b>748</b>
<b>111</b>			<b>487</b>
<b>674</b>	<b>999</b>		<b>784</b>
<b>555</b>			<b>874</b>



-было все понятно;

-было трудно;

-было интересно;

-прибавилось знаний ...

-пришлось задуматься

...

-могу рассказать другим

...

НА УРОКЕ

МНЕ



# Молодцы!



# Занимательная рамка

<b>420</b>	<b>300</b>	<b>180</b>
<b>200</b>	<b>900</b>	<b>400</b>
<b>280</b>	<b>300</b>	<b>320</b>

