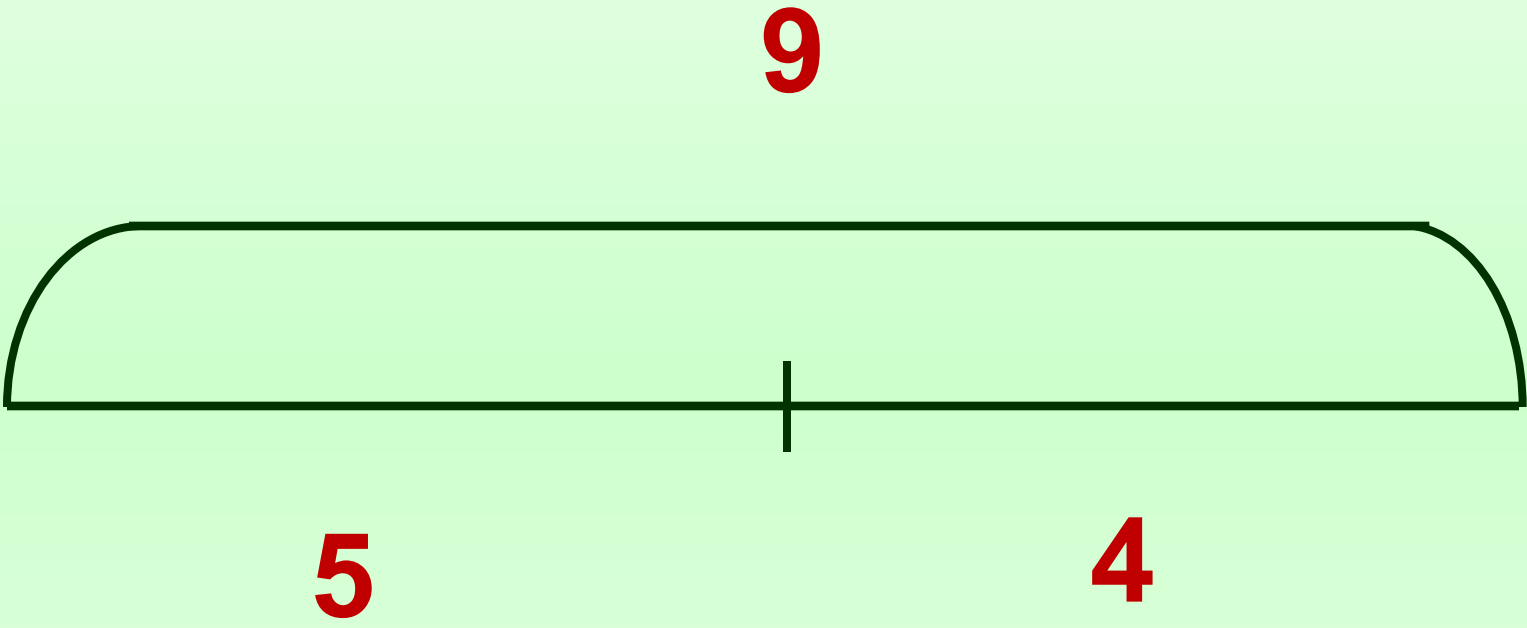


Ум да разум нынче в чести

С ними дружбу поведешь-

Так нигде не пропадешь!




Проверьте

$$4 + 5 = 9$$

$$9 - 4 = 5$$

$$5 + 4 = 9$$

$$9 - 5 = 4$$



?
берёзки

7 деревьев

У Тани 4 гриба.

**У Тани 4 гриба, а
у Саши -2 гриба.**

**На сколько яблок
больше, чем груш?**


**Сколько грибов у Тани и
Саши вместе?**

ЗАДАЧА

**У Тани 4 гриба, а у Саши
-2 гриба. Сколько грибов
у Тани и Саши вместе?**

У Тани 4 гриба, а у Саши
-2 гриба. – **УСЛОВИЕ**

Сколько грибов у Тани и
Саши вместе? - **ВОПРОС**



$$4 + 2$$

Выражение

$$4 + 2 = 6$$

Решение

**Сколько грибов у Тани и Саши
вместе?**

6 грибов.

Ответ

СХЕМА

?



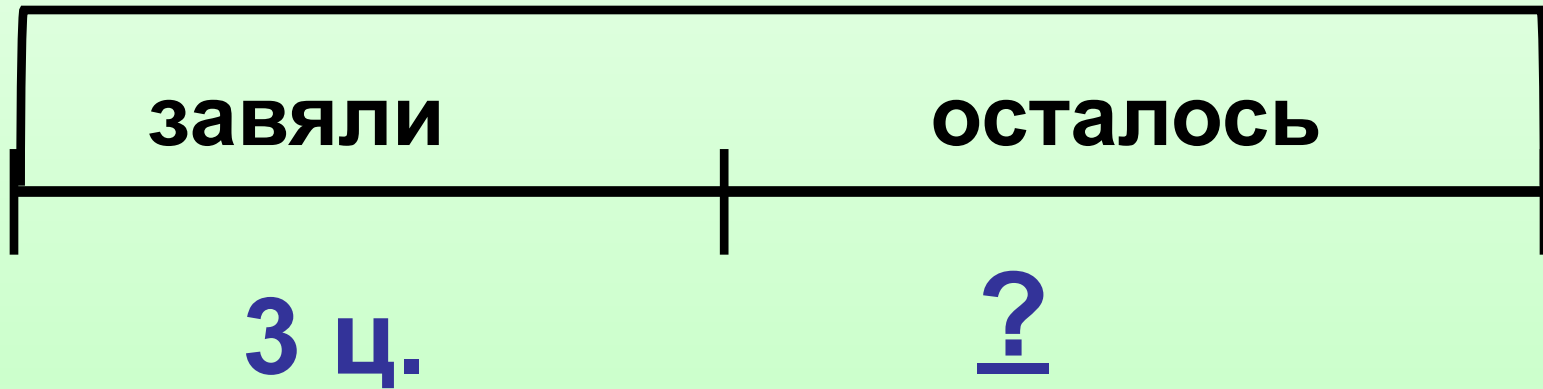
ЗАДАЧА.

$$4 + 2 = 6 \text{ (гр.)}$$

Ответ: 6 грибов.



9 ц.



$$9 - 3$$

выражение

$$9 - 3 = 6 \text{ (ц.)}$$

решение

Ответ: 6 цветов.