





Умножение




Что такое умножение?

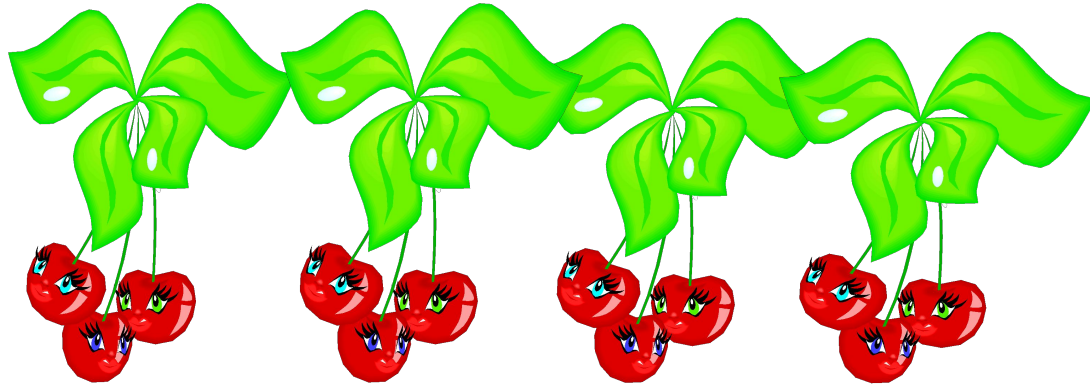
На каждой ветке по 3
вишенки.


Сколько вишенок на четырёх
веточках?





$$3 + 3 + 3 + 3 = 12 \text{ (B.)}$$





Сложение одинаковых
слагаемых можно заменить
новым действием - **умножением**

- $3 + 3 + 3 + 3 = 12$ (в.)
- $3 * 4 = 12$ (в.)
- Ответ: 12 вишенок на четырёх веточках.



По 3 взять 4 раза, получится 12

или

3 умножить на 4, получится 12

На каждом торте 2 свечи.

Сколько свечек на трёх тортах?





$$2 + 2 + 2 = 6 \text{ (с.)}$$

$$2 * 3 = 6 \text{ (с.)}$$

Ответ: 6 свечек на трёх
тортах.