

Муниципальное бюджетное общеобразовательное учреждение
средняя школа №12.

Л.Г. Петерсон, Н.П. Холина
«Раз – ступенька, два – ступенька...»
математика для детей 6 – 7 лет. Часть 2.

Воспитатели:
Копылова Наталья Станиславовна
Пидзамкив Ирина Богдановна

Л.Г. Петерсон, Н.П. Холина

«Раз – ступенька, два – ступенька...»

математика для детей 6 – 7 лет. Часть 2.

Тема: «Измерение площади»

Цель: 1. Закрепить прием сравнения фигур по площади с помощью мерки, познакомить с общепринятой единицей измерения площади- квадратным сантиметром.

2. Закрепить порядковый и количественный счет в пределах 9, смысл сложения и вычитания, умение переходить от действий с предметами к действиям с числами.


**Отгадайте загадки и
узнайте тему занятия**

?




п	л	о	щ	а	д	ь
----------	----------	----------	----------	----------	----------	----------





3	+	3	+	1	=	7
---	---	---	---	---	---	---




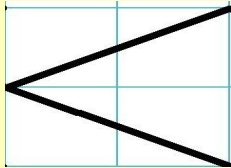


4	+	4	=	8
---	---	---	---	---



Сравните по площади передник и коврик




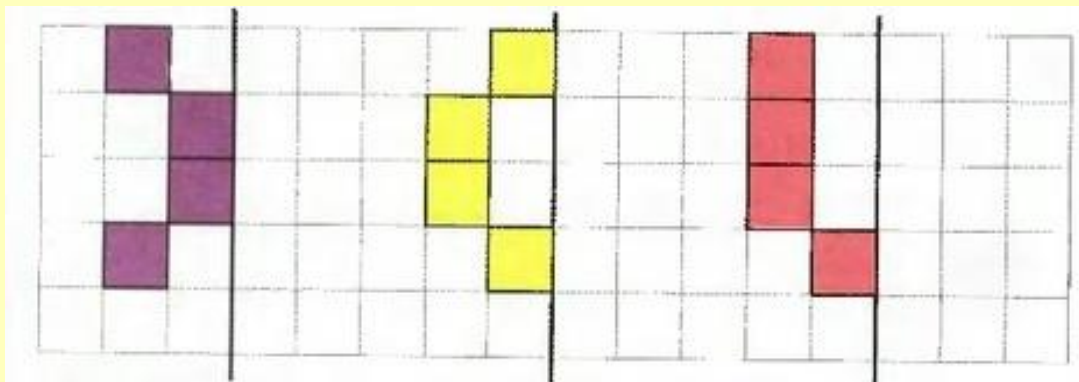
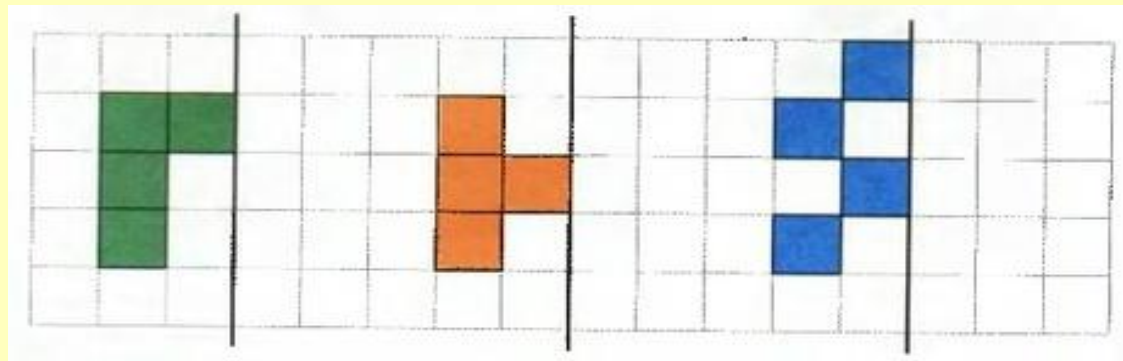

7		8
---	---	---

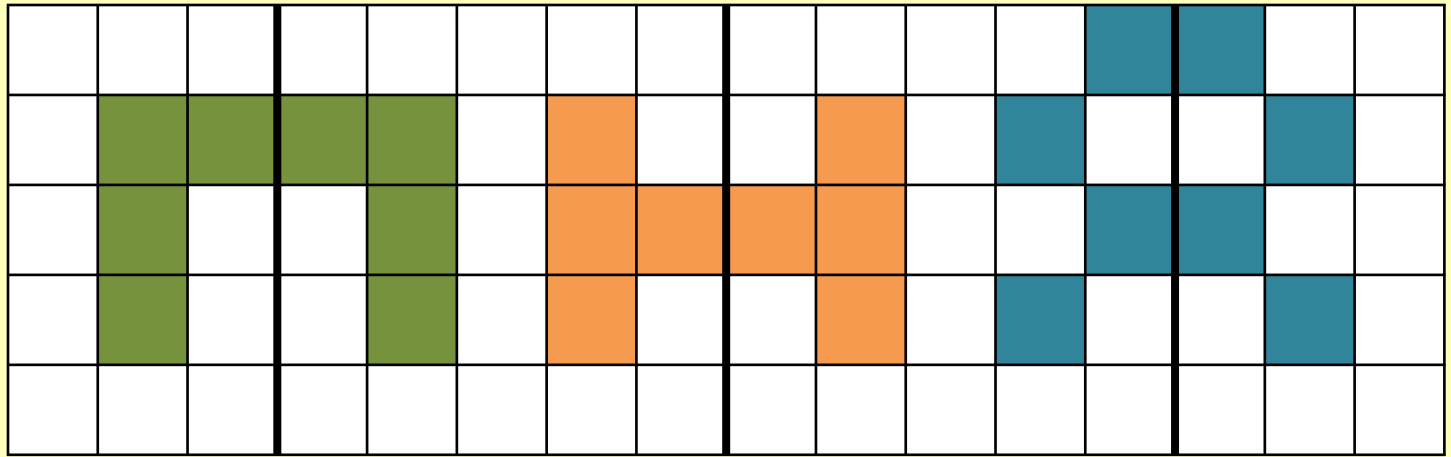




АНТРАКТ


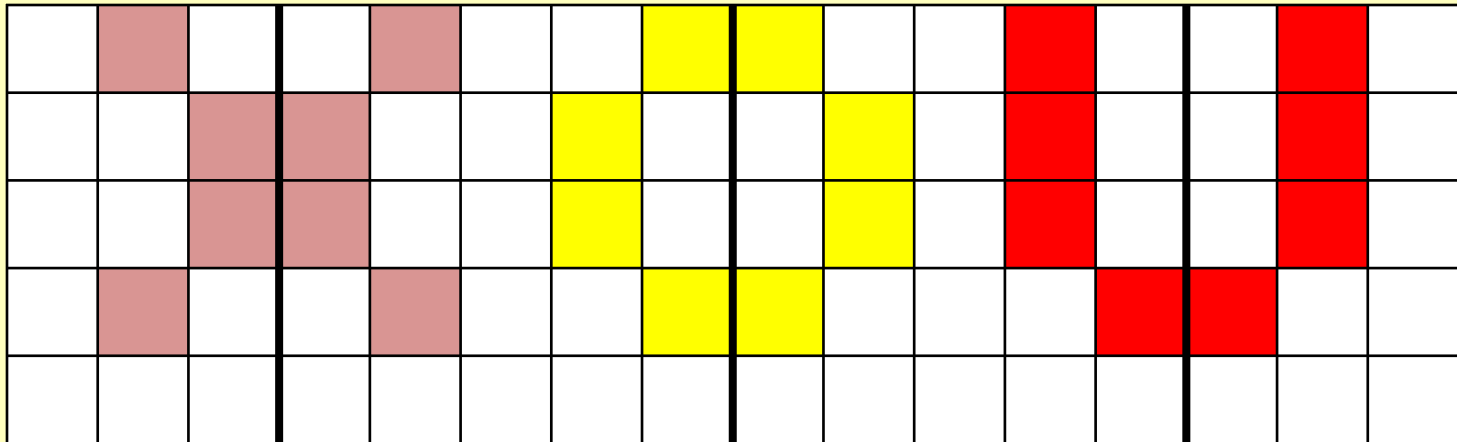
Вышел клоун на арену.
Поклонился всем со сцены.
Вправо, влево и вперед...
Поклонился всем как мог.
Хоть зарядка коротка.
Отдохнули мы слегка.



Игра «Зеркало»





 – квадрат-мерка





8

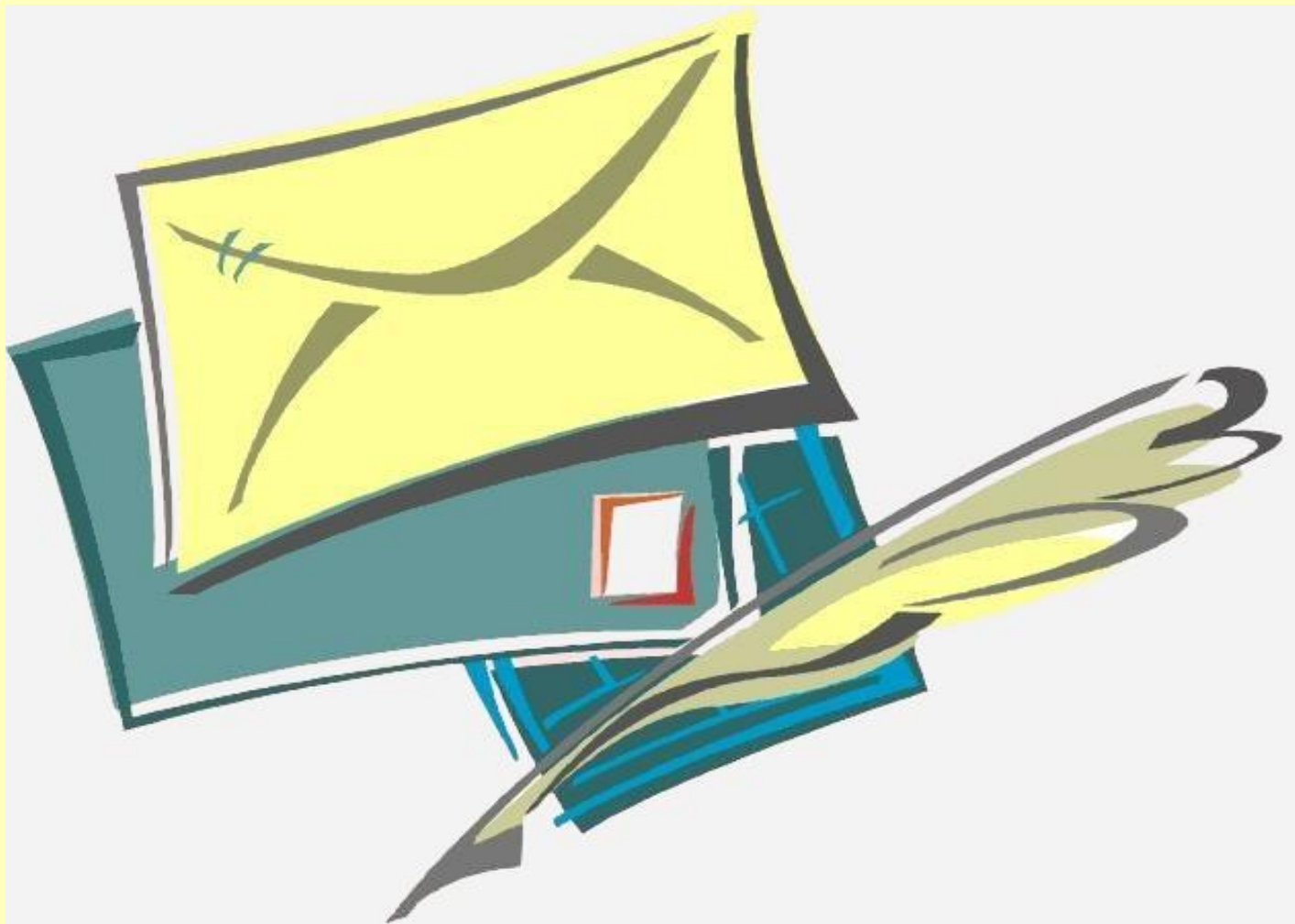
11


8




– **квадрат-мерка**

Игра «Письмо»






7



8



6

Игра «Билеты в цирк»



1	2	3	4	5	6	7	8	9
---	---	---	---	---	---	---	---	---

9	8	7	6	5	4	3	2	1
---	---	---	---	---	---	---	---	---

1	2	3	4	5	6	7	8	9
---	---	---	---	---	---	---	---	---

9	8	7	6	5	4	3	2	1
---	---	---	---	---	---	---	---	---


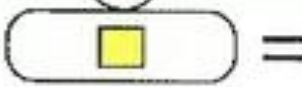







- Какое задание понравилось больше всего?
- Назовите тему занятия?
- Какой меркой мы измеряли площадь фигур?



Творческое задание от клоунов

Клоуны-жонглеры подготовили для вас новое интересное задание. Как вы думаете, что здесь надо сделать

The image shows three rows of visual math problems. Each row consists of a visual equation followed by a numerical equation. The visual equations use rounded rectangular containers with a small hook on top. The first row shows a container with three circles (one green, two red) plus a container with one yellow square, equal to an empty container. The second row shows a container with four shapes (one green, two red, one yellow square) minus a container with three circles (one green, two red), equal to an empty container. The third row shows a container with four shapes (one green, two red, one yellow square) minus a container with one yellow square, equal to an empty container.

	+		=		$3 + 1 = \square$
	-		=		$4 - 3 = \square$
	-		=		$4 - 1 = \square$

