





Геометрические фигуры

Стрельцова Е.Е.

Воспитатель МАДОУ ЦРР д/с №50

Г.Калининград

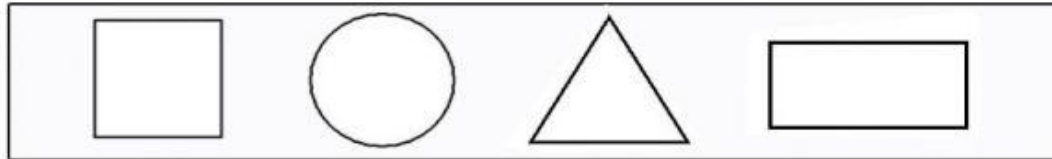


До или После.
Выполни задание с
геометрическими фигурами.

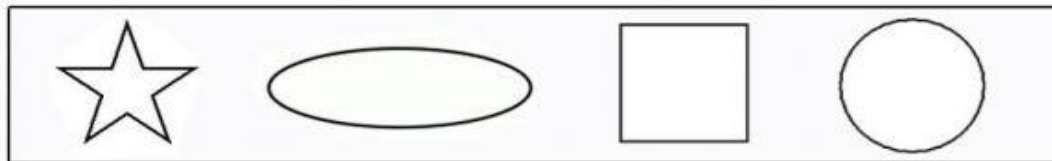
Дата: _____

Имя: _____

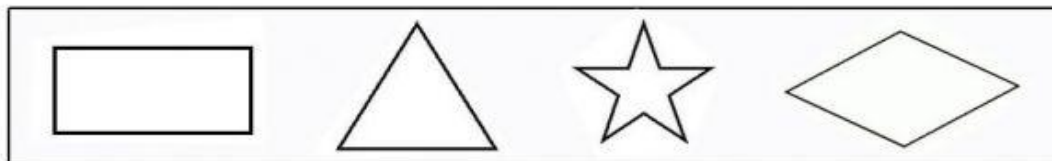
Какая геометрическая фигура стоит до круга?



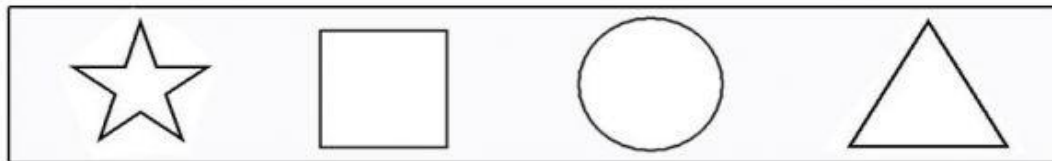
Какая геометрическая фигура стоит после овала?



Какая геометрическая фигура стоит после звезды?



Какая геометрическая фигура стоит до треугольника?




ГЕОМЕТРИЧЕСКИЕ ФИГУРЫ

ПЛОСКИЕ


КВАДРАТ



КРУГ



ТРЕУГОЛЬНИК



ОБЪЁМНЫЕ

КУБ



ШАР



КОНУС



ПАРАЛЛЕЛЕПИПЕД




ЦИЛИНДР



ПИРАМИДА







ШАР



КРУГ



КУБ



КВАДРАТ



ПИРАМИДА



ТРЕУГОЛЬНИК



ЦИЛИНДР



ПРЯМОУГОЛЬНИК



КОНУС



ТРЕУГОЛЬНИК



На какое геометрическое тело похожи предметы?





МАТЕМАТИКА: Шар за шаром (4 - 5 клас)
ОБЪЕМНЫЕ ФОРМЫ



шар



куб



брусок



цилиндр



конус



5. Назови эти геометрические фигуры. Соедини каждую фигуру с предметом, который на неё похож.

