

Математический поезд



Станция



Математическая разминка

Задачи
от






**НУ,
ПОГОДИ!**

**3
балла**



Летела стая гусей,
а навстречу им гусак.
– Здравствуйте, 20 гусей!
– Нет, нас не 20.
Если бы нас было
в 2 раза больше,
да еще 3 гуся,
да еще ты с нами,
тогда нас было бы 20.

Сколько было гусей?



**Составь слова, исключи
лишнее:**

**врачук, елм, овгуркиз,
шаандакр**





Я задумал число,
разделил на него
число 14 168 и
получил 92.

Какое число я
задумал?



Станция «

СЧИТАЙ, ДУМАЙ!
Снидайка»

5

баллов

Задача

На квадратном огороде, периметр которого 80 метров, посадили на цепь собаку и прикрепили цепь к столбу, торчащему в центре огорода. Длина цепи 9 м 70см.

Длина собаки от ошейника до передних зубов 30 см.



4
балла

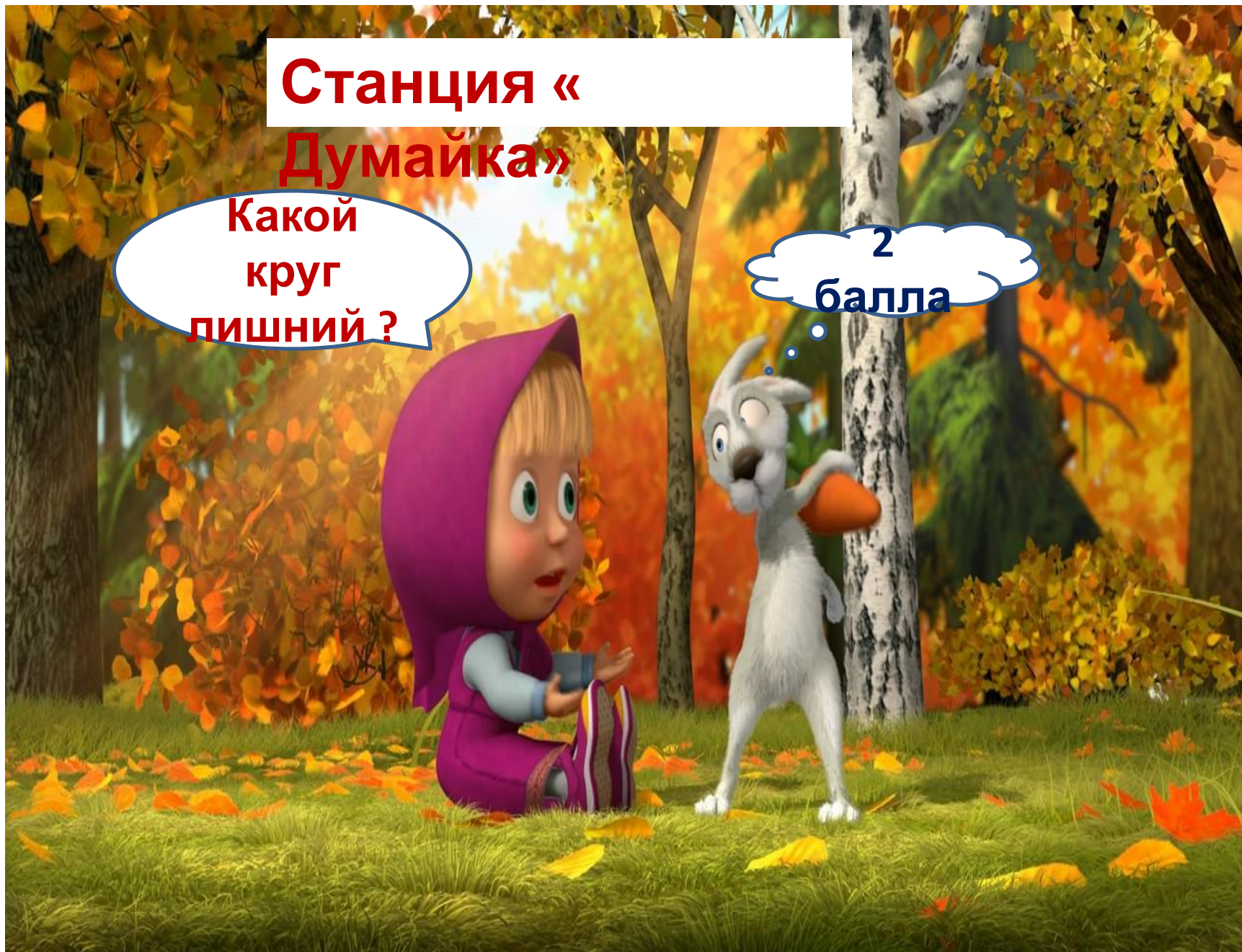
**На дворе ходят гуси и лошади.
У всех вместе 10 голов и 26
ног.**

**Сколько гусей и сколько
лошадей?**

Станция « Думайка»

Какой
круг
лишний?

2
балла





2	54
6	18

4	13
7	10

3	81
9	27


5	135
15	45

**Станция
«Ребусная»**

5

баллов





K=4



2,3,4



3,2,1

OK



““““



© detskiy-sait.ru



4,2



у=р



A colorful illustration of a bee and a butterfly in a garden. The bee, on the left, is wearing a white apron and yellow boots, holding a small blue bowl. The butterfly, on the right, is yellow and orange, also holding a small blue bowl. They appear to be engaged in a conversation or a game. The background shows green leaves and a blue sky.

**Станция «
Угадайка»**

**2
балла**

Задача

**Попрыгунья Стрекоза половину времен
каждых суток лета спала, третью часть суток –
танцевала, шестую часть- пела. Сколько часов
она готовилась к зиме?**

Молодцы!

