

# Математика

## 1 класс



4

ЛИПА


=

4

ПИЛА



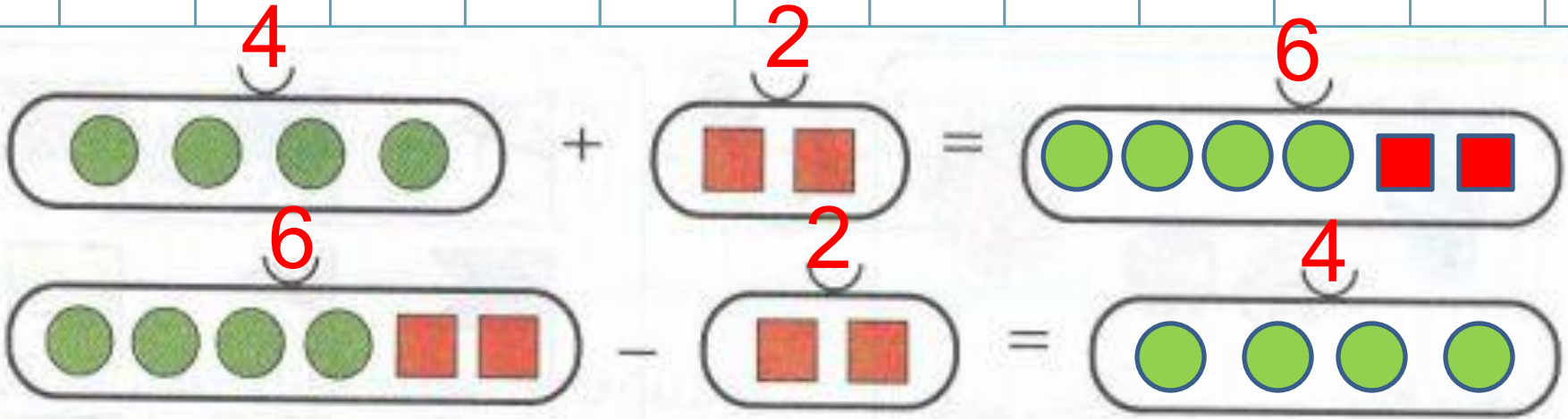
1 Выше, ниже



2 Наверху, внизу

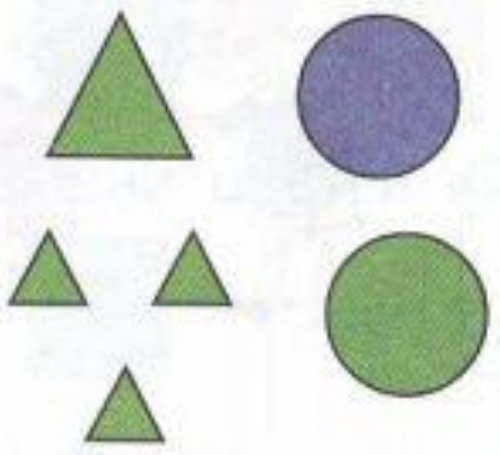


3



4 Разбей на группы и составь равенства:

а) по форме



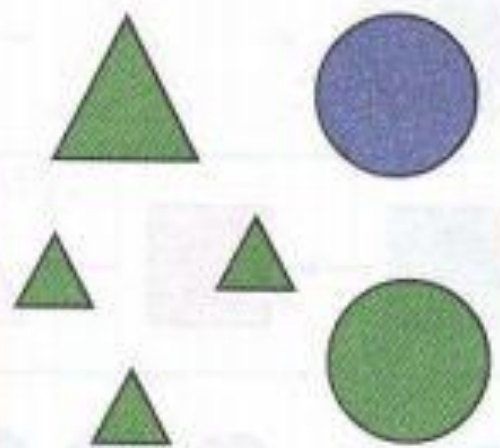
$$T + K = \Phi$$

$$K + T = \square$$

$$\Phi - T = \square$$

$$\Phi - K = \square$$

б) по цвету



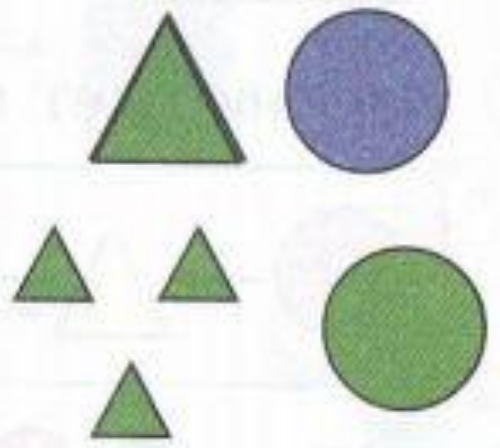
$$C + З = \square$$

$$З + C = \square$$

$$\Phi - C = \square$$

$$\Phi - З = \square$$

в) по размеру



$$Б + М = \square$$

$$\square + \square = \square$$

$$\Phi - Б = \square$$

$$\Phi - \square = \square$$

# Физминутка



6) Найди закономерность и поставь точки в пустые квадраты:

