


**ДОБРЫЙ  
ДЕНЬ!**

# Устный счет

■ Выполните вычисления.


■  $32 * 2$      $82 - 18$      $8 * 8$

■  $45 + 19$      $16 * 4$      $24 * 3$




СКОЛЬКО ДЕСЯТКОВ И  
СКОЛЬКО ЕДИНИЦ В  
ЧИСЛЕ 72?

- 7 десятков 2 единицы



Назовите соседей  
числа 72?

- числа 71 и 73
- 



Число 72 четное или  
нечетное?




- число четное



Назовите множители  
числа?

■ числа 8 и 9






Назовите разрядные  
слагаемые?

■ 70 и 2





Назовите делители  
числа 72?

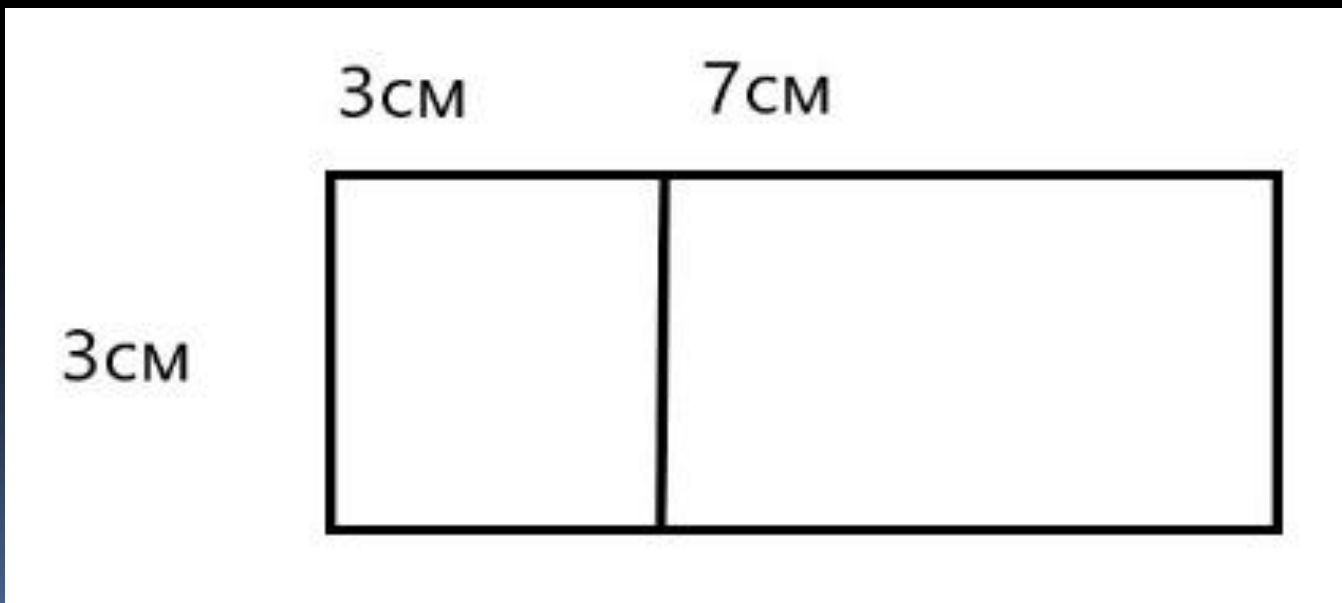
■ 2, 3, 4, 6, 12






Сколько прямоугольников на рисунке?

Вычислите площадь каждого из них.



# Решение:

1.  $3\text{см} * 3\text{ см} = 9\text{см}$  в квадрате
2.  $3\text{см} * 7\text{см} = 21\text{ см}$  в квадрате




Тема урока:  
«Наши проекты»



**Цель урока:**

**ПОДГОТОВИТЬ К ВЫПОЛНЕНИЮ  
проектной работы;**



Моему братишке каждую неделю покупают по 2 игрушки .

Цена игрушек 50 и 100 рублей. Мы должны найти сколько игрушек купили за год и сумму потраченную на НИХ

- Нам известно, что в году 365 дней. Значит мы можем найти количество недель в году  
 $365:7=52$  (нед.)
- Далее найдем сколько игрушек купили за год:  
 $52*2=104$ (игрушки)
- Теперь посчитаем сколько денег потрачено:  $(100+50) * 104=15600$  (руб ).